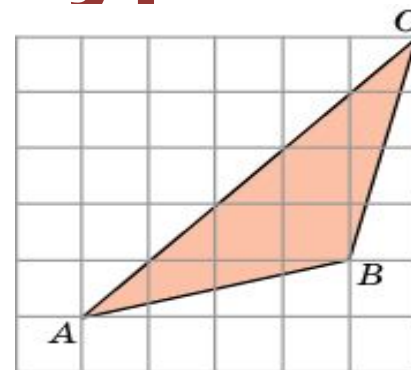
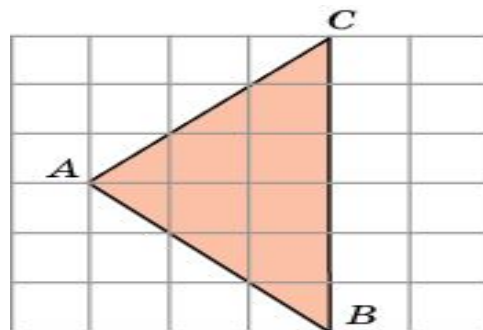
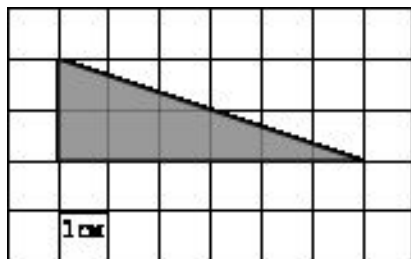








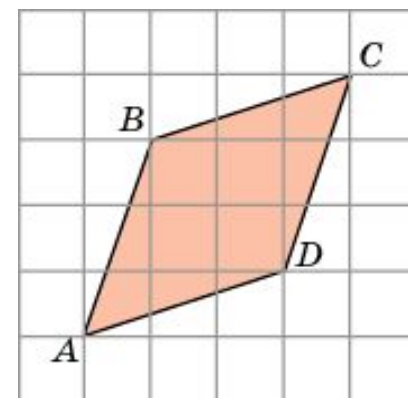
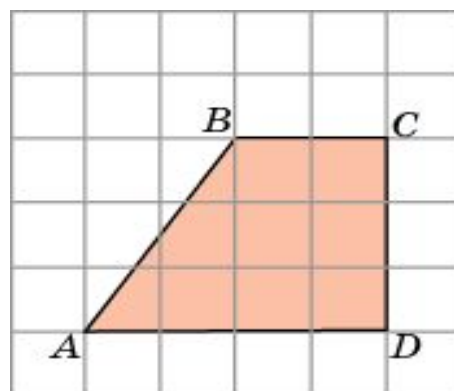
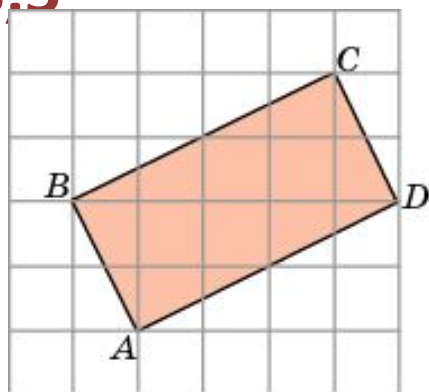
Найти площади фигур



A- 12 M- 6 B- 8
8,5

H- 9 O- 6 K- 18

P- 9 E- 7,5 O-



A- 9 M- 10 B- 12

Б- 12 M- 24 B- 18



H- 10 O- 12 A- 8



Мнемба

-один из самых экзотических островов мира





Математика

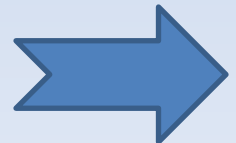
Сырок стоит 7 руб. 30 коп. Какое наибольшее число сырков можно купить на 70 рублей?

$$7 \text{ руб } 40 \text{ коп} = 7,4 \text{ руб}$$

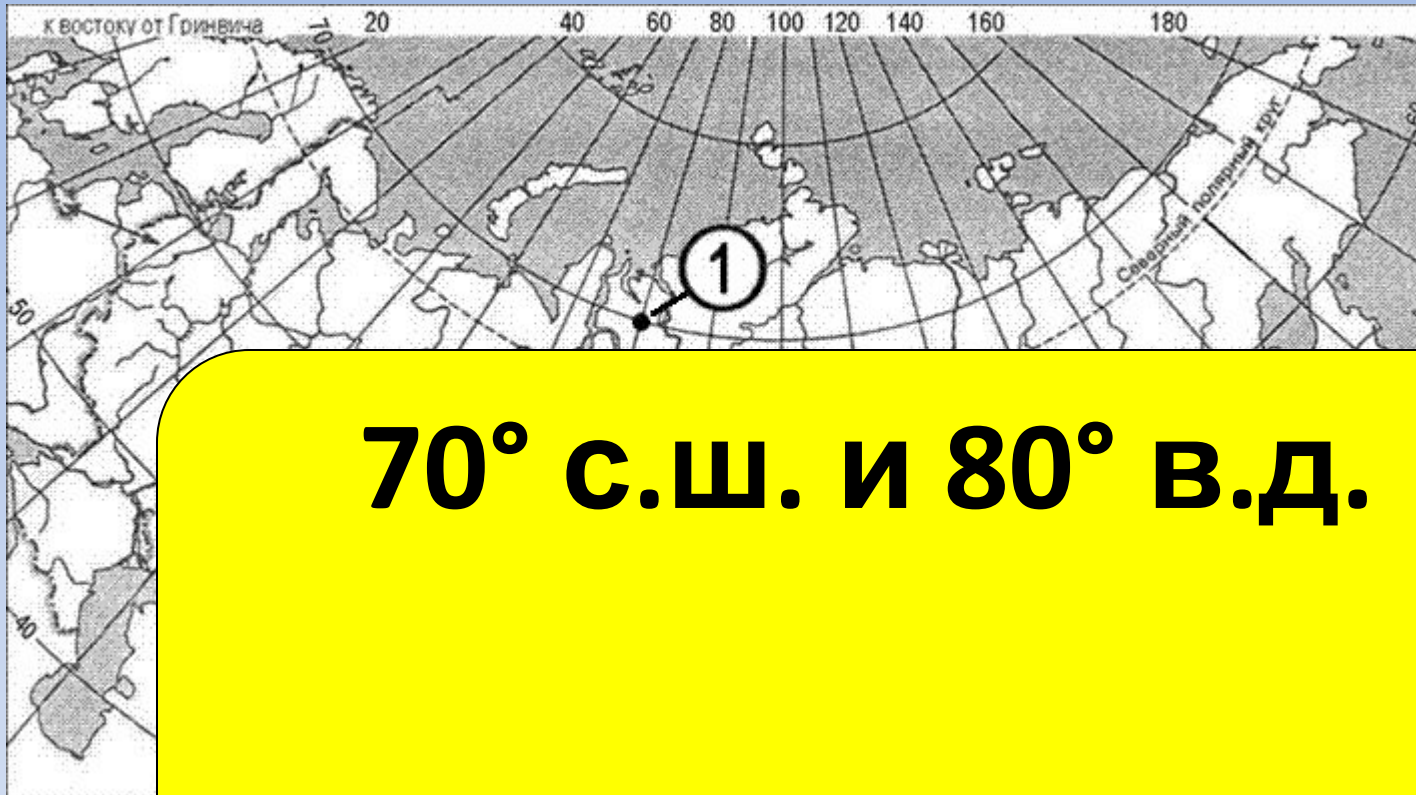
$$70 : 7,4 \approx 9,45 \dots$$

Ответ: 9 сырков.

Проверка




География



70° с.ш. и 80° в.д.

Какие

имеет температура, обозначенная на карте цифрой 1?



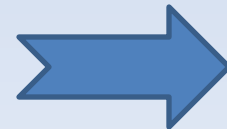
Математика

Больному прописано лекарство,
которое
нужно пить по 0,25 г 3 раза в день в
течение
18 дней. Лекарство выпускается в

по
колич

$3 \cdot 18 = 54$ (таблетки) - курс лечения
 $54 : 8 = 6,75$ (упаковок)
Ответ: 7 упаковок

Проверка




География

На границе с каким государством расположена крайняя южная точка России?

1. Китай
2. Турция

Азербайджан



Математика

Теплоход рассчитан на 1000 пассажиров и 30 членов команды. Каждая спасательная шлюпка может вместить 50 человек. Какое наименьшее число шлюпок

должно

быть на теплоходе, чтобы все пассажиры и члены команды были обеспечены спасательными шлюпками?

всех пассажиров и членов команды?

$1000+30=1030$ (п) всего людей на теплоходе.

$1030:50 \approx 20,6$

Ответ: 21 шлюпка.

Проверка

КОМУ ДАТЬ?



География

С каким из перечисленных государств Россия имеет только морскую границу?

1. США


США





Что в черном ящике?

жители
тропических
стран
считают его
"подарком с
небес".



КОКОС

