



**МАТЕМАТИКА –  
ҒЫЛЫМДАРДЫҢ  
ПАТШАСЫ**



**Математика сырлары,  
Қызықтырды біздерді.  
Сабақта бірге болуға,  
Шақырамыз сіздерді.**





WIKING UNIVERSITY






**“Математика  
әлеміне”  
қош  
келдіңіздер!**



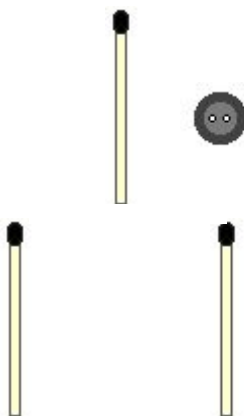


# I тур

## “ҚЫЗЫҚТЫ басқатырғылар”



- Екі тал шырпыны қозғау арқылы түймені қалақтың ішіне салыңдар.



- **Үш тал шырпыны қозғай отырып ,  
4 үшбұрыш шығар.**




- **Есепті дұрыс шығатындай етіп  
1 тал шырпыны қозға.**

The background features four large, 3D-style numbers: a red '5' in the center, an orange '9' to the right, a green '3' to the left, and a cyan '1' at the bottom right. The text is overlaid on these numbers.

II тур «Сырлы сандар әлемі»



**“+”, “-”, “x”, “:”  
амалдарын қолдану  
арқылы есептің мәні  
дұрыс болатындай етіп  
шешіңдер.**



I топ

$$7 \dots 2 \dots 8 = 22$$

$$14 \dots 2 \dots 5 = 35$$

$$200 \dots 2 \dots 4 = 104$$

II топ

$$5 \dots 3 \dots 6 = 21$$

$$72 \dots 8 \dots 1 = 10$$


$$630 \dots 9 \dots 24 = 46$$

III топ

$$6 \dots 3 \dots 9 = 11$$

$$54 \dots 9 \dots 1 = 5$$

$$90 \dots 3 \dots 40 = 230$$



**III тур**  
**“Тапқыр болсаң  
шешіп көр”**





**I топ.** Торда 12 құс отыр. Оның 11-нен басқасы ұшып кетті. Торда қанша құс қалды? **11 құс**



**II топ.** Ағаш үстінде 100 торғай отырды. Аңшы 10 торғайды атып алды. Торғайлардың қаншасы қалды? **10 торғай қалды, ал қалғаны ұшып кетті**



**III топ.** Қосарланып жегілген үш ат бір сағаттың ішінде 12 км жол жүрді. Осы уақыттың ішінде бір ат қанша жол жүрген? **12 км**

## **I топ**

**Атам, әжем, ағаммен,  
Әкем, інім және мен,  
Анам және енесі,  
Енесінің бөлесі,  
Отыр едік шай ішіп  
Жеңгем келді майысып  
Арқасында кіші інім  
Саны қанша айта ғой  
Үйдегі бар кісінің?**





## **ІІ топ.**

**Төрт аяғын тең басқан.  
Шұнақ құлақ бес ешкі,  
Екі лак, қос ешкі,  
Екі қозы, екі қой  
Бәрін бірге санап қой.**



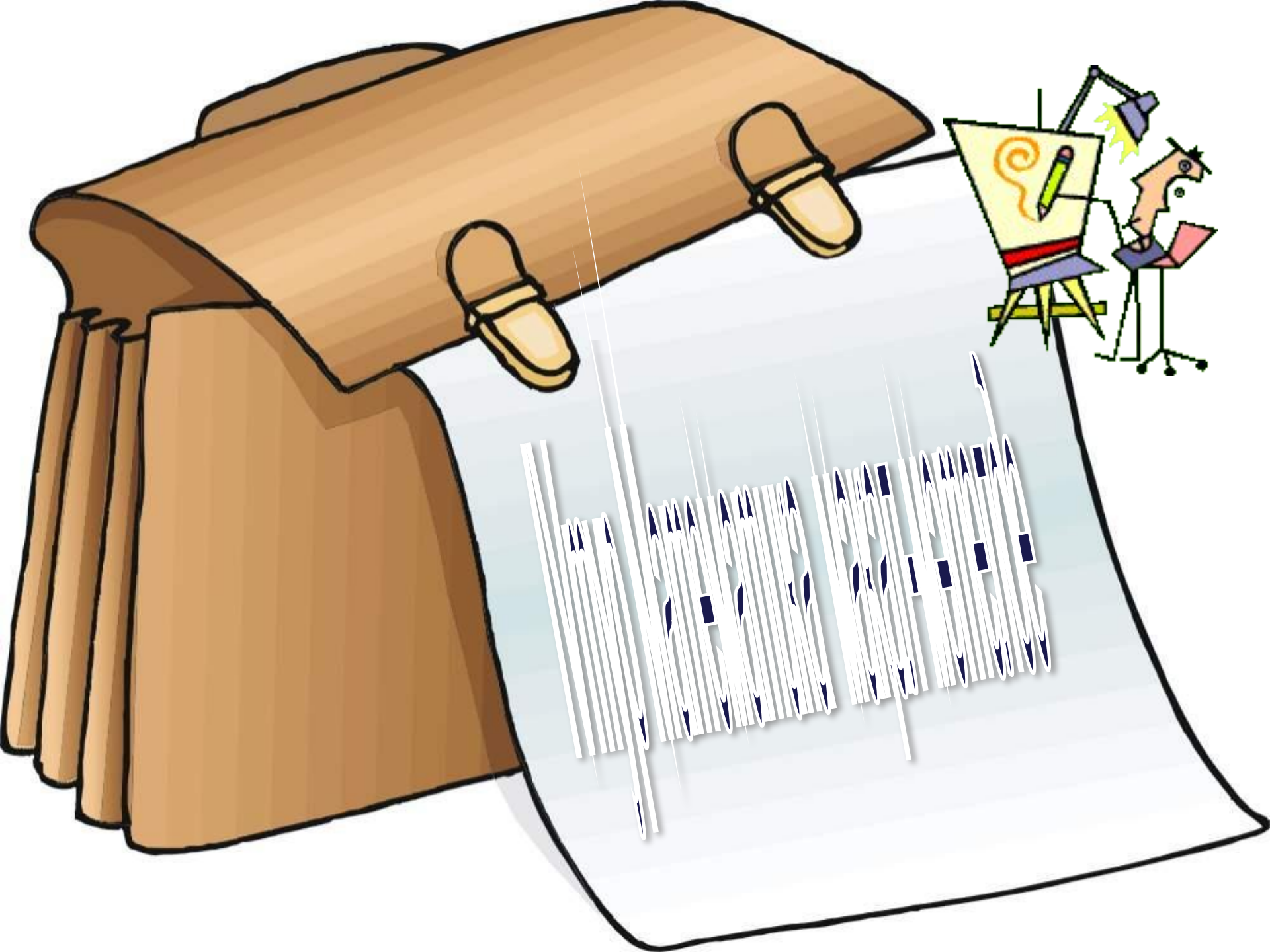




## **ІІІ топ.**

**Бес бұтақты ағашта  
Бұтақ сайын бес алма.  
Біреуін бер Алашқа,  
Қалды сонда қанша  
алма?**





## ***I топ.***

***1. Бір тал кессең , ....***

***2. Алтау ала болса,  
ауыздағы кетеді ....***

***3. Білгенің бір тоғыз...***





## **II топ.**

**1. Жеті рет өлшеп,.....**

**2. Жүз сом ақшаң  
болғанша, ...**

**3. Білекті бірді  
жығады, ...**




## III топ.

1. *Екі кемеңің басын ұстаған ....*

2. *Ер кезегі .....*

3. *Ана бір қолымен бесік тербетсе ...*



Шығармашылық  
жұмыс”



Тақырыбы:  
“Математика  
сабағы”

# Жарайсыңдар!

