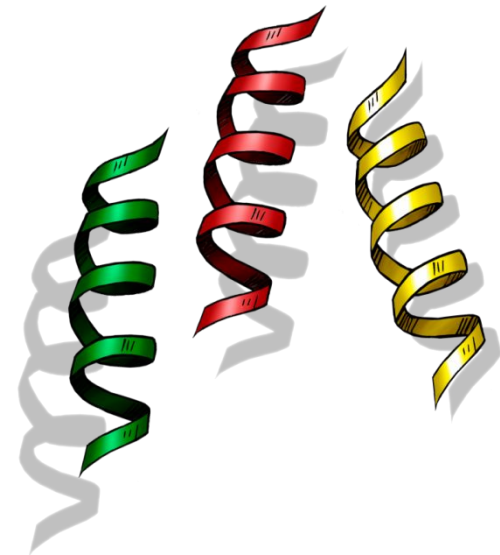
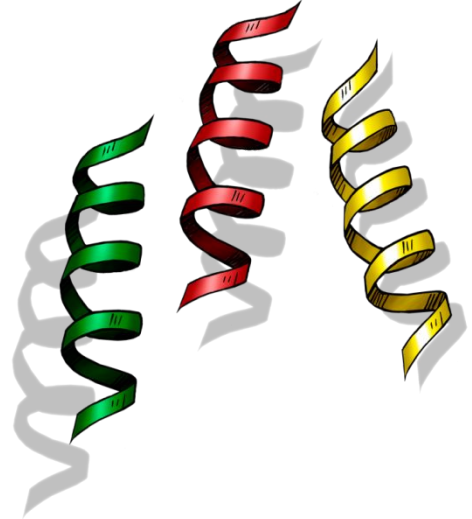



Н
О
В
О
Г
О
Д
Н
И
Й



М
А
Т
Е
М
А
Т
И
Ч
Е
С
К
И
Й

СЕРПАНТ





Проверь себя!

6 5 7 10 9 8



Реши задачу!

Для украшения ёлки купили 4 красных шара, а синих шаров на 3 больше.

Сколько синих шаров купили?

Проверь себя!

$$4 + 3 = 7 \text{ (ш.)}$$

Ответ: 7 ш.



Начерти и реши задачу!

- Начерти зелёный отрезок длиной 7 сантиметров, синий отрезок – длиной 3 сантиметра.
- Узнай на сколько сантиметров зелёный отрезок длиннее синего.

Проверь себя!

$$7 - 3 = 4 \text{ (см)}$$

Ответ: на 4 см



Реши неравенства.

$$3 * 8$$

$$5 + 2 * 3$$

$$7 * 9$$

$$8 * 5 + 3$$

$$10 * 0$$

$$6 - 2 * 3$$

$$9 * 6$$

$$7 * 4 + 3$$



Реши примеры

$$10 - 2 = 8$$

$$4 - 3 = 1$$

$$5 + 3 = 8$$

$$3 + 6 = 9$$

$$6 - 3 = 3$$

$$7 - 3 = 4$$



Найди ошибки!

$$5+3=8$$

$$6-2=4$$

$$7-2=5$$

$$8-3=5$$

$$3+2=5$$

$$9-3=6$$



Реши задачу!

Дед Мороз на празднике в детском саду раздал 6 подарков мальчикам и 4 подарка девочкам. Сколько всего подарков раздал Дед Мороз?

$$6 + 4 = 10 \text{ (п.)}$$

Ответ: 10 п.



Внимание!

ДЕКАБРЬ 2018

На каникулы
школьники
отправились 29
декабря.

ПОНЕДЕЛЬНИК	ВТОРНИК	СРЕДА	ЧЕТВЕРГ	ПЯТНИЦА	СУББОТА	ВОСКРЕСЕНЬЕ
					1	2
3	4	5	6	7	8	9
10	11	12	13	14	15	16
17	18	19	20	21	22	23
24	25	26	27	28	29	30
31						

В школу на занятия
нужно прийти 9
января.

ЯНВАРЬ 2019

ПОНЕДЕЛЬНИК	ВТОРНИК	СРЕДА	ЧЕТВЕРГ	ПЯТНИЦА	СУББОТА	ВОСКРЕСЕНЬЕ
	1	2	3	4	5	6
7	8	9	10	11	12	13
14	15	16	17	18	19	20
21	22	23	24	25	26	27
28	29	30	31			

Сколько дней
длятся новогодние
каникулы?

11

ДНЕЙ





С Н О В В Ы М Г О Д Д О

**составила: Кислицына О.В.
учитель начальных классов
высшая кв. категория**