

РЕШЕНИЕ

ЗАДАЧ

1 класс




В зоопарке было 5
пингвинов, а сов на 2
меньше.
Сколько в зоопарке сов?

$$5 - 2 = 3$$




Синих бабочек было 6,
а белых на 1 больше.
Сколько было белых
бабочек?

$$6 + 1 = 7$$



На поляне ползало 4 улитки,
а божьи коровок на 3 меньше.
Сколько ползало божьих
коровок?

$$4 - 3 = 1$$



Нюш было 3 и 2 кроша.
Сколько всего было
героев?



$$3 + 2 = 5$$



Выросло 4 белых гриба
и 2 красноголовика.

Сколько всего грибов
выросло?

$$4 + 2 = 6$$



На поляне выросло 4 мака.
Через неделю 2 мака
завяли.

Сколько маков осталось?

$$4 - 2 = 2$$



На лугу было 4 ромашки и 6
маков.

На сколько маков было больше?

$$6 > 4$$

$$6 - 4 = 2$$



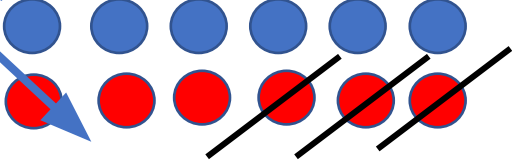
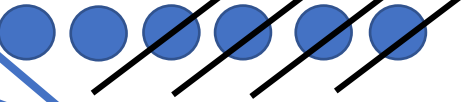





В поле росло 3 подсолнуха и 5 одуванчиков.

На сколько меньше было подсолнухов?

$$5 - 3 = 2$$

$$5 > 3$$

<p>В магазин привезли 6 мешков картофеля, а моркови <u>на 3 мешка меньше</u>. Сколько привезли моркови?</p>	
<p>Оля прочитала 3 сказки, а стихов <u>на 2 больше</u>. Сколько стихов прочитала Оля?</p>	
<p>Дети сделали 5 открыток и 3 поделки. <u>На сколько меньше</u> дети сделали поделок?</p>	
<p>На дереве сидело 6 птичек. <u>Кот спугнул</u> их и 4 птички улетело. Сколько птиц осталось на ветке?</p>	
<p>Под елкой было 2 ежика. К ним прибежали еще 3 ежа. <u>Сколько</u> всего ежей было под елкой?</p>	
<p>На столе поставили 6 чашек и 4 блюда. <u>На сколько больше</u> было чашек?</p>	
<p>В лесу жили 2 медведя и 6 лисичек. Сколько <u>всего</u> зверей жило в лесу?</p>	

СПАСИБО ЗА УРОК