



5



7



3



Урок математики
по теме
«Единицы времени.
Час. Минута».



5



7



3



Ну – ка проверь, дружок,

Ты готов начать урок?

Все ль на месте, все ль в порядке,

Ручка, книжка и тетрадка?

Все ли правильно сидят?

Все ль внимательно глядят?

Каждый хочет получать

Только лишь оценку «5».

Пожелаем всем удачи –

За работу, в добрый час!



5



7



3



План урока

- *Устный счет*
- *Работа в группе*
- *Новое понятие*
- *Работа в рабочей тетради*
- *Решение задачи*
- *Самостоятельная работа.*





Найди правильный ответ

30	45	71	76	3	24	89	2	8
95	67	37	88	25	22	75	90	17
92	77	43	12	65	20	39	82	53
12	96	35	84	11	7	96	32	5



5



7



3



!

БЕЗ ОШИБОК

+

1-2 ОШИБКИ

-

БОЛЬШЕ ДВУХ ОШИБОК



Составь слово

30	45	71	76	VI	24	89	2	И
95	67	37	88	25	22	75	90	17
92	77	43	14	65	20	39	82	53
12	96	35	84	11	7	96	32	51



Восстанови текст

5

Длина удава 5 м.



Длина ушей зайца 13 см.

7

Длина муравья 6 мм



За лето суслик съедает 6 кг зерна.

3

Корова за один удой дает 4 л
молока.





5



7



3



!

БЕЗ ОШИБОК

+

1-2 ОШИБКИ

-

БОЛЬШЕ ДВУХ ОШИБОК



5



7



3



Величины





5



7



3



**Что летит
быстрее мысли
и не имеет ни
начала, ни
конца?**





Тема урока: Единицы времени

Цель урока:

- *Познакомиться с.....*
- *Узнать о*
- *Научиться решать...*

5




7



3





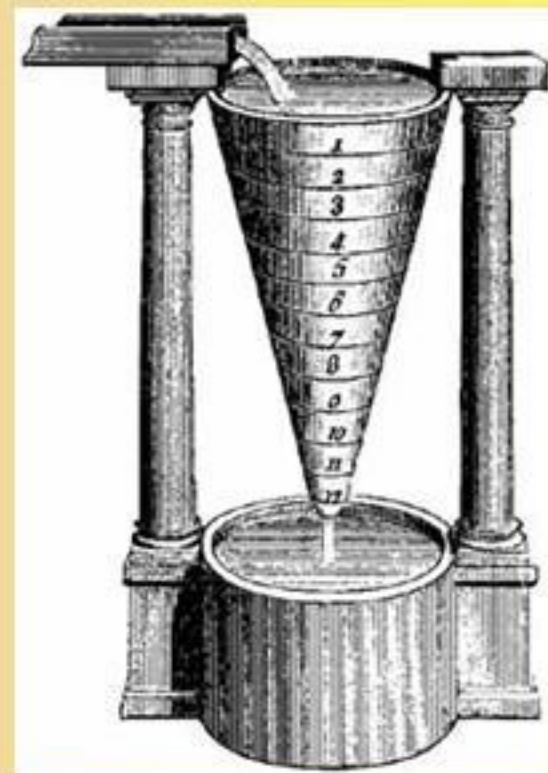
В древнем Китае существовали, например «часы», которые были сделаны из пропитанных маслом веревок, на которых были завязаны узлы. Такой шнурок поджигали, каждый раз, когда пламя достигало узла, проходил определенный отрезок времени.

Солнечные часы



Первый простейший прибор для измерения времени — солнечные часы — был изобретен вавилонянами примерно 3,5 тысячи лет назад.

Водяные часы



Наряду с солнечными часами уже во 2-м и 1-м тыс. до н. э. в Индии, Египте, Китае и Греции строились водяные часы, которые показывали время и днём, и ночью. В Вавилоне такие часы были в ходу еще 2050 лет тому назад.


Песочные часы

Песочные часы - один из самых древних приборов для определения времени. Они состоят из двух грушевидных емкостей, соединенных между собой узкими концами.



Цветочные часы





часы на Спасской башне




5



7



3



1 час = 60 мин.



5



7



3



!

БЕЗ ОШИБОК

+

1 ОШИБКИ

-

БОЛЬШЕ ОДНОЙ ОШИБКИ



Проверь

5

$$30 - 10 = 20 \text{ (мин.)}$$

Ответ: 20 минут заняла вторая партия



7

1) $30 - 10 = 20$ (мин.) - заняла вторая партия

2) $30 + 20 = 50$ (мин.)



3

Ответ: 50 минут заняли обе партии





5



7



3



!

БЕЗ ОШИБОК

+

БЫЛИ НЕДОЧЕТЫ

-

НЕ СПРАВИЛСЯ





5



7



3



Добросовестный	Внимательный	Наблюдательный
<p>Какое время покажут часы через 10 мин, если сейчас 1 час 25 мин 2 часа 55 мин 6 часов 40 мин</p>	<p>Самолет летит из Москвы в Санкт-Петербург 1 час, а обратно 60 мин. На сколько больше времени он затрачивает на обратный путь?</p>	 <p>Узнай какое время показывают часы.</p>



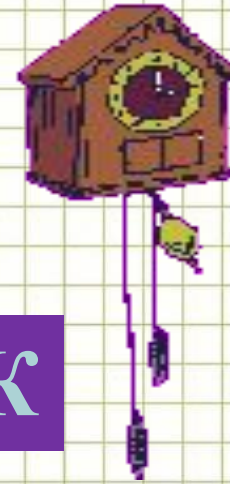
5



7



3



!

БЕЗ ОШИБОК

—

НЕ СПРАВИЛСЯ



5



3



Домашнее задание

стр. 32-33 рабочая тетрадь.

№ 12, 15, 16(по желанию)

Принести **циркуль**





П

Минута час
бережет.

Делу- время,
потехе- час.



З



Поздно поднялся -
день потерял, в
молодости не учился -
жизнь потерял.





5



7



3



Итог урока:

- *Познакомились с.....*
- *Узнали о*
- *Научились решать...*



5



7



3



Береги свое и
чужое время!