



МАТЕМАТИЧЕСКИЙ КВН 2, 3 4 КЛАСС



РАЗМИНК

А
1 команда

ДВЕ САРДЕЛЬКИ ВАРЯТСЯ 6 МИНУТ.
СКОЛЬКО ВРЕМЕНИ ВАРЯТСЯ
8 ТАКИХ ЖЕ САРДЕЛЕК?

ОТВЕТ



РАЗМИНК

2 команда

**Шла девочка в Москву и повстречала
трёх мальчиков. Каждый из них нёс
по мешку. В каждом мешке по коту.
Сколько существ направлялось в Москву?**

ОТВЕТ

Д



РАЗМИНК

3 команда

Пять лампочек тускло горели в люстре.

Хлопнули двери, две перегорели.

**Сделать нужно вам малость –
Сказать, сколько ламп осталось?**

ОТВЕТ

ПЯТЬ



УГАДАЙ ЦИФРУ 1

команда

Вид её – как запятая.

Хвост крючком, и не секрет:

Любит всех она лентяев,

А ее лентяи – нет.

2

УГАДАЙ ЦИФРУ 2команд

Не похож он на пятак, а
Не похож на бублик,
Круглый он, да не дурак,
С дыркой, да не бублик.

0

УГАДАЙ ЦИФРУ

КОМАНДА

**У кого одна нога,
Да и та без башмака?**

7

РЕБУС

Ы команда

ПРЕ 100 Л

П Л

АК 3 СА

А А

2 команда

100 ЛИЦА

С А

ПА 3 ОТ

П Т

РЕБУС

3 команда

100 ЛБ

ОТВЕТ

ЛИ 100 К

ОТВЕТ

3 команда

ПИ 100

ОТВЕТ


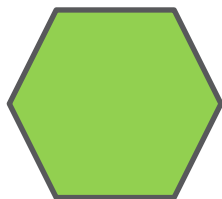



ПО 2 Л

ОТВЕТ

КОНКУРС БОЛЕЛЬЩИКОВ






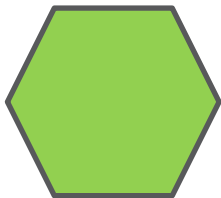
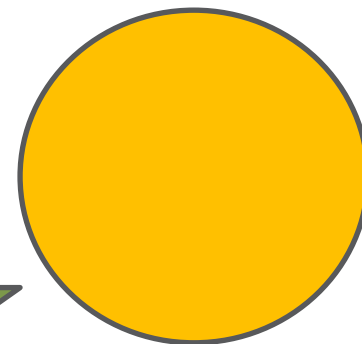

ГЕОМЕТРИЧЕСКИЕ ФИГУРЫ



ГЕОМЕТРИЧЕСКИЕ ФИГУРЫ

1






команда



ГЕОМЕТРИЧЕСКИЕ ФИГУРЫ


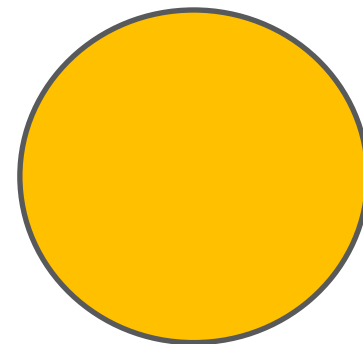

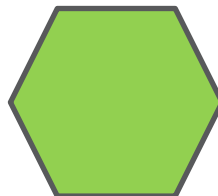

2

команда

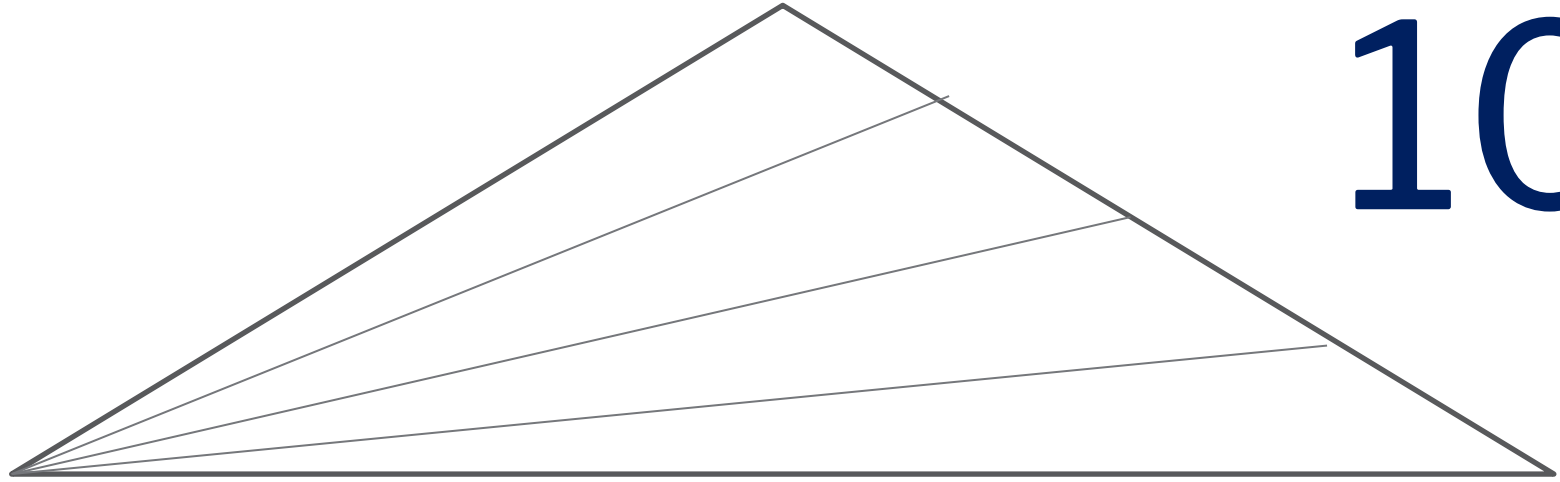


ГЕОМЕТРИЧЕСКИЕ ФИГУРЫ

3



**СКОЛЬКО ВСЕГО
ТРЕУГОЛЬНИКОВ?**



10



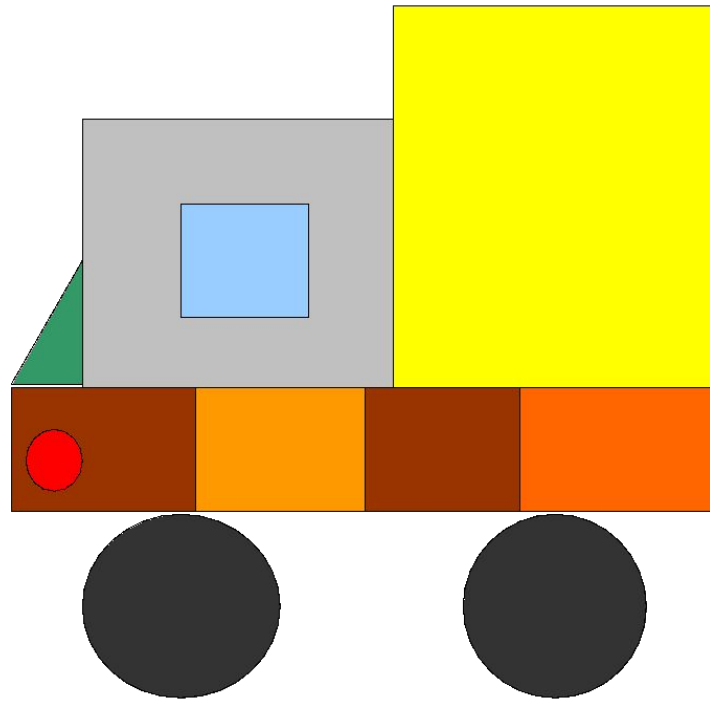
БОЙ КАПИТАНОВ



© www.ClipProject.info



КОНСТРУКТОР







1 команда

Сколько будет

$$69 - 23 =$$

ОТВЕТ

2 команда

Сколько будет

$$40 + 4 \times 4 = ?$$

ОТВЕТ

3 команда

Сколько будет
 $2000+20 \times 2=?$



3

Сколько будет
 $50+50 \times 5=?$





Улыбка ничего
не стоит,
но многое
дает!!!



Ромашина Маша

Улыбайся!

