

*МКСОУ «Краснинская школа интернат»,  
Ленинск – Кузнецкий район, Кемеровская область  
Черепанова Елена Николаевна,  
учитель математики.*

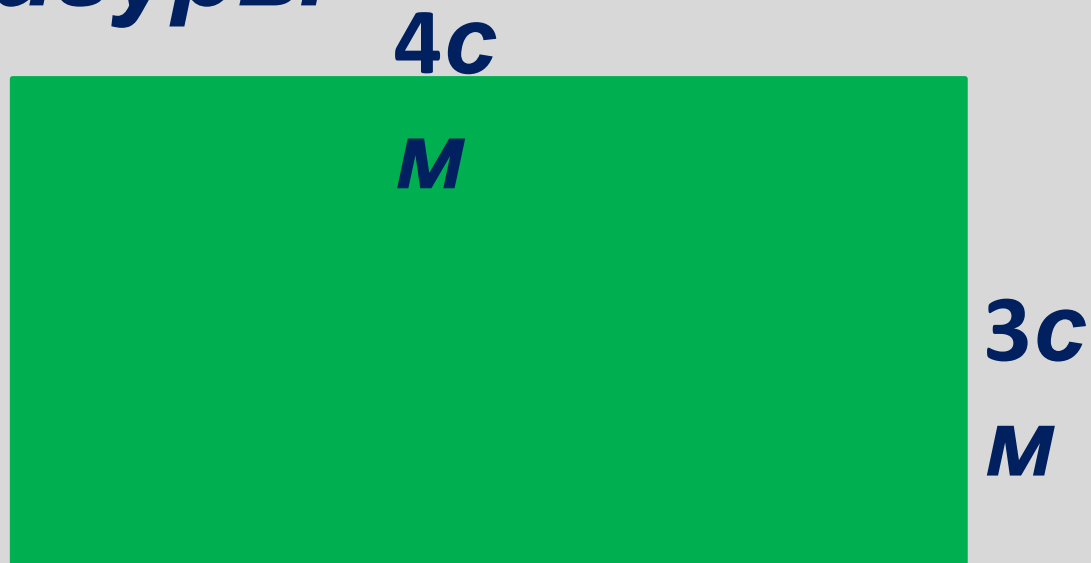
# Вычисли площадь



Математический тренажёр  
2017



# Найди площадь фигуры



Выбери правильный  
ответ:

$12cм$

$12cм^2$

$14cм^2$

$16cм^2$



# Найди площадь фигуры 4д



25с  
м

Выбери правильный  
ответ:

$100\text{дм}^2$

$1\ 000\text{дм}^2$

$100\text{см}^2$

$1\ 000\text{см}^2$



**Найди площадь  
фигуры**

**7с**

**8с**

**М**

**12с**

**М**

**13с**

**Выбери правильный**

**ответ:  
100см<sup>2</sup>**

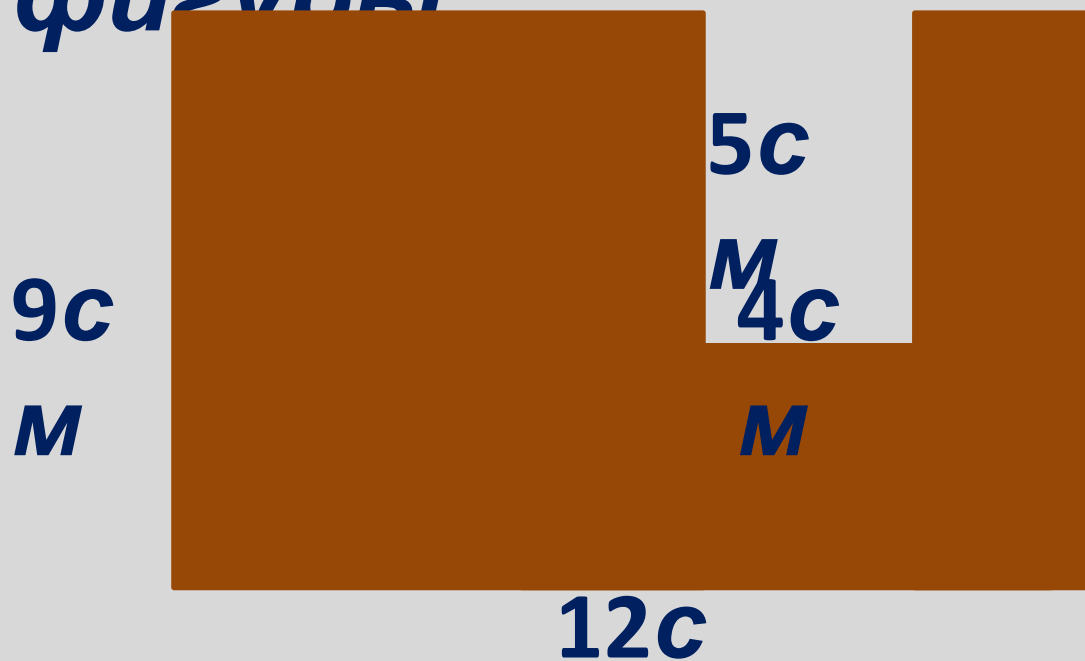
**110см<sup>2</sup>**

**108см<sup>2</sup>**

**99см<sup>2</sup>**



Найди площадь  
фигуры



Выбери правильный

ответ:  
 $88\text{cm}^2$

$92\text{cm}^2$

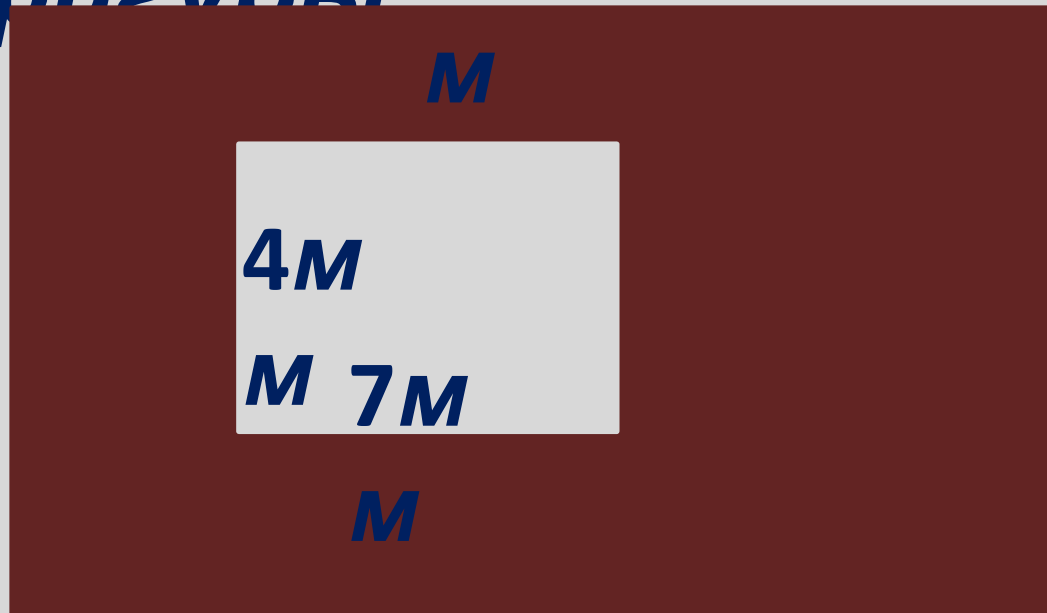
$108\text{cm}^2$

$76\text{cm}^2$



Найди площадь  
фигуры 15м

1с  
м



Выбери правильный

ответ:  
 $12\text{cm}^2$


$122\text{mm}^2$

$12\text{cm}^2$

$122\text{cm}^2$



Найди площадь  
фигуры <sup>1</sup>М



Выбери правильный  
ответ:

$1020\text{М}^2$

$124\text{дМ}^2$

$12\text{М}^2$

$114\text{дМ}^2$



# Интернет - ИСТОЧНИКИ

<http://www.lenagold.ru/fon/clipart/m/malch/malch167.jpg>

