

# Урок 3-4

## Двузначные числа и их запись

*Автор : Долгопятова Лариса Владимировна,  
учитель начальных классов  
МБОУ СОШ №12  
города Белая Калитва, Ростовской области  
2019*

## Работаем по учебнику (с.12)

1. Сколько у Волка десятков горошин?  
Сколько у Зайца горошин?



2 дес

5 ед

$$2 \text{ дес} + 5 \text{ ед} = 25$$

## *Работаем по учебнику (с.12-13)*

**2. Назови: по порядку числа от 30 до 50.**

**30, 31, 32, 33, 34, 35, 36, 37, 38, 39,  
40, 41, 42, 43, 44, 45, 46, 47, 48, 49,  
50**

**3. Прочитай предложения и выложи с помощью цветных полосок и квадратов числа.**

*Три толстяка съели тринадцать пирожных и тридцать один пряник.*



## Работаем по учебнику (с.13)

Жили у бабуси два петуха, двенадцать кур и двадцать один цыплёнок.



## ***Работаем по учебнику (с.14)***

**8. Запиши цифрами числа: сорок три, тридцать четыре, пятнадцать, пятьдесят один, девяносто девять, семьдесят два, тридцать восемь, шестьдесят семь, восемьдесят шесть, тридцать.**

**43, 34, 15, 51, 99, 72, 38, 67,  
86, 30**

## *Работаем по учебнику (с.14)*

9. Запиши цифрами все двузначные числа, которые можно составить, используя слова: двадцать, сорок, один, пять, семь

20, 21, 25, 27, 40, 41, 45, 47

10. Какие двузначные числа можно записать цифрами 0, 2 и 4, если цифры в записи числа не повторяются?

20, 24, 40, 42

## **Работаем по учебнику (с.14)**

**11. С помощью цифр 5 и 1 запиши все возможные двузначные числа.**

**11, 15, 51, 55**

**12. Сколько всего двузначных чисел, запись которых оканчивается :  
цифрой 5; цифрой 0?**

**15, 25, 35, 45, 55, 65, 75, 85, 95**

**10, 20, 30, 40, 50, 60, 70, 80, 90**

## *Работаем по учебнику (с.15)*

### 13. Вычисли:

$$\begin{array}{cccc} 7 + 5 = 12 & 14 - 8 = 6 & 13 - 9 = 4 & 6 + 9 = 15 \\ 15 - 6 = 9 & 9 + 7 = 16 & 6 + 8 = 14 & 11 - 7 = 4 \end{array}$$

### 14. Назови сумму и разность чисел: 9 и 4, 8 и 3, 12 и 0, 0 и 0

$$\begin{array}{ccc} 9 + 4 = 13 & 8 + 3 = 11 & 12 + 0 = 12 \\ 9 - 4 = 5 & 8 - 3 = 5 & 12 - 0 = 12 \end{array}$$

$$\begin{array}{l} 0 + 0 = 0 \\ 0 - 0 = 0 \end{array}$$



## *Работаем по учебнику (с.15)*

### 15. На сколько:

**12 больше 5 на 7,  $12-5=7$**

**18 больше 9 на 9,  $18-9=9$**

**7 меньше 13 на 6,  $13-7=6$**

**8 меньше 11 на 3,  $11-8=3$**

## *Работаем по учебнику (с.15)*

### 16. Какое число:

**больше 8 на 8      16**

**больше 6 на 4      10**

**меньше 17 на 9      8**

**меньше 14 на 6      8**

## Работаем по учебнику (с.15)

18. Бабушка решила, что для вязки свитера ей хватит 8 клубков пряжи. Но на свитер ушло на 2 клубка больше. Сколько клубков пряжи израсходовала бабушка?

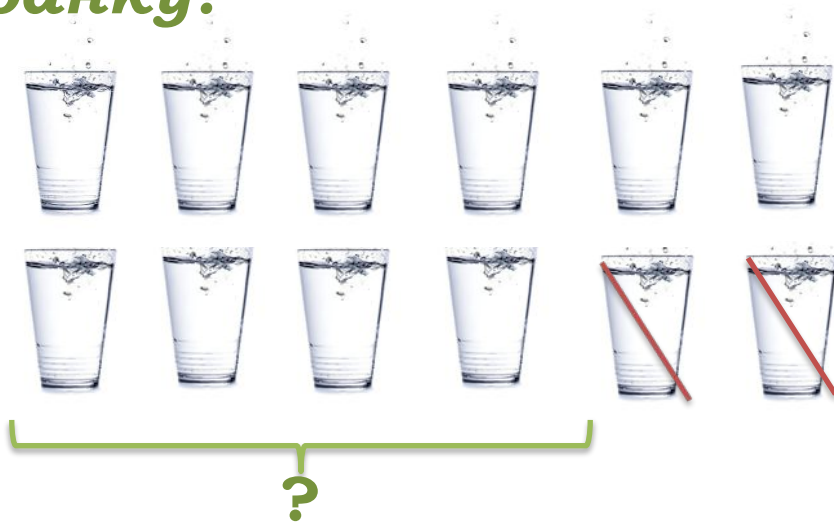


$$8 + 2 = 10 \text{ (кл.)}$$

Ответ: 10 клубков пряжи израсходовала бабушка.

## Работаем по учебнику (с.16)

19. Коля решил налить в банку 6 стаканов воды. Но в банку вошло на 2 стакана воды меньше. Сколько стаканов воды вошло в банку?



$$6 - 2 = 4 \text{ (ст.)}$$

**Ответ:** 4 стакана воды вошли в банку.

## Работаем по учебнику (с.18)

27. Запиши и прочитай число, которое содержит:

$$5 \text{ д. } 0 \text{ ед.} = 50$$

$$1 \text{ д. } 4 \text{ ед.} = 14$$

$$2 \text{ д. } 2 \text{ ед.} = 22$$

$$9 \text{ ед.} = 9$$

$$3 \text{ д. } 9 \text{ ед.} = 39$$

$$10 \text{ д. } 0 \text{ ед.} = 100$$

28. Запиши по порядку все числа:

от 48 до 55

**48, 49, 50, 51, 52, 53, 54, 55**

от 76 до 82

**76, 77, 78, 79, 80, 81, 82**

от 94 до 100

**94, 95, 96, 97, 98, 99, 100**

# Работаем в тетради (с.5)

## 1. Заполни пропуски

$$2 \text{ д. } 3 \text{ ед.} = \boxed{23}$$

$$69 = \boxed{6} \text{ д. } \boxed{9} \text{ ед.}$$

$$5 \text{ д. } 4 \text{ ед.} = \boxed{54}$$

$$32 = \boxed{3} \text{ д. } \boxed{2} \text{ ед.}$$

$$4 \text{ д. } 5 \text{ ед.} = \boxed{45}$$

$$96 = \boxed{9} \text{ д. } \boxed{6} \text{ ед.}$$

$$7 \text{ д. } 0 \text{ ед.} = \boxed{70}$$

$$83 = \boxed{8} \text{ д. } \boxed{3} \text{ ед.}$$

## 2. Запиши цифрами числа:

тридцать	<b>30</b>
пятьдесят восемь	<b>58</b>
семьдесят один	<b>71</b>
восемьдесят пять	<b>85</b>
восемьдесят восемь	<b>88</b>
сто	<b>100</b>

## Работаем в тетради (с.5)

3. Запиши пропущенные при счёте числа

37 38 39 40 41 42 43 44 45

4. Запиши предыдущее и следующее при счёте числа:


59 60 61

5. Запиши в обратном порядке числа от 84 до 79.

84 83 82 81 80 79

## Работаем в тетради (с.6)

6. Где висит пальто каждого из детей?  
Запиши число над нужной вешалкой.





## Работаем в тетради (с.6)

7. Алёша нашёл 8 грибов, а папа нашёл 3 десятка грибов. Сколько всего грибов они нашли ?



Выбери и отметь верный ответ.

11

83

38

22

## Работаем в тетради (с.7)

### 9. Запиши результаты

#### Вариант 1

$$9 + 4 = 13$$

$$13 - 6 = 7$$

$$5 + 7 = 12$$

$$17 - 9 = 8$$

$$5 + 8 = 13$$

$$12 - 7 = 5$$

$$7 + 9 = 16$$

$$11 - 5 = 6$$

$$14 - 6 = 8$$

#### Вариант 2

$$9 + 8 = 17$$

$$14 - 9 = 5$$

$$0 + 7 = 7$$

$$15 - 8 = 7$$

$$11 - 7 = 4$$

$$4 + 9 = 13$$


$$16 - 8 = 8$$

$$14 - 5 = 9$$

$$8 + 7 = 15$$

## Работаем в тетради (с.8)

11. Из улья вылетели 5 пчёл, а влетели 7 пчёл. Увеличилось или уменьшилось число пчёл в улье? На сколько?



Увеличилось на 12

Уменьшилось на 2

Увеличилось на 2

Уменьшилось на 12