



# Тема: «Число восемь. Цифра 8»



## Занятие 17

Тема: «Число восемь. Цифра 8»

*Прозвенел и смолк звонок,*

*Начинаем мы урок.*

*Улыбнулись, подтянулись,*

*Друг на друга посмотрели*

*И спокойно, тихо сели.*





# Число восемь. Цифра 8.

На сколько больше? На сколько меньше?





The image shows three comparison problems on a grid background. Each problem consists of two containers with shapes inside, a comparison symbol, and two boxes for numbers.

- Problem 1:** The left container has 4 circles. The right container has 7 triangles (4 white, 3 red). A red oval highlights the 4 white triangles. Below the containers are boxes with the numbers 4 and 7, and a less-than sign (<) between them.
- Problem 2:** The left container has 3 rectangles. The right container has 4 semi-circles (3 white, 1 red). A red oval highlights the 3 white semi-circles. Below the containers are boxes with the numbers 3 and 4, and a less-than sign (<) between them.
- Problem 3:** The left container has 5 squares (3 white, 2 red). The right container has 3 triangles (2 white, 1 red). A red oval highlights the 3 white squares. Below the containers are boxes with the numbers 5 and 3, and a greater-than sign (>) between them.

At the top of the second problem, there is a box containing the symbols >, <, and =. Blue arrows indicate the counting process for each problem.

# Число восемь. Цифра 8.

Дорисуй точки и допиши равенства:



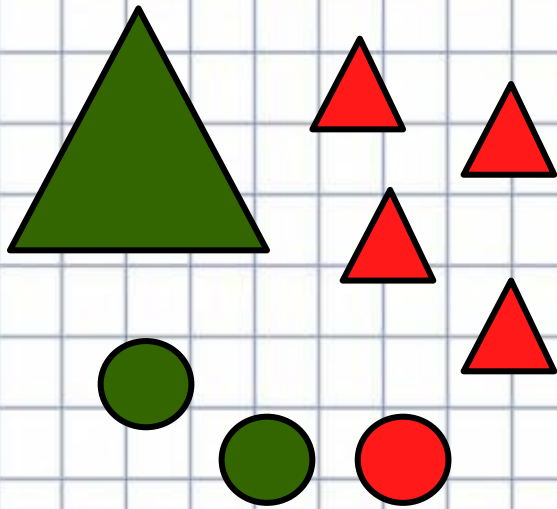
$$6 + 2 = 8$$

$$4 + 4 = 8$$

$$5 + 3 = 8$$

# Число восемь. Цифра 8.

На какие группы можно разбить эти фигуры? Сгруппируй их по размеру и допиши равенства.



$$7 + 1 = 8$$

$$1 + 7 = 8$$

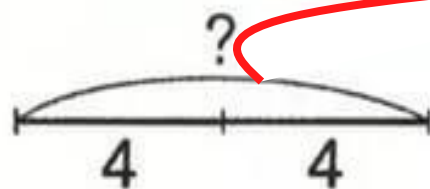
$$8 - 7 = 1$$

$$8 - 1 = 7$$

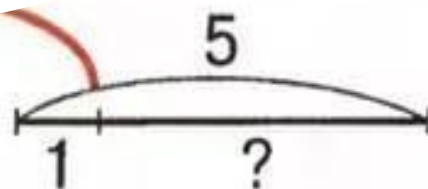


# Число восемь. Цифра 8.

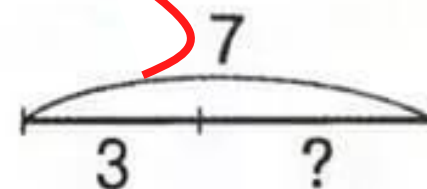
Подбери к картинкам схемы и запиши решение.  
Что надо найти: часть или целое?



$$4 + 4 = \boxed{8}$$



$$5 - 1 = \boxed{3}$$



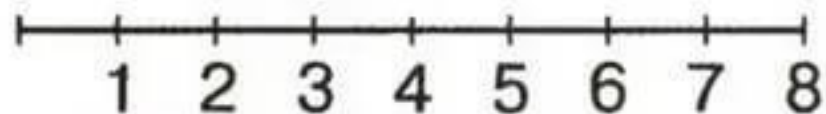
$$7 - 3 = \boxed{4}$$

# Число восемь. Цифра 8.

Поставь вместо звёздочек знак «+» или «-». Проверь решение по числовому отрезку.

$$3 \text{ кг} \blacksquare 2 \text{ кг} + 7 \text{ кг} = 8 \text{ кг}$$

$$5 \text{ см} + 1 \text{ см} \blacksquare^* 2 \text{ см} = 4 \text{ см}$$








# Число восемь. Цифра 8.

МАТЕМАТИКА

Расположи картинки разными способами.

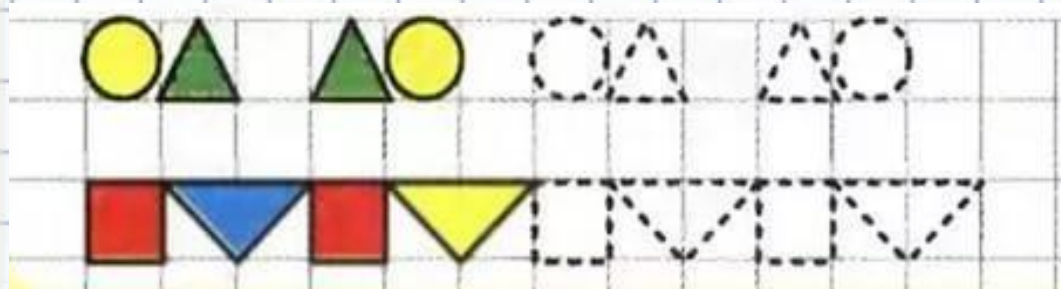




# Число восемь. Цифра 8.

МАТЕМАТИКА

## Домашнее задание:



# **Число восемь. Цифра 8.**

*МАТЕМАТИКА*


## **Итог занятия:**

**Чем мы сегодня занимались?**

**Как узнать, на сколько одно число больше или меньше другого?**

**Какие знания помогли вам справиться со всеми заданиями?**





МОЛОДО  
УБИ!