


# *Ашық сабақ*

## *Тақырыбы: Центнер*



# Оқушының массасын қандай таразымен өлшеген дұрыс?



# Картопты қай таразыға тартқан дұрыс?



1.



2.



3.




4.

# Қапшықтардағы азық- түліктердің массасын есепте



# Бидай, күріш, мақта өнімдерін центнермен өлшейді


1 ц = 100 кг



1 ц



1 ц



1 ц

# Бидай, күріш, мақта өнімдерін центнермен өлшейді

Мысқал - 1 грамм.

Қадақ - 750 грамм.

Келі - 1 килограмм.


Пұт - 16 килограмм.

Батпан - 100 килограмм.

Сергіту сәті




# Сызба және санды мәліметтерді пайдаланып есеп құрастыр:




1 ц



5 ц



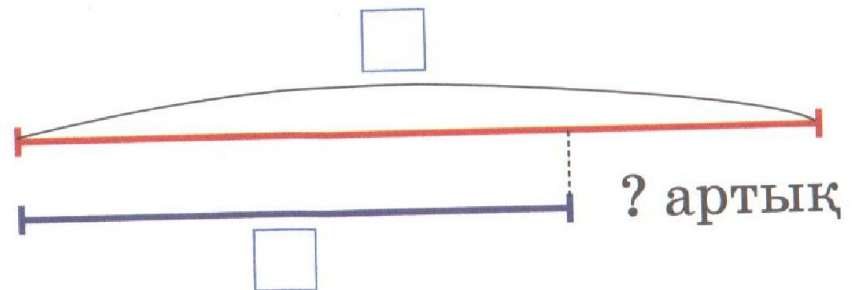
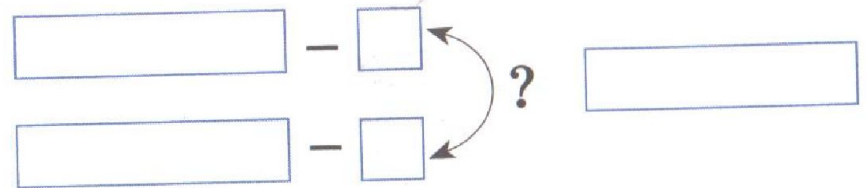
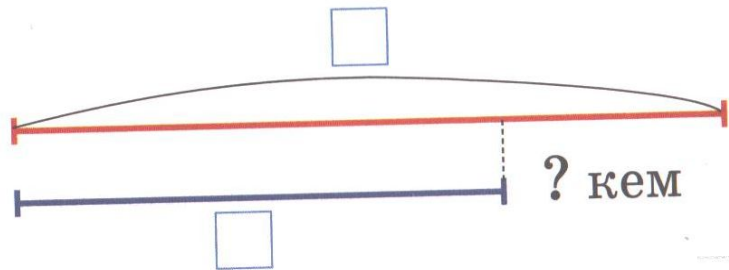
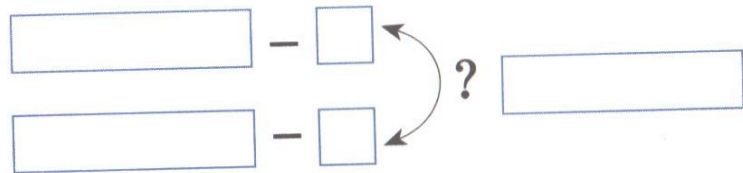
80 кг




100 кг



# Сызбаны пайдаланып есепті шығар:





# «Жетістік баспалдағы»

Жасай  
аламын.....

Түсінемін.....

Білемін.....