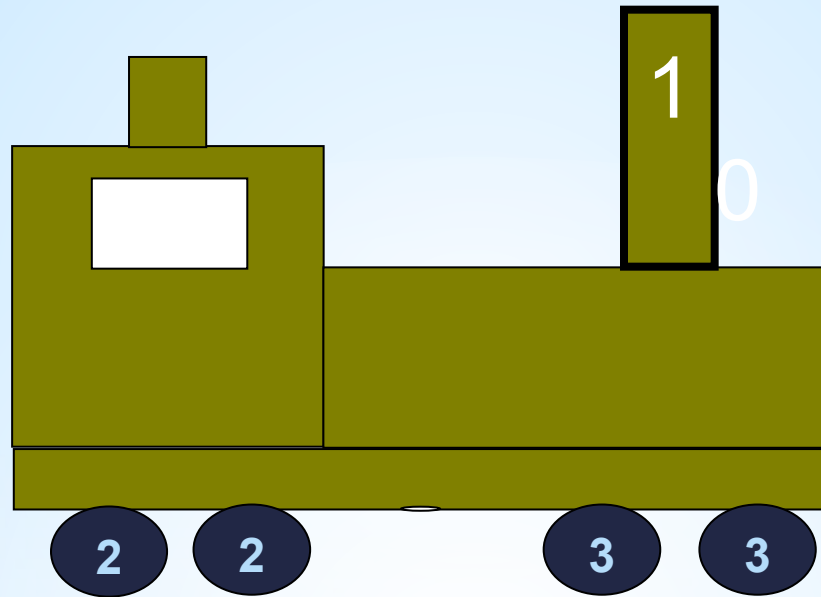


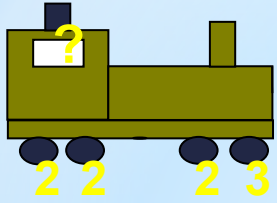
Урок математики 1 класс

«Состав чисел в пределах 10. Закрепление пройденного»

- * МБОУ «Усолинская средняя общеобразовательная школа»
Горномарийского района, Республики Марий Эл
Учитель начальных классов
Минюкова Зоя Борисовна



Чтобы ход паровозу набрать,
Число на трубе предстоит угадать.
Я думаю, это не трудный вопрос.
Число – это сумма весёлых колес



Станция



Числовая



*Продолжи ряд:

*10, 8, 6, ..., 4, 2

*0, 3, 6, ..., 9, 3, 1

*9, 7, 5, 7, 9

*1, 6, 5



Угадай знаки и числа.

$$4 + 1 = 5$$

$$9 - 1 = 8$$

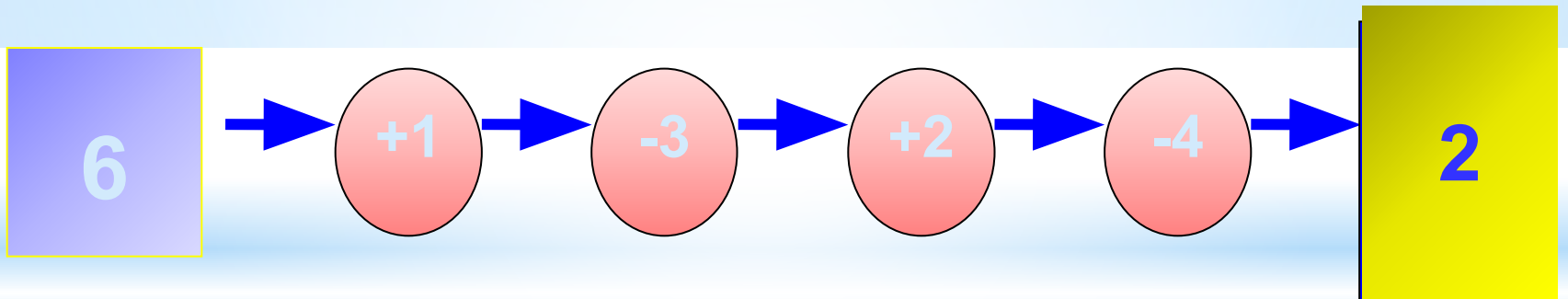
$$10 - 1 = 9$$

$$6 + 2 = 8$$

$$7 - 1 = 6$$

$$8 - 3 = 5$$

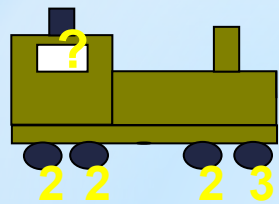
* Какого числа не хватает?





Ко ло бок






Станция

Задачка

* Люба пришла домой раньше
Нади, а Надя - раньше, чем
Саша. Кто из них пришел
домой последним?





Составь задачу: №3, с. 17.

1) Синие квадраты - 7

Красные квадраты - 3



на ? меньше

2) Большие квадраты - 2

Маленькие квадраты - 8



на ? меньше



Блицтурнир



* В одной книге 6 страниц, а в другой - на 2 страницы меньше. Сколько страниц во второй книге?

* На тарелке лежали 6 помидоров. За обедом съели 4 помидора. Сколько помидоров осталось?



* Лена знает 3 песни, а Валя - на 2 песни больше. Сколько песен знает Валя?



* Павлик забил 4 гола, а Сережа - 1 гол. На сколько меньше голов забил Сережа, чем Павлик?



Бу р а т и н о

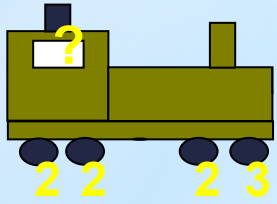


Станция

«Физкультурная»

Девочки и мальчики: хлоп, хлоп, хлоп,
Прыгают, как мячики: прыг-скок, прыг-скок.
Ножками топчут: топ, топ, топ!
Весело хохочут: ха, ха, ха!
Глазками моргают,
После отдыхают.






Учебник, стр.17, №4

* Карта путешествия



* Станция «Числовая»



*

Станция «Задача»

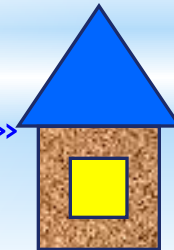


* Станция «Физкультурная»



*

Станция «Самостоятельная»





Молодцы!!!

