




*УРОК 2*



Ровно встали  
Головами повертели  
Сладко–сладко потянулись,  
И друг другу улыбнулись  
Рот закрыли на замок  
Начинается урок  
Тихо сели







Уменьшаемое,  
сума,  
вычитаемое,  
слагаемое.



## **Ответить на вопросы:**

- **Какое действие называют вычитанием?**
- **Какое число называют уменьшаемым, а какое вычитанием?**
- **Как узнать, на сколько одно число больше другого?**
- **Какое действие называют сложением?**
- **Назовите компоненты действия сложения?**

СЛОЖЕНИЕ  
И ВЫЧИТАНИЕ  
ЧИСЕЛ





Цель:

- Понятие «сумма»
- Как называются компоненты суммы
- Как называются компоненты разности
- Решение задач
- «понятие разности»
- Способы вычислений суммы или разности
- Навыки вычислять сумму или разность

● Повторить

● Вспомнить

● Закрепить

# Станция «Вычислялкино»

$$300 + 20 = 320 - e$$

$$450 + 150 = 600 - x$$

$$340 - 140 = 200 - c$$

$$55 - 55 = 0 - y$$

$$855 - 45 = 810 - n$$

$$980 - 180 = 800 - !$$

$$30 + 420 = 450 - a$$



Успеха!



## Станция «Задачкино»

На овощную базу в Цветочном городе завезли картофель, морковь и свеклу: моркови – 354 т, свеклы – на 75 т меньше, а картофеля – на 201 т больше, чем свеклы. Сколько всего овощей завезли на базу?





Незнайка и его друзья

# Станция «Примерово»



№ 122(2 столбик) из  
учебника

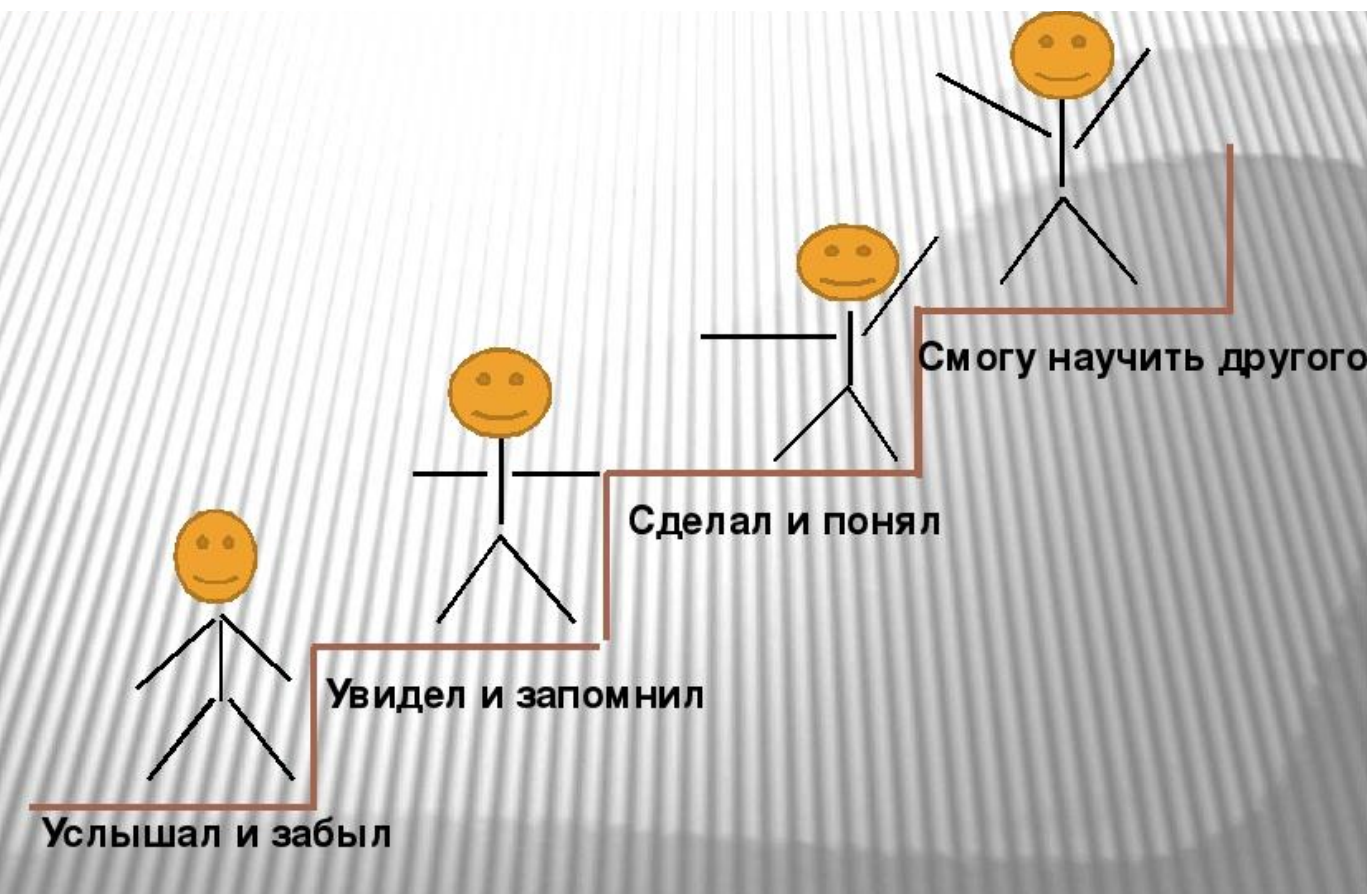
# Станция «Смекалкино»

98. Серёжа невнимательно выполнил домашнюю работу и в каждом задании сделал ошибку. Найдите ошибки в Серёжиных решениях.

Задание	Серёжино решение	Правильное решение
Найдите число, если известно, что 310 на 115 меньше этого числа	$\begin{array}{r} 310 \\ - 115 \\ \hline 195 \end{array}$	
Найдите число, которое на 2205 меньше числа 3160	$\begin{array}{r} 3160 \\ - 2205 \\ \hline 1965 \end{array}$	
Сумма двух чисел равна 5102, одно из них равно 1208. Чему равно второе число?	$\begin{array}{r} 5102 \\ + 1208 \\ \hline 6310 \end{array}$	
Найдите число, если известно, что 1800 на 937 больше этого числа	$\begin{array}{r} 1800 \\ + 937 \\ \hline 2737 \end{array}$	



# Спасибо, ребята! А теперь давайте подведем итог.



# Домашнее задание

(вычисления примеров в столбик)

Вычислите (7—8).

7. а)  $7245 + 1653$ ;                      б)  $4813 - 3847$ .

8. а)  $443 + 9589$ ;                      б)  $3175 - 833$ .

17. Вычислите:

а)  $33\ 333 - 9999$ ;                      в)  $11\ 111 - 8888$ ;

б)  $48\ 375 + 278\ 025$ ;                      г)  $30\ 040 - 7148$ .

Решить задачу (краткая запись, пояснения и ответ)

5. а) На автобазе имеются автобусы, грузовые автомобили и легковые автомобили. Автобусов на автобазе 145. Их на 30 больше, чем грузовых автомобилей, а легковых автомобилей на 12 меньше, чем грузовых. Сколько всего машин на автобазе?