

Математика



A decorative border surrounds the text. At the top, there are autumn leaves in shades of red, orange, and green. On the right side, a pencil holder contains several colorful pencils. At the bottom, more colorful pencils are scattered across the surface.

Вот опять звенит звонок.

Начинается урок.

Прибавляю, вычитаю,

Умножаю и делю.

Математику я знаю

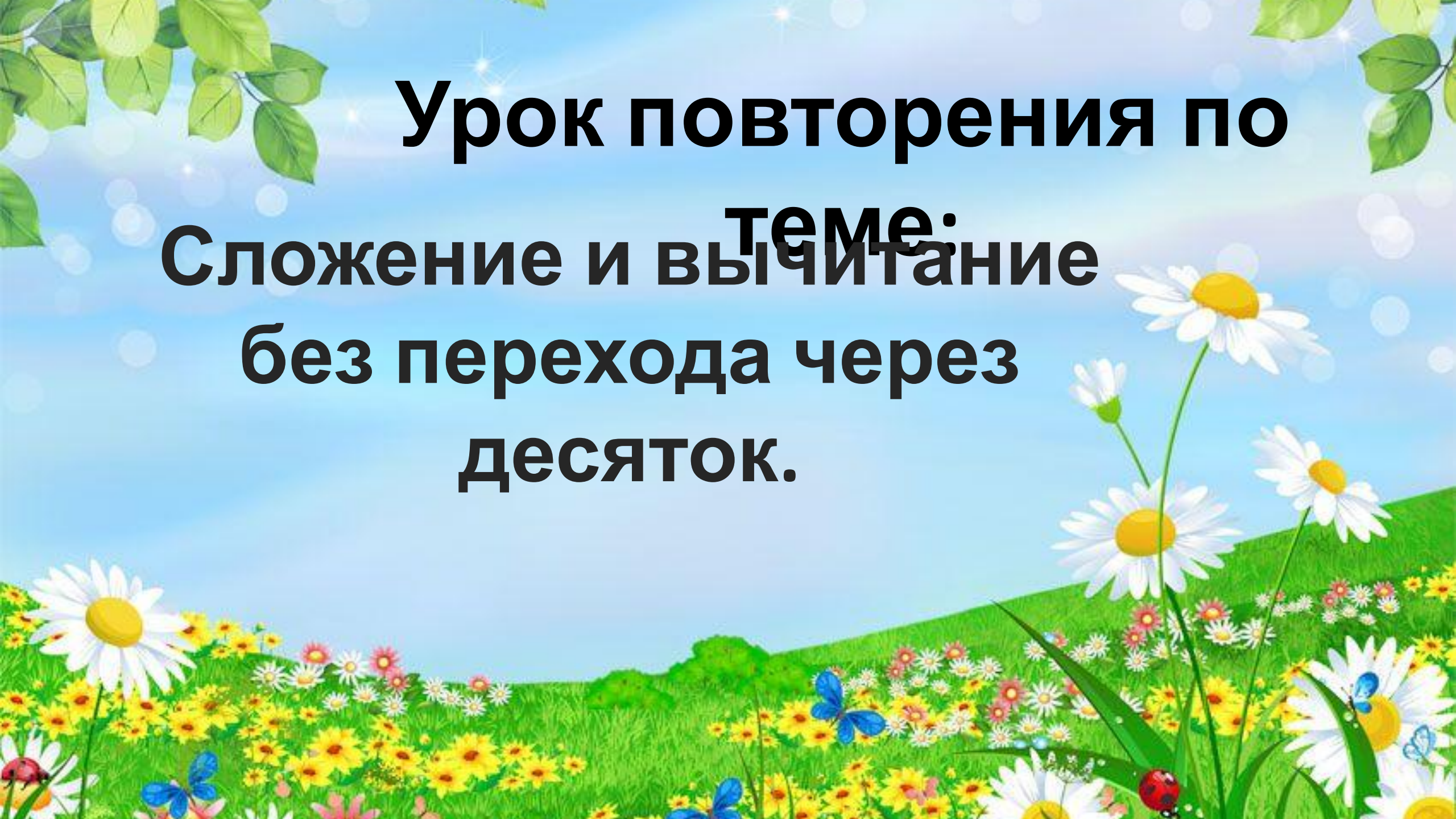
И поэтому люблю.



$$32 + 13 =$$

$$45 - 13 =$$





Урок повторения по
Теме:
Сложение и вычитание
без перехода через
десяток.

Цель урока : добратся до
страны Математика.

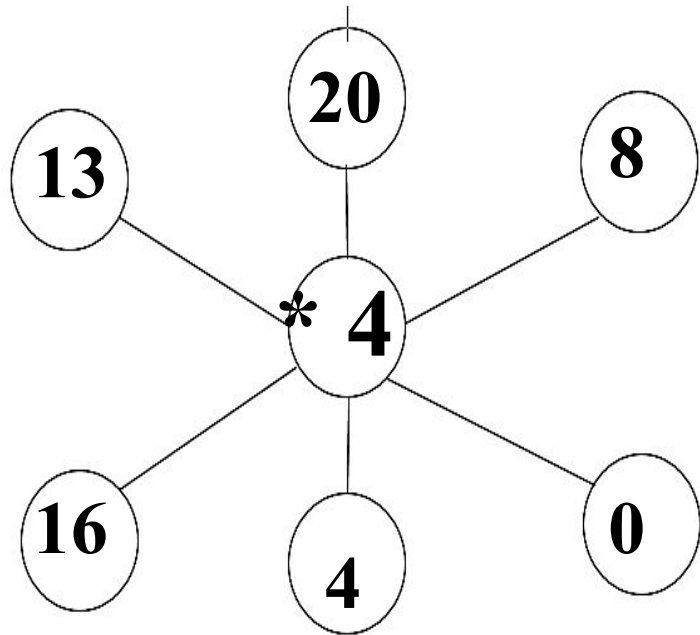


ЖЕЛЕЗНОДОРОЖНЫЕ КАССЫ

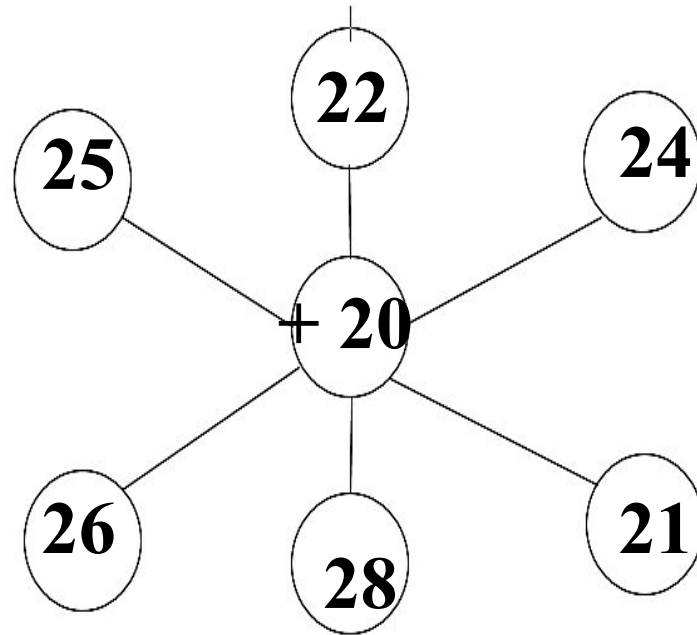


Проверка

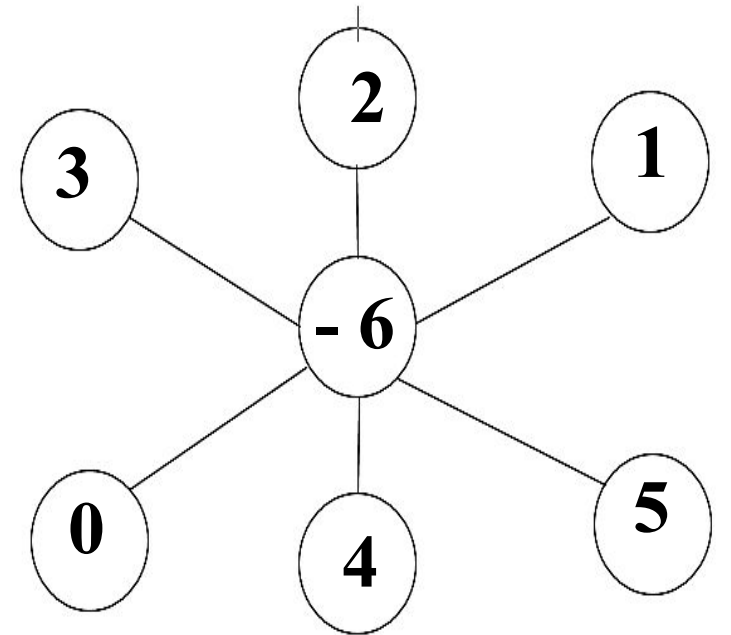
1 ряд



2 ряд



3 ряд



РЖД
20



АСУ
«ЭКСПРЕСС»

ПРОЕЗДНОЙ
ДОКУМЕНТ


ПОЕЗД № шифр	ОТПРАВЛЕНИЕ				ВАГОН № Туп	ЦЕНА руб.		Кол-во человек	ВИД ДОКУМЕНТА
	число	месяц	часы	мин.		Билет	Плацкарта		

Дата отправления: 27 февраля

Пункт назначения: страна «Математика»

Утверждена приказом Министерства транспорта Российской Федерации
от 05.08.2008 № 120, мод. формы по ОКУД

КОНТРОЛЬНЫЙ КУПОН



Утверждена приказом Министерства транспорта Российской Федерации
от 05.08.2008 № 120, мод. формы по ОКУД

1 станция «Вычисляндия»



2 станция «Отдохни-ка»





3 станция «Задачкино»




Проверка

1) $32 + 54 = 86$ (стр.) – всего в книге.

2) $54 - 32 = 22$ (стр.)

Ответ: всего 86 страниц в учебнике. На 2

страницы первая часть меньше второй.



4 станция «Диagramмик»



ПРАВИЛА РАБОТЫ В ГРУППЕ

В группе должен быть **ответственный**

Работать должен **каждый**
на общий результат

Один говорит, другие **слушают**

Свое несогласие высказывай **вежливо**

Если не понял, **переспроси**



Каждой команде необходимо составить диаграмму и ответить на вопросы в задаче.

1 команда: Дети собирали грибы. В одной корзине у них было 12 сыроежек, 3 боровика и 5 лисичек. Каких грибов больше всего? Сколько всего грибов собрали дети?

2 команда: Наташа работает в кондитерском магазине. Утром она продала 7 тортов, днём 10, а вечером ещё 3 торта. В какое время дня Наташа продала больше всего тортов? Сколько всего тортов Наташа испекла за день?

3 команда: На детской площадке гуляли дети. Из них 3 малыша, 15 школьников и 2 подростка. Каких детей гуляло меньше всего? Сколько всего детей гуляло на детской площадке?

4 команда: В школьной библиотеке получили новые книги. Из них 14 по математике, 5 учебников по технологии и 1 учебник по окружающему миру. Каких учебников получили меньше всего? Сколько всего учебников привезли в школьную библиотеку?

**5 станция
«Решалкино -
самостоялкино»**



Проверка

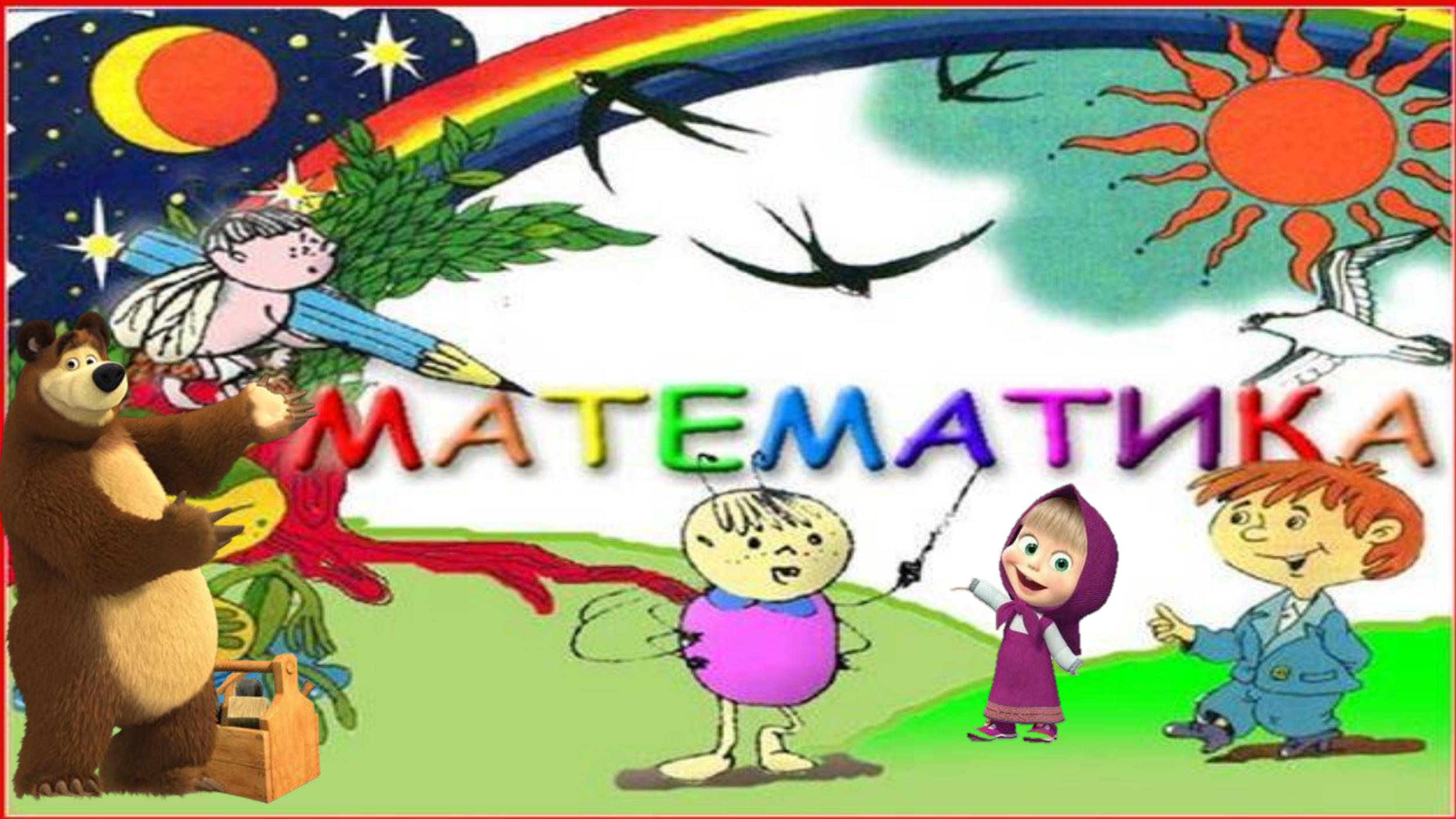
$$37 + 21 = 58$$

$$56 + 23 = 79$$

$$64 - 32 = 32$$

$$49 - 17 = 32$$





МАТЕМАТИКА



**Вот и кончился урок.
Снова прозвенел звонок,
Отдыхать мы можем
смело,
А потом опять за дело**



Молодцы!
Спасибо за урок!

