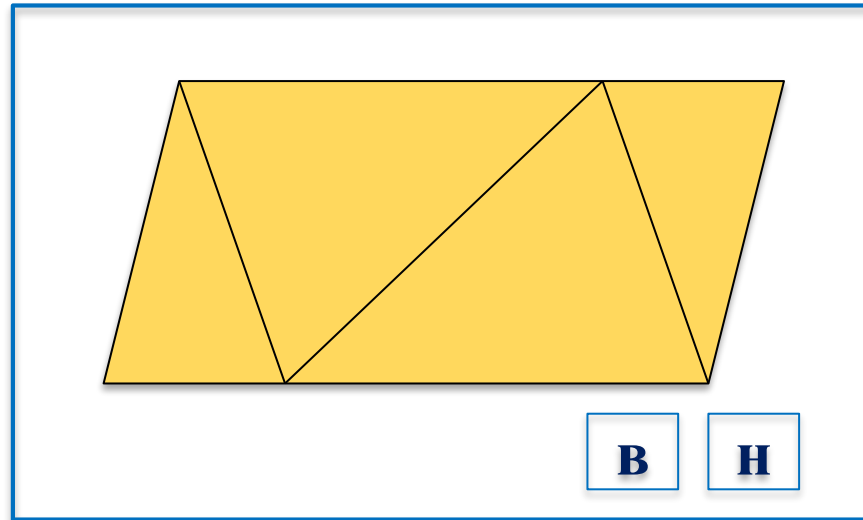


Проверяем, верно ли.



## Урок 44. Проверяем, верно ли.

### Устный счёт.

Распредели числа на две группы.

8

17

7

15

6

16

18

5

В каком ряду числа расположены в порядке убывания?

## Урок 44. Проверяем, верно ли.

Прочитай запись и назови результат.



$$\begin{array}{c} 4 \\ 3 \\ 2 \\ \hline 5 + 1 = 9 \end{array}$$

Diagram illustrating the addition problem  $5 + 1 = 9$ . The numbers 5, 1, and 9 are in pink boxes, while the plus sign and equals sign are in green boxes. A green bar is below the equation. Two large green arrows point downwards from the bar.




$$\begin{array}{c} 6 \\ 7 \\ 8 \\ \hline 9 - 1 = 3 \end{array}$$


Diagram illustrating the subtraction problem  $9 - 1 = 3$ . The numbers 9, 1, and 3 are in pink boxes, while the minus sign and equals sign are in green boxes. A green bar is below the equation. Two large green arrows point downwards from the bar.

## Урок 44. Проверяем, верно ли.

Продолжи «строить домики» по правилу: меняется только цвет крыши.



Придумай другое правило.





## Урок 44. Проверяем, верно ли.

2. Верно ли записи распределены на две группы?

$$17 - 7 = 10$$

$$7 + 2 = 9$$

**Верно**

$$9 + 1 = 10$$

$$10 - 1 = 9$$

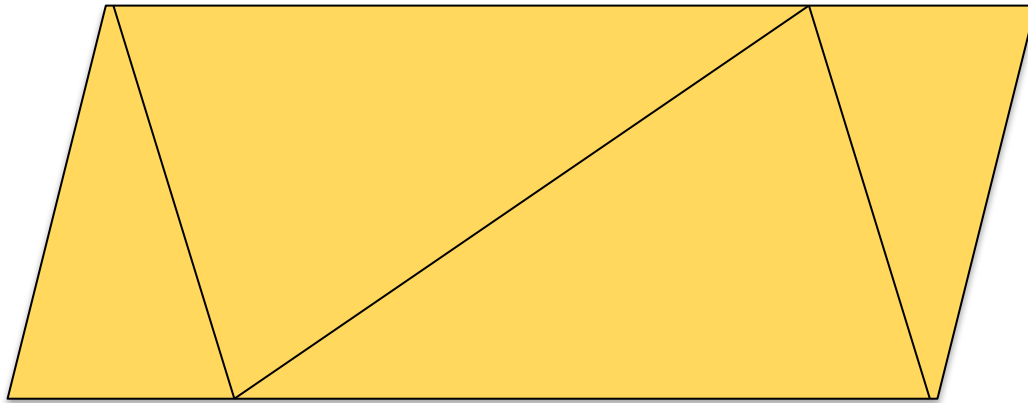
$$8 + 2 = 10$$

$$16 - 6 = 10$$

## Урок 44. Проверяем, верно ли.

3. Верно ли, что на рисунке пять треугольников?

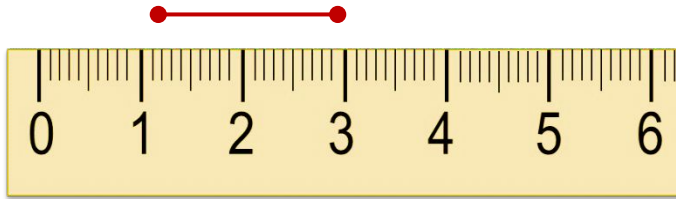
**Неверно**



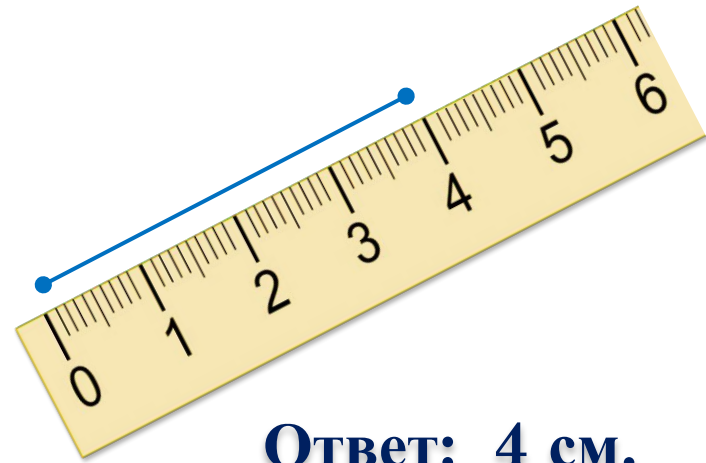
**4**

## Урок 44. Проверяем, верно ли.

5. Длину какого отрезка измерили неверно? Объясни.



**Ответ: 2 см.**




**Ответ: 4 см.**



## Урок 44. Проверяем, верно ли.

4. Из двух клубков ниток можно связать одну шапку.  
Сколько таких клубков нужно для трёх шапок?



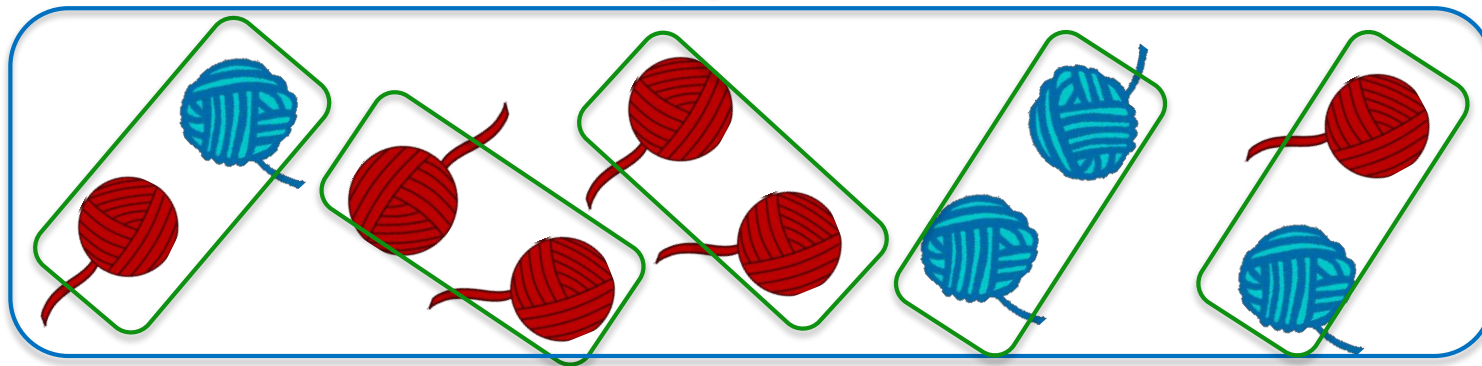
$$2 + 2 + 2 = 6$$

$$2 \cdot 3 = 6$$

## Урок 44. Проверяем, верно ли.

4. Сколько шапок можно связать из всех клубков?

10




$$10 : 2 = 5$$

## Урок 44. Проверяем, верно ли.

**Проверь!**

Работа в тетради с. 42.

**1.** Верно ли, что в ряду записаны все числа, которые больше 8 и меньше 15? Отметь знаком 

**9, 10, 11, 12, 13, 14, 15.**

Верно  Неверно

**9, 10, 12, 13, 14.**

Верно  Неверно

**8, 9, 10, 11, 12, 13.**

Верно  Неверно

**9, 10, 11, 12, 13, 14.**

Верно  Неверно

## Урок 44. Проверяем, верно ли.

Работа в тетради с. 42.

**3.** Верно ли, что на карточке записаны все цифры?

**0 1 2 3 4 5 6 7 8 9**



**В**

**Н**

## Урок 44. Проверяем, верно ли.

Работа в тетради с. 42.

**Проверь!**

4. Верно ли, что:

красный отрезок **на 1 см короче** синего? зелёный

<b>В</b> ✓	<b>Н</b>
------------	----------

отрезок **на 2 см короче** красного?

<b>В</b> ✓	<b>Н</b>
------------	----------

синий отрезок **на 3 см длиннее** зелёного?

<b>В</b> ✓	<b>Н</b>
------------	----------

зелёный отрезок **на 2 см короче** синего ?










<b>В</b>	<b>Н</b> ✓
----------	------------



## Урок 44. Проверяем, верно ли.

Работа в тетради с. 43.

6. Верно ли, что в средней строке и в правом столбце таблицы расположен   **В**  **Н** ✓

***Спасибо!***