



Число
и цифра
7

ВОЛШЕБНАЯ




И

ЗАГАДОЧНАЯ...







00:12:34




7

R



Вот семёрка кочерга
у неё одна нога.

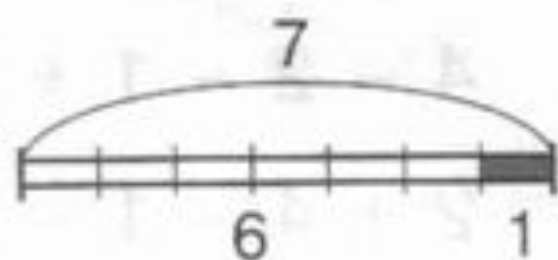
Семь - точно острая коса.
Коси , коса, пока остра.







- 3 На какие части разбиты полоски? Какие числа пропущены? Запиши в тетради один из столбиков, заполнив пропуски.

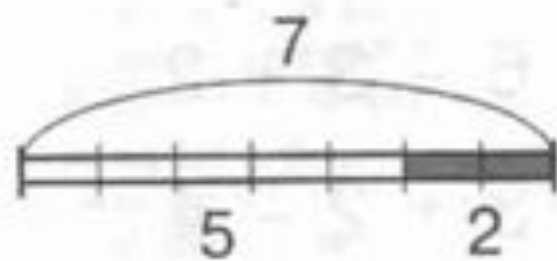


$$6 + 1 = 7$$

$$1 + 6 = \square$$

$$7 - 6 = \square$$

$$7 - 1 = \square$$



$$5 + 2 = \square$$

$$\square + \square = \square$$

$$7 - 5 = \square$$

$$\square - \square = \square$$

