



Повторение- мать учения!


Дальше





Найди примеры на умножение в вертикальных столбиках.

7	8	5	8	3	2	7	4
6	8	5	9	9	9	7	7
42	63	25	72	27	17	49	28
9	4	7	9	5	4	9	3
7	2	3	2	6	3	5	3
63	8	22	18	30	12	45	9





# Математический диктант

27, 70, 9, 9, 20, 32 кв.м, 5





Высчитай дорогу животных в метрах.

8 м

$\cdot 7$

56 м

$-42$

14 м

$:2$

7 м



6 м

$\cdot 6$


36 м

$:4$

9 м

$\cdot 5$


45 м



На сколько метров слон живет  
дальше от тигренка, чем бегемот?

Дальше





**Вычисления выполнены верно!**

The maze contains the following numbers and operations:




- Outer ring: 4 x 6
- Second ring: 5 + 4, 9
- Third ring: 6, 80 : 8, 24
- Inner ring: 30, 71, 10, 2, +
- Center: 9, 49, 7, 18, 1
- Bottom ring: 35, 4, 39, +
- Bottom ring: 65, 36, 18, 25
- Bottom ring: 35, 100, 75, +





# Узнайте, какими профессиями я владею?

7 дм ~~Уборщица~~ 2 см



# Узнайте, какими профессиями я владею?



уборщица

54 дня **5** ка м **4** дм







# Узнайте, какими профессиями я владею?



уборщица

нянька

строитель



# Узнайте, какими профессиями я владею?



уборщица

нянька

строитель

6 стрелок



# Узнайте, какими профессиями я владею?



уборщица

нянька

строитель

сторож

разведчик



# Узнайте, какими профессиями я владею?



уборщица

нянька

строитель

сторож

разведчик

сборщица пыльцы и нектара



# Узнайте, какими профессиями я владею?



уборщица

нянька


строитель

сторож

разведчик


сборщица пыльцы и нектара

32, 10, 16, 24, 50, 42





# Работа в парах





**Решите задачу, и вы узнаете,  
сколько килограммов мёда  
заготавливает моя семья за лето?**

**Пасечник отвёз мёд, собранный с  
одного улья, в 3 детских сада по 20 кг  
в каждый и 30 кг в школу. Сколько кг  
мёда собрал пасечник с улья?**



**МЁД**



$$1) 8 \times 5 = 35 \text{ (кг)}$$

$$2) 35 - 30 = 5 \text{ (кг)}$$

**Ответ: 5 кг мёда собрал пасечник**



**МЁД**



# Физминутка



- Сколько раз ногою топнем? (12:4)

- Сколько раз в ладоши хлопнем?  
(36:9)

- Сколько будем приседать? (15:5)

- Сколько руки поднимать? (12:2)

- Сколько раз подпрыгнем мы?  
(40:8)

- Лучше всех мы, посмотри!






Матроскин решил поставить на участок ограждение для выпаса своей коровы. Сколько метров ограды ему понадобится, если длина участка 6м, а ширина 7м? Какая площадь газона понадобится для этого участка?





Чебурашка захотел купить свои любимые апельсины. Сколько килограммов апельсинов он купит если цена одного килограмма 20 руб, а у него 80 рублей?





# Работа в группах





**Сегодня все то, что было  
ранее мне непонятно, я понял!**





**Я убедился, что ранее  
изученный материал мною усвоен  
полностью.**



**Некоторые задания мне были  
непонятны и сегодня.**





**Спасибо за работу  
на уроке!  
Удачного  вам дня!**

