

Челябинская область



МКОУ Павловская СОШ 6 класс Составила Рычкова И.В.

Третий лишний



Ребус

Города

Археологи

Чёрный ящик

СЮЛП СУНИМ

Затруднительное положение

Заколдованный треугольник

Весёлые нотки

Назвать лишнее слово

Назвать лишнее слово

Сосновский р-он

1, 2, 4, 8, 16, 32

Агаповский р-он

3, 6, 12, 24, 48, 96

Красноармейский р-он

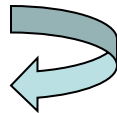
5, 10, 20, 40, 80, 160

Курчатовский р-он

2, 6, 18, 54, 162, 486

Октябрьский р-он

7, 14, 28, 56, 112, 224



Назовите самое глубокое озеро Челябинской области

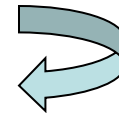


„ „ „

ь



Увильды



Назовите самый старый город Челябинской области. В каком году он был zaloжен?

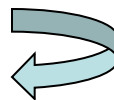
Магнитогорск

Южноуральск

Златоуст

Верхнеуральск

$$\begin{array}{r} \times \quad 1^* \\ \quad 10^* \\ \hline + \quad *4 \\ \quad *7 \\ \hline * \quad *3^* \\ \mathbf{1734} \end{array}$$



- **В 18-16 вв. до н. э.** в степных районах Челябинской области существовала развитая протогородская цивилизация, получившая название «страна городов» (историко-археологический заповедник «Аркаим»). Племена, населявшие эту территорию, занимались земледелием, использовали бронзовые и медные орудия. Свидетельство высокого уровня развития культуры — палеолитическая «картинная галерея» в Игнatieвской пещере.



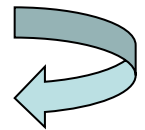
$$x = \frac{39,3 \cdot 100}{22} = 178,6(\text{см})$$

Рост человека археологи могут определить даже по отдельным костям. Например, длина малой берцовой кости составляет 22% роста человека. При раскопках нашли малую берцовую кость длиной 39,3 см. Вычислите, каков был рост человека.



Самый «рисовальный» камень – графит.

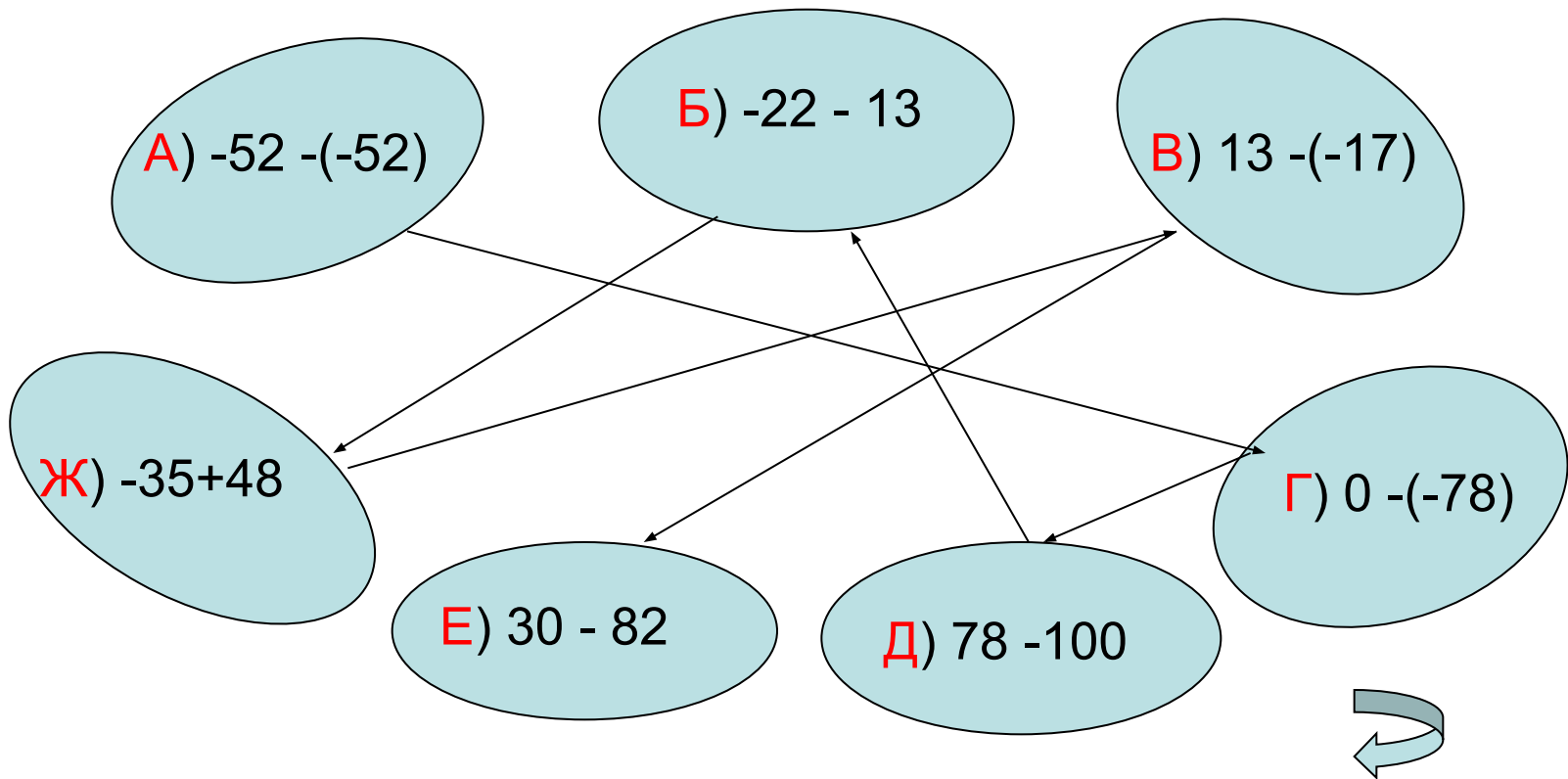
Об этом напоминает гора Карандаш, что расположена в верховьях реки Куса, где в XVII – XIX веках добывали «карандашный» камень.



ПЛЮС И МИНУС

Самый сильный мороз в Челябинской области был зафиксирован в Нязепетровске в 1979г.

Назовите самую низкую температуру Челябинской области.



Затруднительные положения

В Челябинской области есть пещера, в которую ведёт отвесный колодец. Со дна колодца ведёт спуск в горизонтальную часть пещеры. По преданию в конце XIX веке в пещере жил старец, именем которого названа эта карстовая полость. Как называется эта пещера?

Комсомольская – **78**м

Ериклинская – **2**м

Аверкиева Яма - **21**м

$$21 \cdot 2 - 24 = 18$$

$$18 \cdot 2 - 24 = 12$$

$$12 \cdot 2 = 24$$


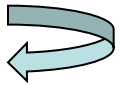


Заколдованный треугольник

Самый крупный грызун, ведущий полуводный образ жизни, - бобр речной.

Этот неутомимый строитель создаёт хатки высотой до **2** метров. Попасты в его нору, которая достигает до **20** метров длиной, можно только нырнув под воду. Какой вес у этого грызуна?

Сколько всего треугольников на рисунке **51**?



Назвать песню, в которой встречается число.
Пропеть несколько строчек из этой песни.

Жили у бабуся два весёлых гуся

