

Занимателън

ая
ЗАНИМАТИКА

математика



$$23 + 17$$

$$56 - 16$$

$$100 - 60$$



Задачи – смекалки

Если из наименьшего двузначного числа вычесть наибольшее однозначное число, то получится....

$$10 - 9 = 1$$





У дедушки было несколько книг. Он подарил внучке **3** книги. Теперь у дедушки нет ни одной книги. Сколько книг стало у внучки, если первоначально у неё было на **2** книги **больше**, чем у дедушки?

$$3 + 2 = 5 \text{ (было у внучки)}$$
$$5 + 3 = 8 \text{ (стало у внучки)}$$

Что легче: 1 кг ваты или 1 кг меда?





Разгадай ребусы.

По 2 л 7 я

40


100 лб



а



Разгадай ребусы.



Разгадай ребусы.

а



100 ЯНКА



Поиск закономерностей

Проследи, как получается каждое следующее число и назови в каждый ряд ещё по 1 числу

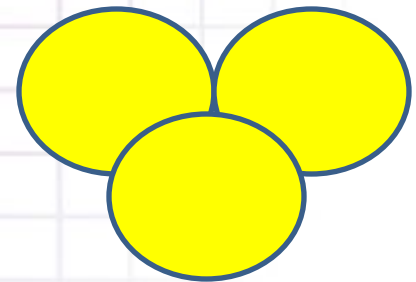
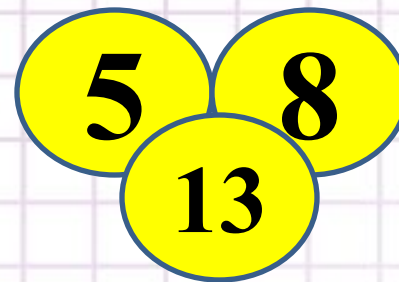
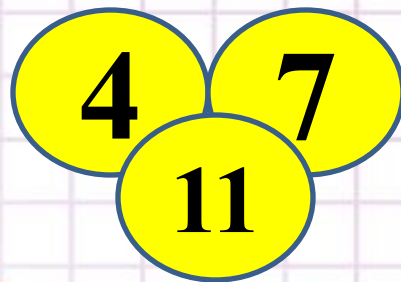
1) 0, 2, 4, 6, 8, **.10**

3) 1, 2, 4, 7, 11, **..16**

2) 1, 4, 7, 10, **...13**

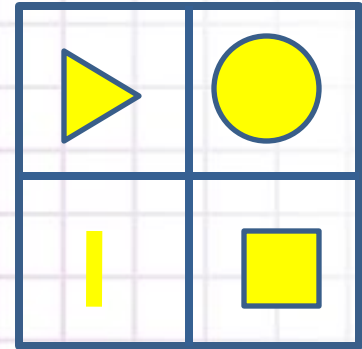
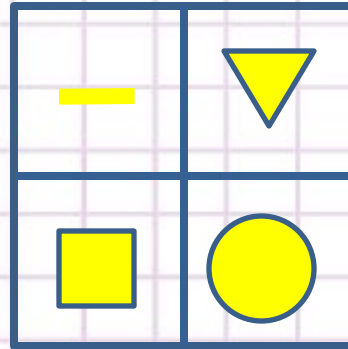
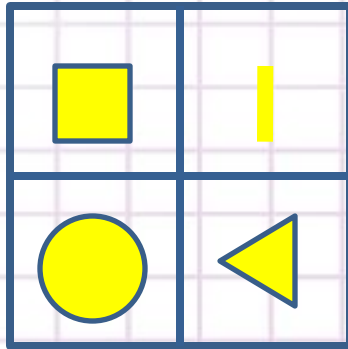
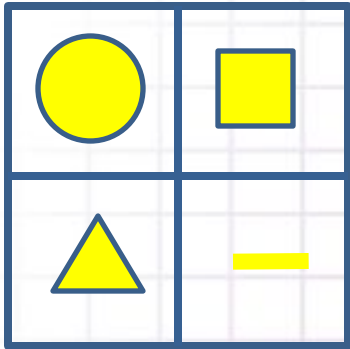
4) 4, 8, 12, **..16**

Найдите связь между числами заполните свободные кружки



Будь внимательным

Заполните фигурами пустой квадрат



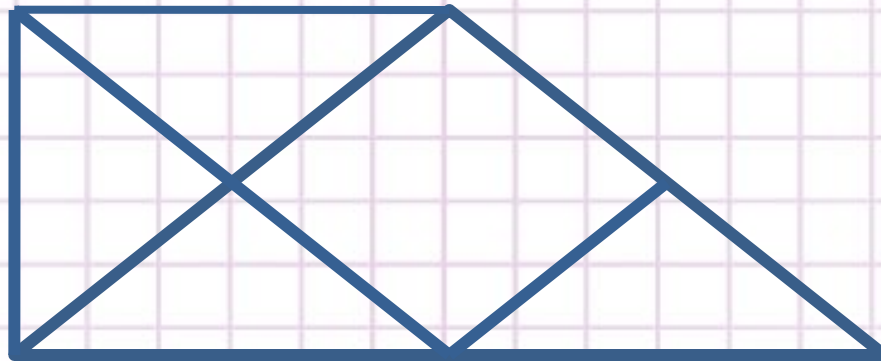
Примечание:

проследите как изменяется расположение фигур в первых трёх квадратах.

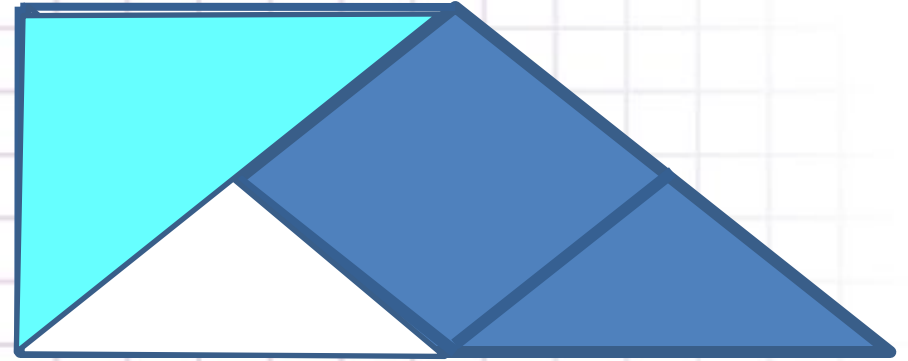
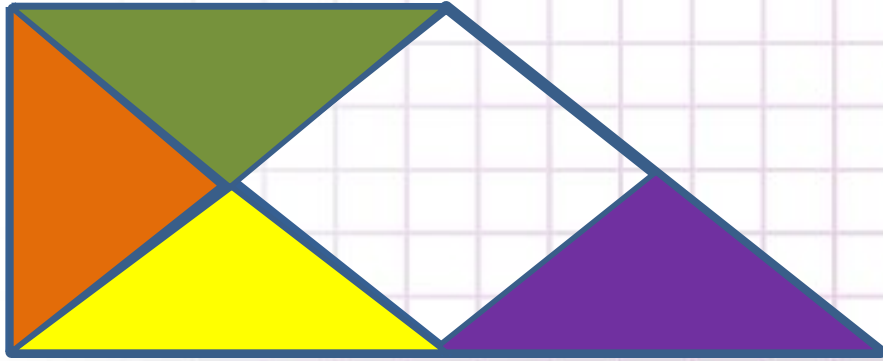


Будь внимательным

Сколько на чертеже различных треугольников?



Проверь: 7 ▲





Молодцы!
Так держатся!

