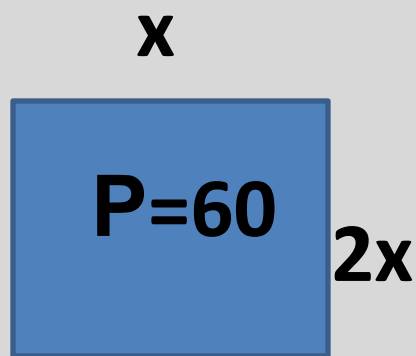


СОСТАВЬ МАТЕМАТИЧЕСКУЮ МОДЕЛЬ К ЧЕРТЕЖАМ

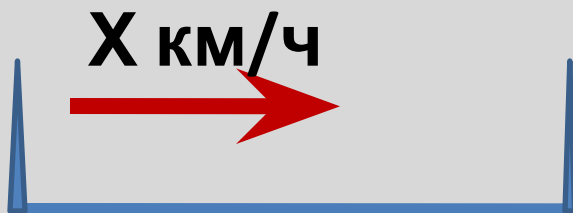
1.



2.




3.



$$S = 15 \text{ км}$$

$$t = ?$$

4.



$$S = ?$$

ПРОВЕРЬ

1. $(x+2x)^2=60$

2. $(x+3+x+x+2+x-1)=44$

3. $15:x$

4. $(a+b)^2$

**ПО КРАТКОЙ ЗАПИСИ СОСТАВЬТЕ
УСЛОВИЕ ЗАДАЧИ**

1 полка – x книг

2 полка – $2x$ книг

3 полка – $(x+5)$ книг

275 книг