





$3,6 \cdot 3$




$0,25 \cdot 4$



$0,05 \cdot 4$




$0,004 \cdot 6$




$2,6 \cdot 5$



$0,125 \cdot 8$



$0,02 \cdot 15$



К  
10,8

Г  
0.2

Я  
0,3

И  
1

Н  
10,3


Е  
0,024

Л  
13



Самые крупные из оленей – лоси достигают массы 500кг. Масса самого маленького из оленей – кабарги составляет 0,016 массы лося. Какова масса кабарги?



A large shark, likely a tiger shark, is swimming in the ocean. The shark has a patterned body with dark spots and stripes. It is surrounded by many smaller fish, creating a busy underwater scene. The water is a deep blue color.

Киты-касатки достигают в длину 7м, длина кита – кашалота в 2,85 раза больше. Найдите длину синего кита, которая больше длины кита-касалота в 1,65 раза (округлите предварительно длину кита кашалота до единиц).

1)  $0,7 \cdot 2 = 0,14$

6)  $12,5 \cdot 8 = 100$

2)  $0,15 \cdot 3 = 0,45$

7)  $32,1 \cdot 3 = 96,3$

3)  $1,5 \cdot 4 = 6$

8)  $100 \cdot 3,8 = 380$

4)  $6,12 \cdot 10 = 61,2$

9)  $10 \cdot 0,06 = 0,6$

5)  $2,5 \cdot 4 = 10$

10)  $0,0007 \cdot 1000 = 0,7$



