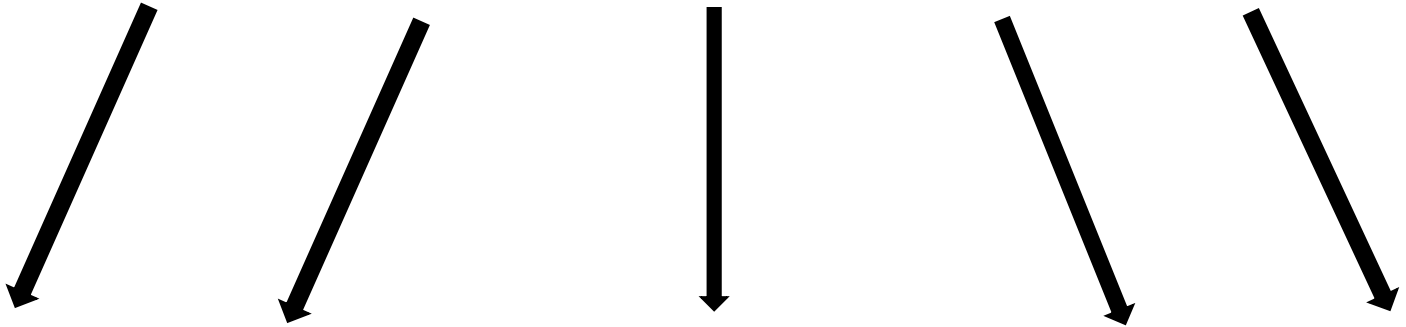


**Учитель начальных классов
Зюбина Нина Николаевна.**

**МОУ» Средняя
общеобразовательная школа
№8»**

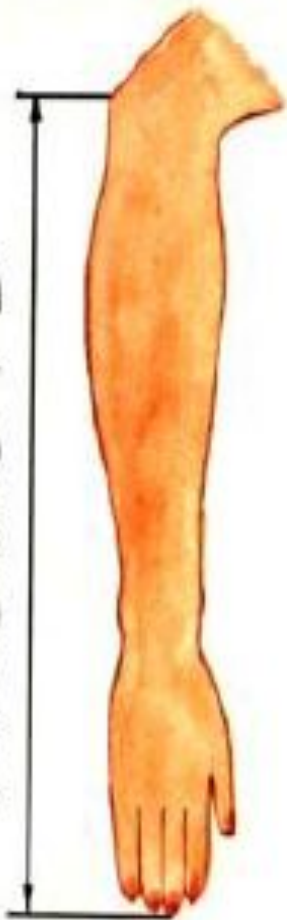
Величина



Длина



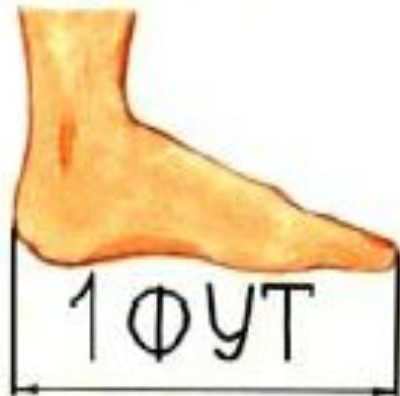
1 ЛОКОТЬ



1 ДЮЙМ



1 ФУТ





a)

b)


Алгорит

1) Приложить линейку, совместив начало ~~отрезка~~ *М* с нулем на линейке




2) Найти на линейке число, соответствующее второму концу отрезка

3) Назвать

ответ



$$AB = 8 \text{ cm}$$



Используемый материал САЙТА ЯНДЕКС для презентации.

<http://strangeworlds.at.ua/new>

...

<http://do.gendocs.ru/docs/inde>

...

http://videoblock.info/38_popu

...