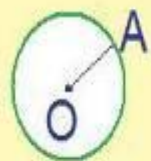


Шар

1) OA - ...



2) O - ...



3) ...



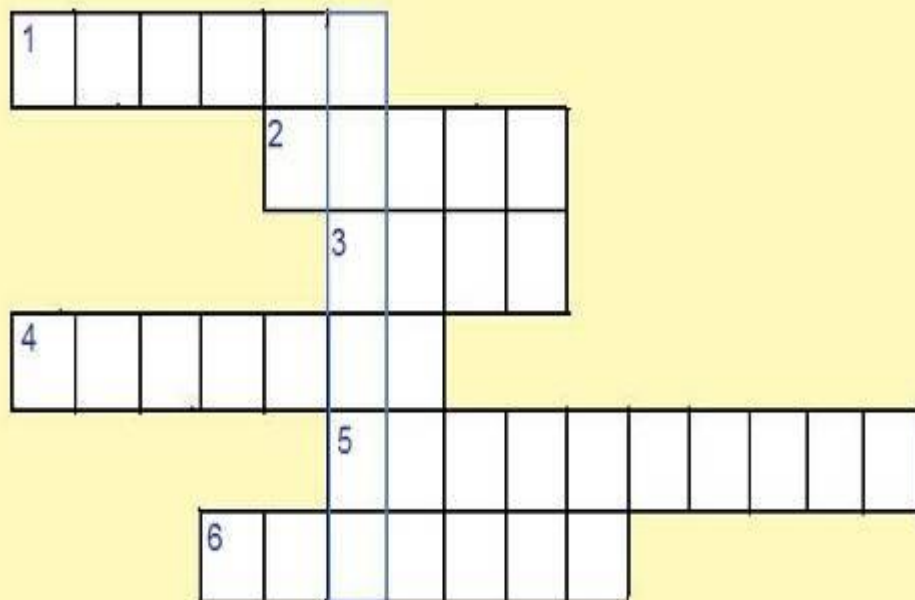
4) AB - ...



5) ...



6) Название инструмента для вычерчивания окружностей.



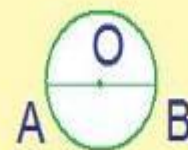
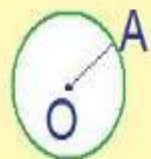
1) OA - ...

2) O - ...

3) ...

4) AB - ...

5) ...



6) Название инструмента для вычерчивания окружностей.

Р А Д И У С

Ц Е Н Т Р

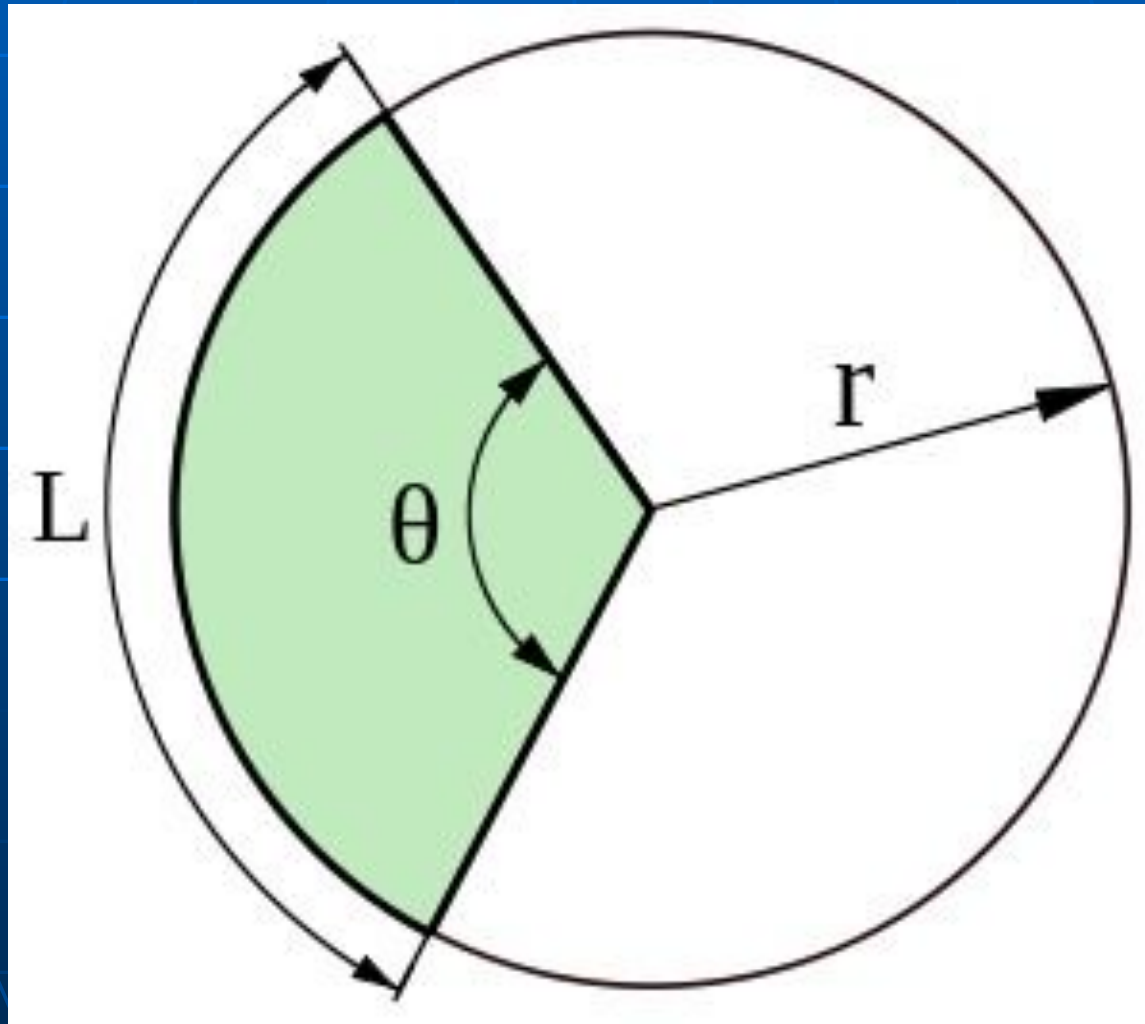
К Р У Г

Д И А М Е Т Р

О К Р У Ж Н О С Т Ь

Ц И Р К У Л Ь

**Сектор** – это часть круга, ограниченная дугой и двумя радиусами, соединяющими концы дуги с центром круга.



<http://www.photostart.info>



Определите  
диаметры стволов:  
а) эвкалипта,  $C=25$  м  
б) мамонтова дерева,  
 $C=32$  м

# ОТВЕТЫ

- Диаметр ствола эвкалипта 8,1 м
- Диаметр ствола мамонтова дерева 10,3 м



# Воздушный шар







# Шар и его элементы

