

**04.10.2018г**  
**Классная**  
**работа**  
**Повторение**

Дернова А. М.  
МБОУ «Новотроицкая СОШ»  
2018г

Назовите **двузначное** число,  
сумма цифр которого равна  
наибольшему однозначному  
числу.

Сколько существует таких  
чисел?

18 27 ... 90

1)  $26*** > 24***$



2)  $87* < 1***$



3)  $64* < **21$



1) 4 км  $\boxed{>}$  3 972 м

2) 5 дм  $\boxed{>}$  5 см



4) 534 кг  $\boxed{<}$  6 ц

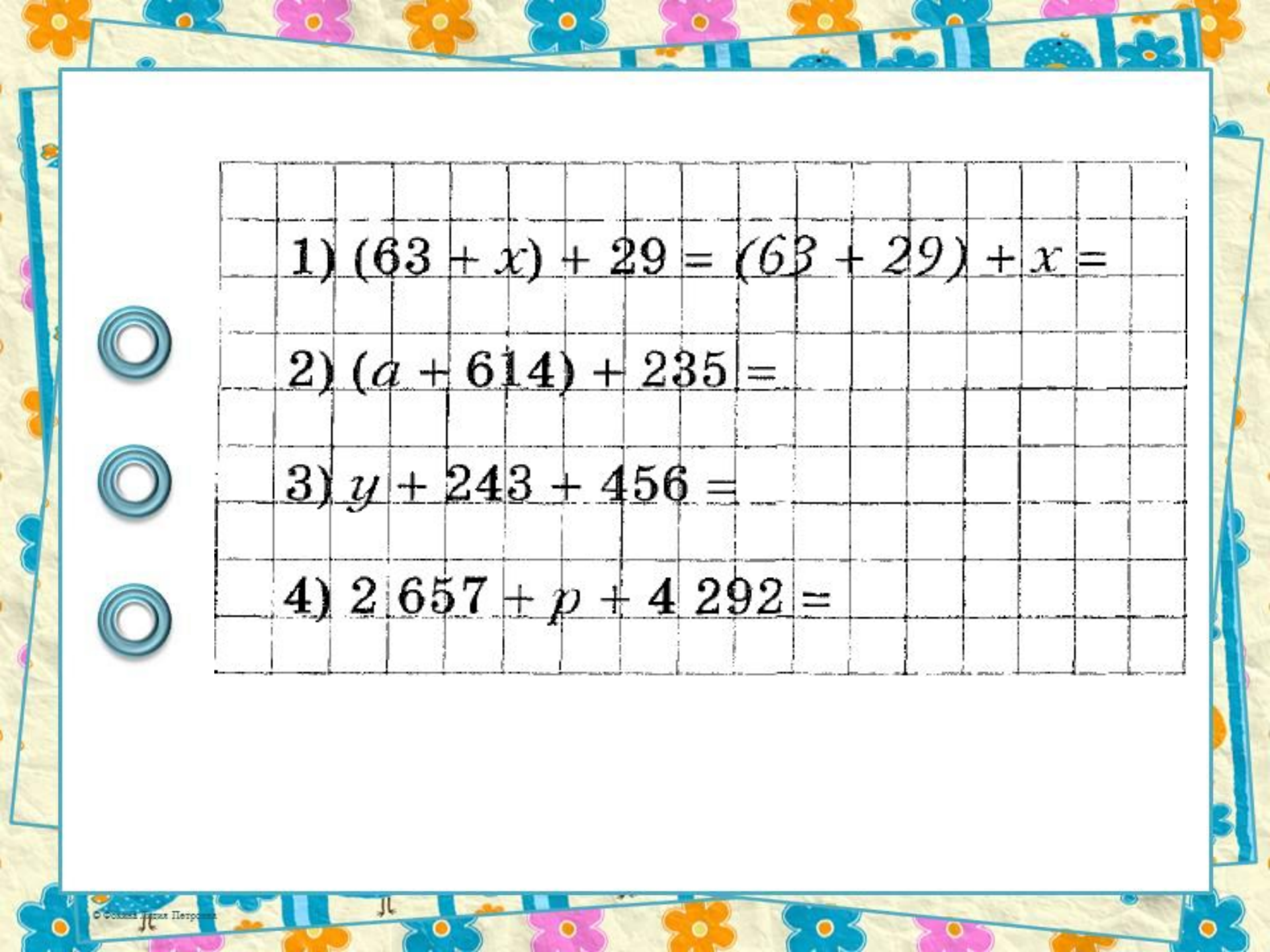


5) 3 ц 48 кг  $\boxed{<}$  352 кг




3) 2 км 86 м  $\boxed{<}$  2 123 м


6) 1 т 116 кг  $\boxed{=}$  11 ц 16 кг




1)  $(63 + x) + 29 = (63 + 29) + x =$



2)  $(a + 614) + 235 =$



3)  $y + 243 + 456 =$



4)  $2\,657 + p + 4\,292 =$

*Вместо звёздочек поставь цифры,  
чтобы получилось верное равенство*

$$\begin{array}{r} + 4578 \\ 5631 \\ \hline 10209 \end{array}$$

$$\begin{array}{r} + 75028144 \\ 32568931 \\ \hline 107597075 \end{array}$$



1) 
$$\begin{array}{r} 26\boxed{2}4 \\ + 3\boxed{4}5\boxed{9} \\ \hline \boxed{6}083 \end{array}$$

2) 
$$\begin{array}{r} 142\boxed{7} \\ + \boxed{5}80\boxed{5}9 \\ \hline 5\boxed{9}\boxed{4}86 \end{array}$$

$$\begin{array}{r}
 3) \quad 6 \boxed{2} 4 5 \\
 + \boxed{6} 2 5 \boxed{4} 6 \\
 \hline
 \quad 3 2 9 \boxed{3} \\
 \hline
 7 \boxed{2} 0 8 4
 \end{array}$$

$$\begin{array}{r}
 4) \quad \boxed{9} \boxed{9} \\
 + \quad \boxed{9} \boxed{8} \\
 \hline
 1 9 7
 \end{array}$$





*Продолжите высказывания об  
уроке.*

*1. Теперь я умею ....*

*2. На уроке для меня было важно ....*

*3. На уроке мне было сложно ....*





**Дома: №№ 178,  
183**

Лунтик

[https://yandex.ru/images/search?pos=2&img\\_url=https%3A%2F%2Fimg11.postila.io%2Fresize%3Fw%3D600%26src%3D%252Fdata%252F02%252F2f%252F30%252Fa7%252F022f30a7727c69262bef182d7200fd2aed4dc5a615f9df18a7c64b5f8650f209.png&text=лунтик%20картинка%20для%20детей&rpt=simage&lr=65](https://yandex.ru/images/search?pos=2&img_url=https%3A%2F%2Fimg11.postila.io%2Fresize%3Fw%3D600%26src%3D%252Fdata%252F02%252F2f%252F30%252Fa7%252F022f30a7727c69262bef182d7200fd2aed4dc5a615f9df18a7c64b5f8650f209.png&text=лунтик%20картинка%20для%20детей&rpt=simage&lr=65)



Слайд № 6 Из презентации **Каратанова Марина Николаевна,**  
**МОУ СОШ №256, г.Фокино.**

# Информационные ИСТОЧНИКИ

Шаблон составлен из фигур программы  
*PowerPoint*

Вы можете использовать  
данное оформление  
<http://www.grabon.com/>

для создания своих презентаций,  
но в своей презентации вы должны указать  
источник шаблона:

Фокина Лидия Петровна  
учитель начальных классов  
МКОУ «СОШ ст. Евсино»  
Искитимского района  
Новосибирской области

Сайт <http://linda6035.ucoz.ru/>