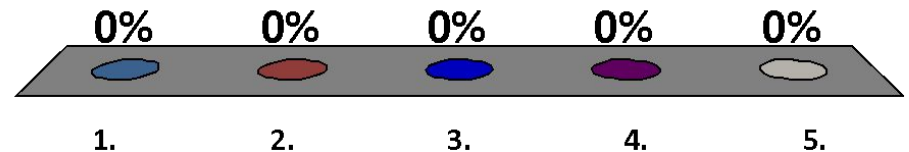


Выберите команду.

1. Команда 1
2. Команда 2
3. Команда 3
4. Команда 4
5. Команда 5

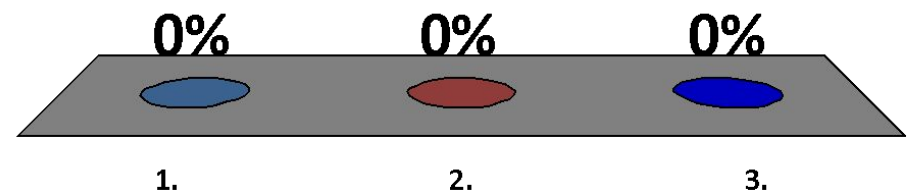


Длина отрезка 14 см 3 мм.

Запишите длину этого отрезка с точностью до 1 см с округлением.

1. 14
2. 13
3. 15

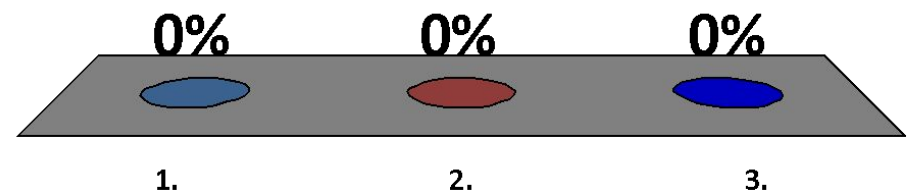
0 из 30



5 дм 6 см запишите с точностью до
1 дм с недостатком.

1. 6
2. 5
3. 56

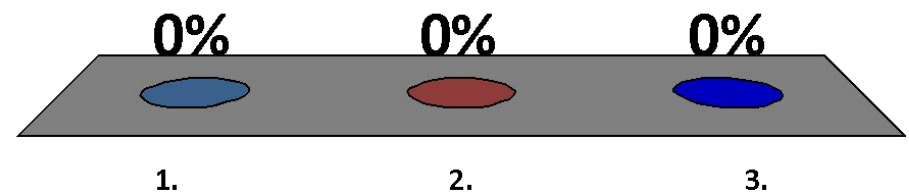
0 из 30



Сколько натуральных чисел можно
отметить на координатном луче
между точками с координатами 8 и 13

1. 5
2. 3
3. 4

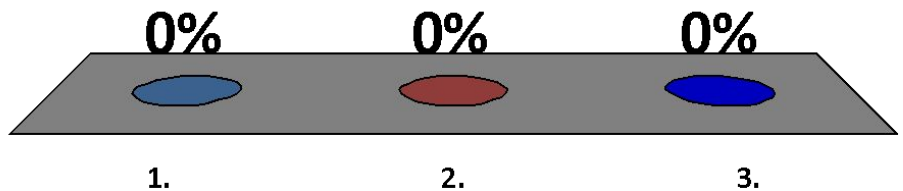
0 из 30



Выразите в метрах 5 км 5м.

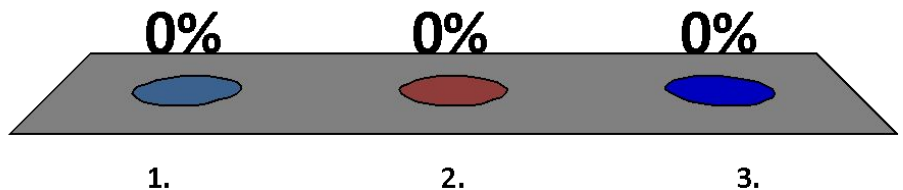
1. 50005 м
2. 505 м
3. 5005 м

0 из 30



$AB=12$ см, $AC=6$ см. Может ли точка C лежать между точками A и B ?

1. Нет
2. Да
3. Ответить
НЕВОЗМОЖНО



0 из 30

Очки участников

0 Участник 1

0 Участник 2

0 Участник 3

0 Участник 4

0 Участник 5

Очки команды

0 Команда 1

0 Команда 2

0 Команда 3

0 Команда 4

0 Команда 5

Самые быстрые респонденты (в секундах)

0 Участник 1

0 Участник 2

0 Участник 3

0 Участник 4

0 Участник 5