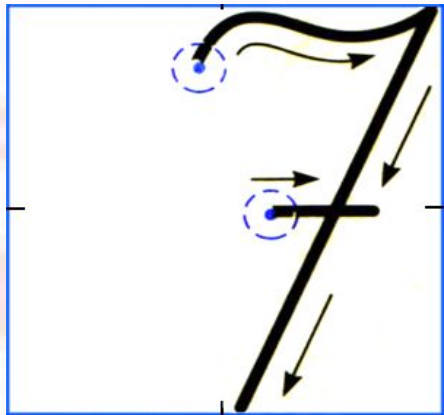


**Тема урока:
«Решение задач».**



**Назови числа. Какое число
следующее при счете? Пропиши.**

1 2 3 4 5 6 7



Посчитай шары и покажи цифру.



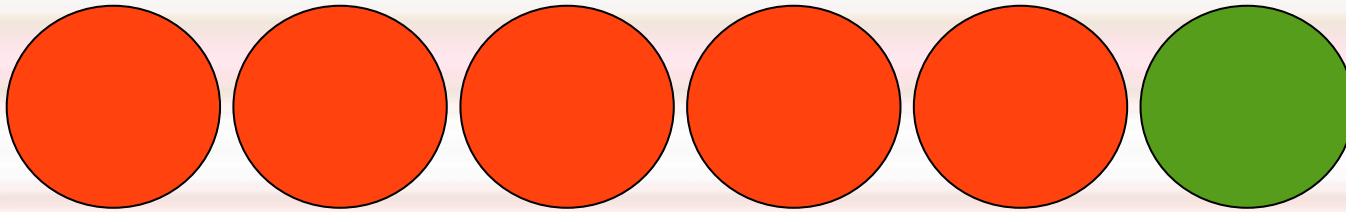
6

**Какой шар лишний?
Почему?**

Придумай к рисунку задачу, составь схему и реши ее.



Проверь



$$5 + 1 = 6$$



Физминутка.



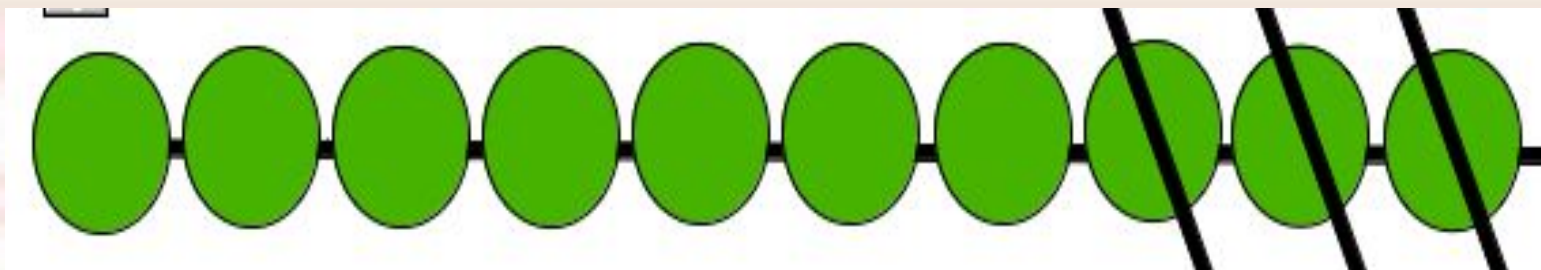
Работа по учебнику стр 114 № 1

Сначала в хор записались 10 учеников первого класса, а потом их стало на 3 меньше. Сколько учеников первого класса теперь в хоре?



**Составь схему и
запиши решение**

Проверь.



$$10 - 3 = 7$$



Работа в ТПО стр 40 № 1



Найди все цифры от 1 до 10



Молодец!

