

Вставить видео «Маша и Медведь сменили начало серий»

# Маша и Медведь

\* УРОК

МАТЕМАТИКИ

1 КЛАСС

Повторен

ие

пройденн


ого

материал




Маше осенью будет 6 лет и ей пора идти в школу.





5

1



4

6


2

8

7

3







# АЗБУКА

А	Б	В	Г	Д
Е	Ж	З	И	Й
К	Л	М	Н	О
П	Р	С	Т	У
Ф	Х	Ц	Ч	Ш
Щ	Ъ	Ы	Ь	Э
Ю	Я			



С НОВЫМ  
УЧЕБНЫМ  
ГОДОМ!

Таблица  
записей  
по  
урокам

7

8

9

10



KazTorrent.kz



4

6

2

8







8

7

6

5





**1**

**3**

**5**

**7**



10

8

6

4



5

10

15

20



11

22

33

44





10

20

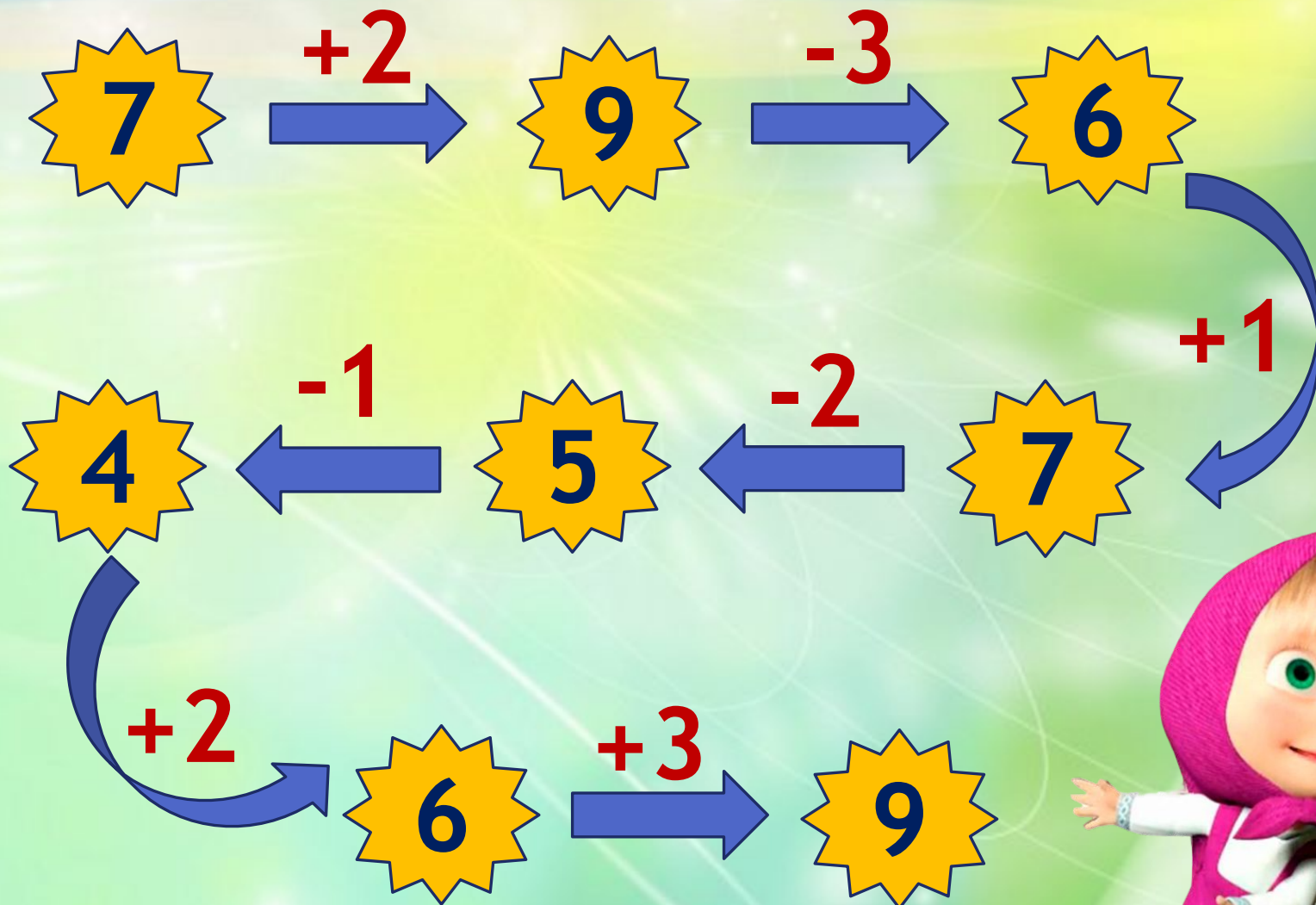
30

40



*Хочу домой!*





**МОЛОДЦЫ!**





Вставить видео «Маша и Медведь - Первая встреча.» Эпизод 1

# Знак сбежал

Преврати записи в верные равенства.  
Запиши в «окошках» знаки действий (+, -).



$2 \square 4 = 6$

$17 \square 10 = 7$

$10 \square 5 = 15$

$9 \square 3 = 6$

$30 \square 10 = 40$

$80 \square 30 = 50$



Вставить видео Маша и Медведь - Большая стирка. Эпизод 1

# Самостоятельная работа по карточкам



№1. Найди значение выражений.

$$2 + 7 - 6 = 3$$

$$19 - 9 + 5 = 15$$

$$40 + 30 - 0 = 70$$



№2. Спиши в тетрадь.

Сравни. Поставь знаки  $>$ ,  $<$ ,  $=$ .

$$6 + 3 * 10 - 2$$

$$10 - 6 * 9 - 3$$

$$0 + 30 * 30 - 0$$





# Число сбежало

Какие числа нужно вставить в «ОКОШКИ»?

$$7 + \square = 9$$

$$6 - 1 = 2 + \square$$

$$\square - 60 = 20$$

$$3 + \square < 6 - \square$$

$$19 - \square = 9$$

$$2 - \square > \square - 1$$





# физминутка









***Машины***

***задачи***





?





на ? меньше







\* Видео «Рыбалка» Эпизод 1



# Задачи от Мишки



## 1 вариант

Маша на рыбалке поймала 5 лещей, а Мишка на 3 леща больше. Сколько лещей поймал Мишка?

## 2 вариант

Мишка на рыбалке поймал 8 лещей, а Маша на 3 леща меньше. Сколько лещей поймала Маша?

\* проверка



**ИГРА**

**«Четвёртый**

**лишний»**











8

4

11

5



**а**

**Г**

**И**

**О**





**Хорошего дня!**

*(Показ фрагмента мультфильма  
«Маша и Медведь - Большое  
путешествие (А попрощаться,  
Прощаться же забыли!))*