

Tonmacy



*Миға шабуыл
(үй тапсырмасын тексеру)*

Таңбалар ережесін қайталау

$$+(+)= +$$

$$+(-)= -$$

$$-(+)= -$$

$$-(-)= +$$

11.11.16

7,5

-9;9

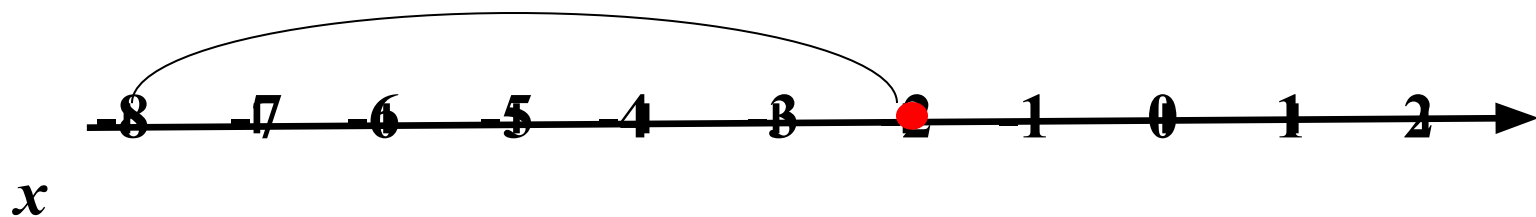
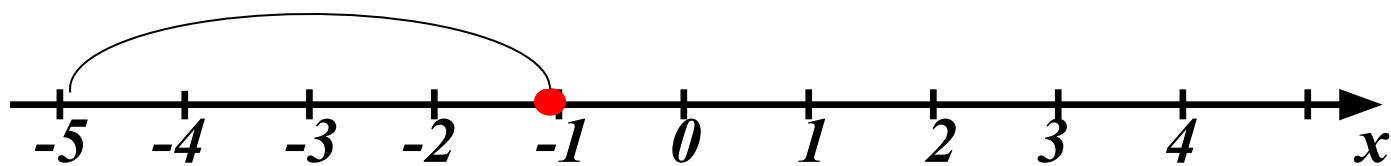
-4

English

DESIGN WAREZ RU

ДЕЗИГН-КАРТИНКИ.РАСЧЕТЫ.АРХИТЕКТУРА.ДИЗАЙН.ИЛЛЮСТРАЦИИ

Жаңа сабақ түсіндіру



Оқулықпен жұмыс

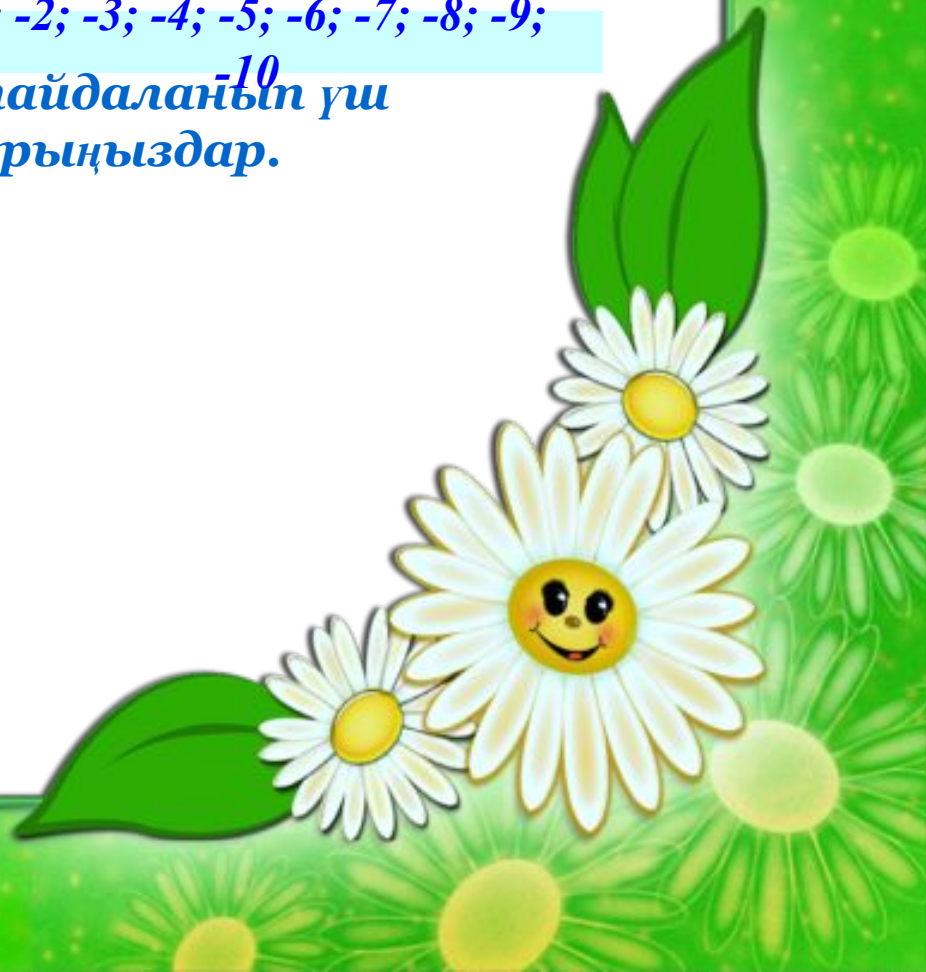


The image features a decorative border on a yellow background. The border consists of various butterflies in different colors (white, blue, orange, green) and green leaves with black dotted lines. The text is centered in the white space.

**Ойлан.
Бірік.
Бөліс.**



Сандар берілген: $-1; -2; -3; -4; -5; -6; -7; -8; -9;$
Сандарды бір рет пайдаланып ¹⁰ үш
дұрыс теңдік құрыңыздар.





Болжау стратегиясы

*Келесі тапсырмада қандай
сөз шығады деп
ойлайсыздар?*

$$-47+(-19) =$$

Т

$$-17+(-8) =$$

Р

$$-3,5+(-5,9) =$$

Е

$$-8,8+(-4,2) =$$

А

$$-5,9+(-3,7) =$$


К

$$-3,75+(-1,27) =$$

Д

Кему ретімен орналастырыңыздар





Декарт

Француз
математигі Рене
Декарт
(1596-1650).
1637 жылы
координаталық
түзуді енгізіп,
теріс және оң
сандарға түсінік
берді.





2024



Іште

Сыртқа

$$-6-7,2$$

$$6,3+1,2$$

$$0,95*0,5$$

$$-4+11$$

$$-0,25+(-1,5)$$

$$17,68-9,8$$

$$-0,1+(-6,7)$$


$$-16,5-10,5$$

$$-3,86+(-4,47)$$

$$-23,5+6$$



Кері байланыс





Үйге тапсырма беру

*Бүгінгі тақырыпты қайталау.
№447 есеп*



Багалду



5

4

3