

Презентация по теме:

«Отработка вычислительных навыков на уроках математики».



Составитель: Забаболина Оксана Владимировна
МОУ «Соколовская средняя общеобразовательная школа №4»

- **Основная задача обучения младших школьников математике – формирование у них сознательных и прочных вычислительных навыков.**
- **Вычислительная культура формируется у учащихся на всех этапах изучения курса математики, но основа её закладывается в начальной школе.**
- **Вычислительные умения и навыки можно считать сформированными в том случае, если учащиеся умеют с достаточной беглостью выполнять математические действия с натуральными числами.**

Какое животное самое быстрое ?



Гепард - 5



Лось - 3



Заяц - 7

2	7	6
9	?	1
4	3	8

Загадка

Среди песков, среди бархан идёт в пустыне караван. Устал, отстал один верблюд, узнайте, как его зовут ?

100	-	98
63	+	9
75	+	15
45	-	8
35	+	45
96	-	32



	а	в	
	64	9	
с	2	72	т
ё	90	37	п
	80	6	
	к	ю	4

Какая обезьяна самая крупная?



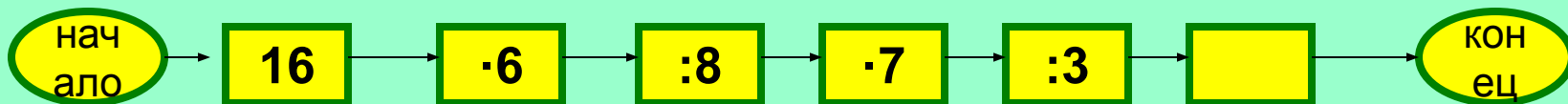
Орангутан - 26



Горилла - 28



Игрунки - 34



Какая птица выводит птенцов зимой?



Клест - 35



Дятел - 48



Синица - 15


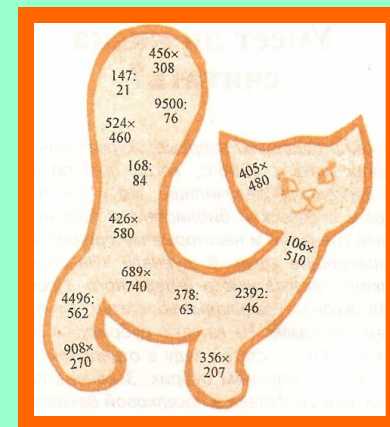

$$\square : 9 = \triangle$$

$$25 + \bigcirc = \square$$

$$5 \cdot 4 = \bigcirc$$

$$7 \cdot \triangle = \hexagon$$

Весёлые карточки



Разгадай правило, по которому составлена таблица, и подставь в пустую клетку недостающее число.

1	9	17	7
3	5	18	10
4	6	23	13
2	8	33	?

Русское лото

Тираж № 4

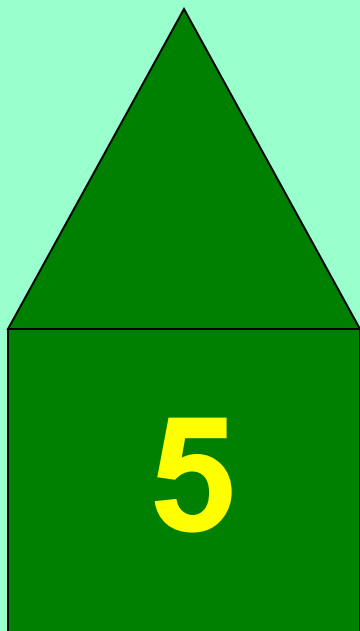
1. Увеличь 9 в 3 раза.
2. Увеличь 7 на 6.
3. Уменьши 54 в 9 раз.
4. Уменьши 32 на 4.
5. Найди произведение чисел 6 и 5.
6. Найди частное чисел 18 и 6.
7. Найди сумму чисел 8 и 9.
8. Найди разность чисел 40 и 8.
9. На сколько 70 больше 10?
10. Во сколько раз 5 меньше 50?

6	10		30	48			72	
	12		32			60		87
3		27		45			77	
	13	24			50			
8	17		35		55			80
2		28		42		63		90

Угадай номер дома.

Запиши номер своего дома и выполни такие действия:

1. умножьте это число на 2;
2. прибавьте 3;
3. полученное число умножьте на 50;
4. к произведению прибавьте свой возраст и число 65;
5. из полученного результата надо вычесть 215;
6. в полученном числе 2 последние цифры обозначают возраст, а оставшиеся - номер дома.



Например,

$$5 \cdot 2 = 10$$

$$10 + 3 = 13$$

$$13 \cdot 50 = 650$$

$$650 + 14 + 65 = 729$$

$$729 - 215 = 514$$

Математический лабиринт

