

Задачи на нахождение цены, количества, стоимости : вариант 2 (для 4 класса)




Яковлева Татьяна Петровна,
доцент кафедры математики и физики
Камчатского государственного
университета имени Витуса Беринга,
кандидат педагогических наук, доцент,
г. Петропавловск - Камчатский

Презентация разработана на основе пособия:



**Буряк М.В. Математика:
итоговая аттестация.
4 класс: текстовые задачи /
М. В. Буряк, С. А. Шейкина.
– Ростов на Дону: Феникс,
2016. – 42 с.**



ИНСТРУКЦИЯ ПО ВЫПОЛНЕНИЮ ТЕСТА

- 1. Прочитайте внимательно условие задачи.**
- 2. Составьте краткую запись и решите задачу.**
- 3. Из предложенных вариантов ответа выберите тот, который, на ваш взгляд, является правильным.**
- 4. Нажмите на поле выбранного ответа. Если вы ответили верно, переходите к следующему заданию. Если вы ответили не верно, перерешайте задачу.**
- 5. Оцените свои возможности.**


Желаем успеха!

II вариант



Задача 1

Бабушка заплатила за 2 десятка яиц 110 рублей. Сколько десятков яиц она могла бы купить на 385 рублей?



9 десятков

6 десятков

7 десятков


5 десятков

Далее

Задача 2



Четыре вазы для цветов стоят 5820 рублей, а два подсвечника – в 3 раза дешевле. На сколько 6 ваз дороже четырёх подсвечников?



4850 рублей

8730 рублей

3880 рублей

4805 рублей

Далее

Задача 3



Диван стоит 9450 рублей, а цена одного кресла – в 3 раза меньше. Сколько стоят диван и 2 кресла вместе?



9450 рублей

15750 рублей

630000 рублей

15570 рублей

Далее

Задача 4

Куртка стоит 1140 рублей, а брюки в 2 раза дешевле. Сколько вместе стоят брюки и куртка?

510 рублей

1170 рублей

1710 рублей

1510 рублей



Далее

Задача 5

Подружки купили 9 булочек по одинаковой цене. Лена заплатила за булочки 102 рубля, а Оля – 51 рубль. Сколько булочек купила Лена?

3 булочки

6 булочек

5 булочек

4 булочки



Далее

Задача 6

Папа купил 4 литра сока, заплатив за него 248 рублей. Сколько денег он заплатил бы за 2 литра сока, если бы купил его со скидкой 10%?

5580 коп.

111 р. 60 коп.

111 р.

116 р. 10 коп.



Далее

Задача 7

Два плюшевых медведя в магазине стоят 2800 рублей. Сколько нужно заплатить за 3 игрушечных автомобиля, если один автомобиль на 120 рублей дешевле, чем плюшевый медведь?

1260 рублей

2680 рублей

3840 рублей

3870 рублей



Далее

Задача 8

Для пошива платьев купили 20 метров ткани по 378 рублей за метр, потом докупили еще 8 метров ткани по той же цене. Сколько всего денег потратили на ткань?

7560 рублей

10548 рублей

10584 рубля

1584 рубля



Далее

Задача 9

Мама купила 9 мотков шерсти белого и красного цвета по одинаковой цене. За красные мотки она заплатила 870 рублей, а за белые – 435 рублей. Сколько красных мотков шерсти купила мама?

12 МОТКОВ

6 МОТКОВ

3 МОТКА

9 МОТКОВ



Далее

Задача 10

На рынке купили 6 кг моркови по 42 рубля за килограмм и такое же количество картофеля. Вся покупка обошлась в 576 рублей. Сколько стоит 1 кг картофеля?

324 рубля

45 рублей

54 рубля

252 рубля



Далее

Молодец!
Верный ответ!



НАЗАД

Неверно,
подумай еще!



НАЗАД