

МАТЕМАТИЧЕСКАЯ ИГРА

*Много в школе есть предметов
Интересных и крутых,
Но милее всех на свете
Математика из них!*

*Там есть цифры, теоремы,
Все в них точно, без прикрас.
С ней решу я все проблемы.
А задачи – просто класс!*

СЛОЖИ ПОСЛОВИЦУ

ГО.

за

Один

ОДНО-

ВСЕХ,

ВСЕ

И

за

МАТЕМАТИЧЕСКАЯ РУЛЕТКА



фини

ш

загадочная логика





У прямоугольника
отрезали один
угол.

Сколько углов
остался?




5

ШПИОНСКИЕ СТРАСТИ



$$9 \ 9 \ + \ 9 \ = \ 1 \ 0 \ 8$$


$$1 \ 8 \ \times \ 9 \ = \ 1 \ 6 \ 2$$

Курьёз на дороге

Из Москвы и Санкт-Петербурга одновременно навстречу друг другу выехали два автомобиля. Они двигались равномерно, без остановок со скоростями **60** км/ч и **70** км/ч. Какая из машин будет дальше от Москвы в момент встречи?



оба одинаково

а ну-ка, сосчитай!

Летела стая гусей. Один гусь впереди и два позади. Один позади и два впереди, один между двумя и три в ряд. Сколько их было?



3

ребус



МИНУС



ЧЕРНЫЙ ЯЩИК

- 1.** это единственная цифра, которой поставлен памятник,
- 2.** имеет два названия,
- 3.** только эта цифра пишется точно так же, как одна из букв.



продолжи ряд чисел

1, 1, 2, 3, 5, 8, 13... 21



ИСКЛЮЧИ ЛИШНЕЕ СЛОВО

МАМУС

сумма

СОЧЛИ

число

ШКОКА

КОШКА

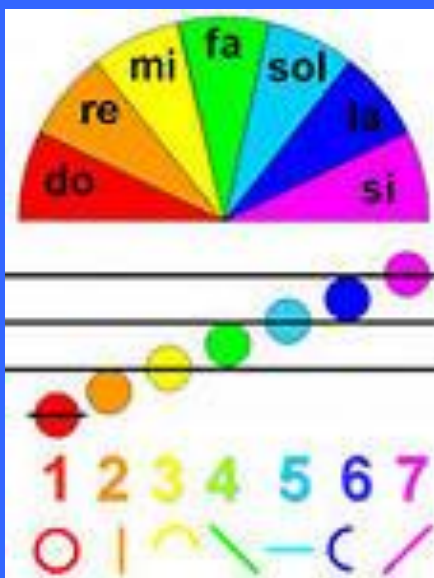
НУСИМ

МИНУС



ДУША ПОЁТ

Какими двумя нотами определяется часть
чего-нибудь?



ДОЛЯ



СТРОГАЯ ЛОГИКА

Ты да я,
да мы с тобой.
Сколько нас?



2



На внимательность

К семи прибавить пять.

Как правильно
записать

«одиннадцать» или
«адиннадцать»

12

загадка



ДРУЖИМ С ГЕОМЕТРИЕЙ

Какой фигуры нет на рисунке?

- а) круга;
- б) квадрата;
- в) прямоугольника;
- г) треугольника;
- д) все перечисленные фигуры есть.



ЭКСПЕРТИЗА

Что тяжелее:

1 кг железа или

1 кг ваты?

РАВНЫ

ПО ВЕСУ



ПОДВЕДЕНИЕ ИТОГОВ

СПАСИБО ЗА ИГРУ!