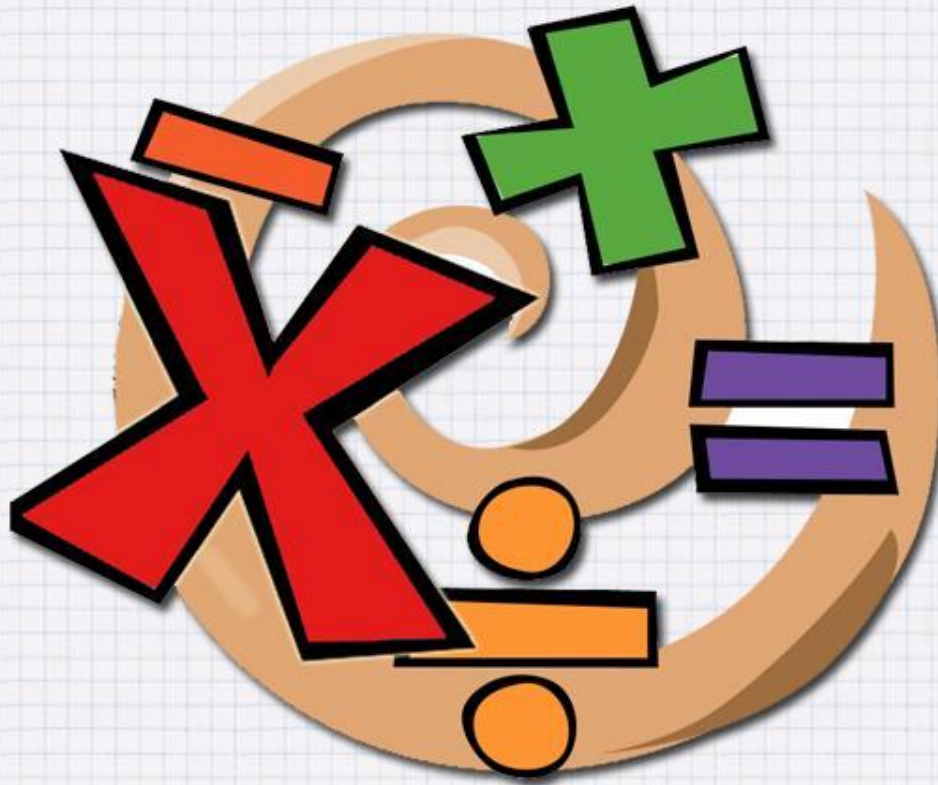


Математика 2 класс



олимпиадные задания

У трёх братьев по три сестры. Сколько всего детей в семье?



5

9

6

Сумма двух чисел равна 25. Одно из них на 7 больше другого. Какие это числа.



18 и 7

9 и 16

12 и 13

Что тяжелее: 1 кг ваты или 1 кг железа?



вата

ОДИНАКОВ

железо

О

Горело 7 лампочек. 3 из них погасили.



4

3

7

Какая из данных фигур является ломаной?



1

0

2

Поставь между цифрами знаки «+» или «-» так.
Чтобы в результате получились равенства.



$1 \ 2 \ 3 \ 4 \ 5 = 5$





$1 + 2 + 3 + 4 - 5 = 5$

$1 \ 2 \ 3 \ 4 \ 5 = 41$



$12 + 34 - 5 = 41$

Зайчиха разложила 42 морковки на 7 кучек так, чтобы кучек с одинаковым количеством морковок не было. При этом, количество морковок в каждой кучке обозначается однозначным числом. Сколько морковок в каждой кучке?



**3, 4, 5, 6, 7, 8 и 9
морковок**