

**1. На дворе — горой,**

**А в избе — водой.**

**3. Кто на себе свой дом возит?**

**4. Зимой и летом одним цветом.**

**5. Висит сито — не руками свито.**

**6. Без крыльев летят,**

**Без паруса плывут.**

**Без ног спешат.**


**7. Живёт в лесу,**

**Люди его боятся,**

**Ухает, как разбойник;**

**А он людей боится.**

Сосчитай треугольники.



**5 треугольников**

Отгадайте ребус.



**выдра**

Отгадай ребус.

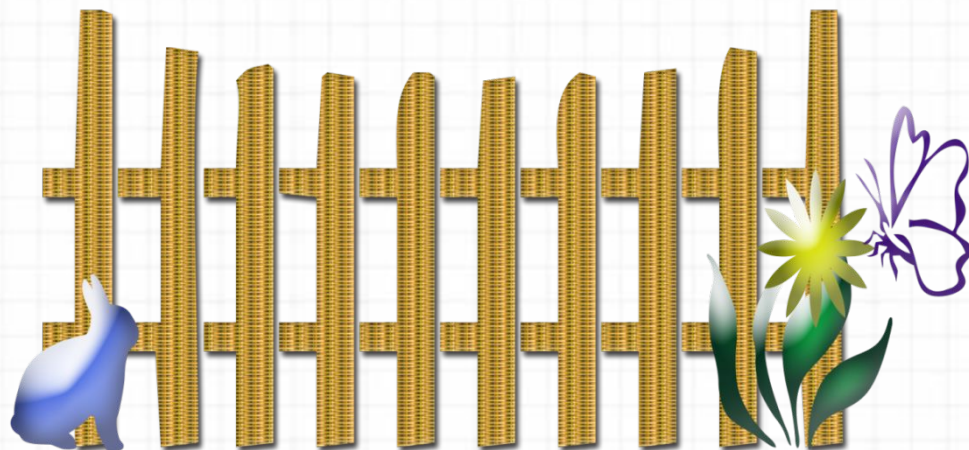



ка



y  
~~e~~






**КОЗА**




**шары**

Катя, Галя и Оля спрятали игрушки – медвежонка, зайчика и утёнка. Кто какую игрушку спрятал, если известно, что Оля не прятала ни зайчика, ни медвежонка. А Катя не прятала зайчика.




Галя



Катя




Оля





В комнате **4** угла. В каждом углу сидела кошка, напротив каждой кошки - **3** кошки. Сколько кошек находилось в комнате?




**4**


Во дворе гуляют куры и петух. У каждой курицы по 2 цыплёнка. Всего птиц 7. Сколько кур гуляет во дворе?

2

курицы



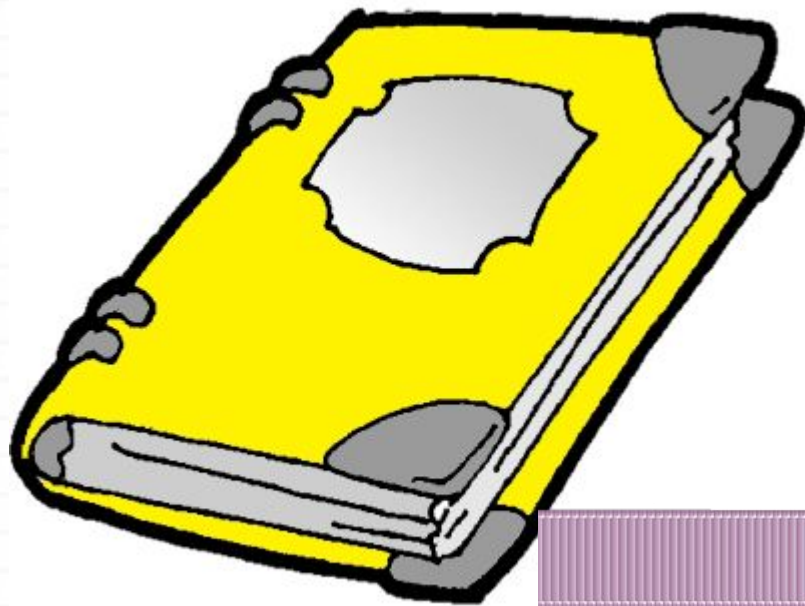
На верёвке **3** узелка. Сколько промежутков?



2

**ПРОМЕЖУТКА**

У переплётчика лента длиной **10 м**. Каждый день он отрезает от неё кусок в **1 м**. Через сколько дней будет отрезан последний кусок?



через 9

дней

В двух корзинах **9** кг овощей. Сколько овощей в каждой корзине, если во второй корзине на **1** кг овощей больше, чем в первой?

**4 кг и 5 кг**



**9 кг**




Сейчас Маше и Вове 9 лет. Кто из них старше, если у Маши в этом году уже было день рождения, а у Вовы ещё будет?

старше


Маша



Катя, Галя и Оля спрятали игрушки – медвежонка, зайчика и утёнка. Кто какую игрушку спрятал, если известно, что Оля не прятала ни зайчика, ни медвежонка. А Катя не прятала зайчика.




Галя



Катя



Оля





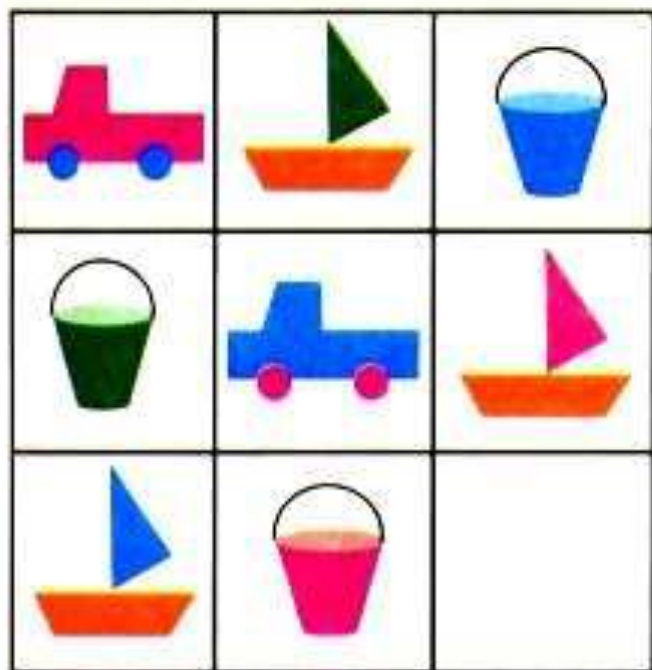
У Тани было 5 орехов. Когда она отдала 1 орех брату, то у них стало поровну орехов. Сколько орехов было у брата?

3 ореха





7. Определи для каждой таблицы, какую картинку надо вставить в пустую клетку.



Во дворе гуляют куры и петух. У каждой курицы по 2 цыплёнка. Всего птиц 7. Сколько кур гуляет во дворе?

2

курицы



В двух корзинах **9** кг овощей. Сколько овощей в каждой корзине, если во второй корзине на **1 кг** овощей больше, чем в первой?

**4 кг и 5 кг**



**9 кг**











Отгадай слова, запиши их.

П  ДКА,









ГР , 100 ЯНКА,

О  РОЖНОСТЬ, ВЫ  КА.

7. Определи для каждой таблицы, какую картинку надо вставить в пустую клетку.





Прочитай. Замени выделенные буквы другими, чтобы получились новые слова.

река

рука

лип

луп

белк

булк

стран

струн

Звуковой диктант. Запишите буквы и звуки. Отгадайте слово.

Первый звук из слова **ЗУБ**.

Вторую букву из слова **Ч...СЫ**.

Третий звук из слова **САДИК**.

Чётвёртую букву из слова **РОЩ... .**

Третий звук из слова **КУЧА**.

Вторую букву из слова **ПИЩ... .**

Какое слово у тебя получилось?

**задача**

**2** девочки сажали деревья, а **1** - цветы. Что сажала Таня, если Света с Таней и Лариса с Таней сажали разные растения?

**ТАНЯ -  
ЦВЕТЫ**





# Игра «Занимательные рамки».

<b>7</b>		<b>2</b>
	<b>10</b>	
<b>1</b>		<b>5</b>

<b>4</b>		<b>5</b>
	<b>9</b>	
<b>3</b>		<b>1</b>


Во дворе гуляют куры и собаки, на всех - **10** ног.  
Сколько во дворе кур и сколько собак?



**1** собака и **3**  
курицы,

**2** собаки и **1**

Составь рассказ  
по картинкам.




Разгадай ребус.




Ма

Я




Январь

Катя быстрее Иры, Ира быстрее Лены. Кто быстрее всех?



**Катя**

На озере плавало **5** уток, охотник выстрелил и убил **1**. Сколько уток осталось на озере?



**0**


Отец с двумя детьми катались на велосипедах. Велосипедов было **3**, а колес **7**. Как это могло быть?



**Один велосипед был с 3 колесами.**


Вдоль дорожки друг за другом растут **5** деревьев, между которыми стоят скамейки. Сколько всего скамеек?

4






Катя, Галя и Оля спрятали игрушки – медвежонка, зайчика и утёнка. Кто какую игрушку спрятал, если известно, что Оля не прятала ни зайчика, ни медвежонка. А Катя не прятала зайчика.




Галя



Катя



Оля



Одно яйцо варят **4** минуты. Сколько минут надо варить 10 яиц?

**4**

**МИНУТЫ**



# Игра «Занимательные рамки».

<b>7</b>		<b>2</b>
	<b>10</b>	
<b>1</b>		<b>5</b>

<b>4</b>		<b>5</b>
	<b>9</b>	
<b>3</b>		<b>1</b>