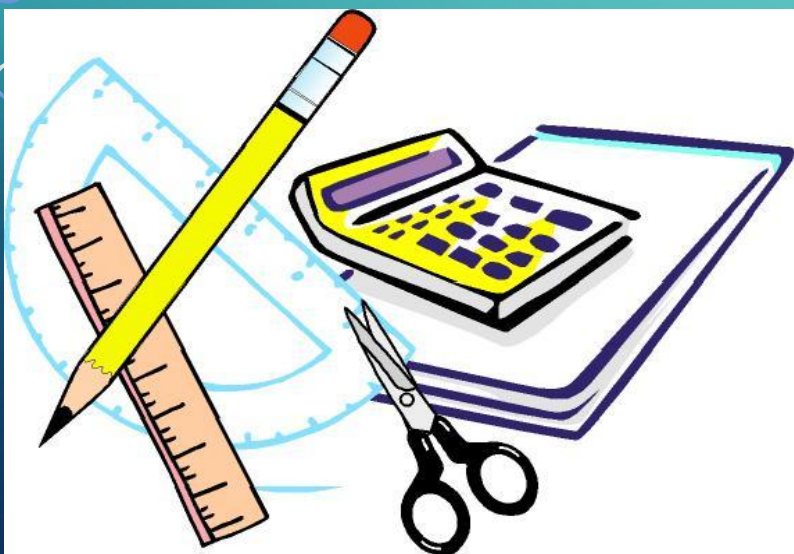


# КВН


ПО

МАТЕМАТИКЕ

4 КЛАСС



**Математика-  
царица наук,  
арифметика-  
царица  
математики.  
К. Гаусс**



ПРИВЕТСТВИЕ

КОНКУРС «РАЗМИНКА»

КОНКУРС «РЕБУСЫ»

КОНКУРС «РЕШИ ЗАДАЧКУ»

КОНКУРС «ОТГАДАЙ СЛОВО»

КОНКУРС «ОТГАДАЙ ЗНАК»

КОНКУРС КАПИТАНОВ КОМАНД

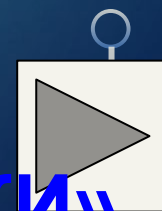
КОНКУРС «ГЕОМЕТРИЧЕСКИЙ ТУРНИР»

КОНКУРС «ЛОГОГРИФЫ»

КОНКУРС «ЧИСЛА В ПОСЛОВИЦАХ  
И ПОГОВОРКАХ»

КОНКУРС «МАТЕМАТИЧЕСКИЕ ЗАГАДКИ»

ПОДВЕДЕНИЕ ИТОГОВ



# 1 команда

**ДВЕ САРДЕЛЬКИ ВАРЯТСЯ 6 МИНУТ.  
СКОЛЬКО ВРЕМЕНИ ВАРЯТСЯ  
8 ТАКИХ САРДЕЛЕК?**

**ОТВЕТ**



## 2 команда

ШЛА ДЕВОЧКА В МОСКВУ И ПОВСТРЕЧАЛА ТРЁХ МАЛЬЧИКОВ. КАЖДЫЙ ИЗ НИХ НЁС ПО МЕШКУ, В КАЖДОМ МЕШКЕ ПО КОТУ. СКОЛЬКО СУЩЕСТВ НАПРАВЛЯЛОСЬ В МОСКВУ?

1

ОТВЕТ

ка.





# 1 команда



ОТВЕТ


ОТВЕТ

100\_ ЛИЦА

ПА 3 ОТ

ТОТВЕ

ТОТВЕ



## 2 команда

ПРЕ 100 Л

ОТВЕТ



ОТВЕТ

АК 3 СА

ОТВЕТ



ОТВЕТ

# 1 команда

10 СОЛДАТ СТРОИЛИСЬ В РЯД,  
10 СОЛДАТ ШЛИ НА ПАРАД.

9/10 БЫЛО УСАТЫХ,  
СКОЛЬКО ТАМ БЫЛО БЕЗУСЫХ  
СОЛДАТ?

ОТВЕТ






# 2 команда

10 СОЛДАТ СТРОИЛИСЬ В РЯД,  
10 СОЛДАТ ШЛИ НА ПАРАД.

8/10 БЫЛО УСАТЫХ,  
СКОЛЬКО ТАМ БЫЛО КУРНОСЫХ  
СОЛДАТ?

2 команда

ОТВЕТ



# 1 команда

**ПЕРВОЕ- ПРЕДЛОГ, ВТОРОЕ- ЛЕТНИЙ  
ДОМ,  
А ЦЕЛОЕ- РЕШАЕТСЯ С ТРУДОМ.**

**ОТВЕТ**



## 2 команда

**ЗАПИСЬ ЧИСЛА 100 СОСТОИТ ИЗ БУКВ И ТРЁХ ЦИФР. НАЙДИТЕ ЕЩЁ ЧИСЛО, В ЗАПИСИ КОТОРОГО КОЛИЧЕСТВО БУКВ РАВНО КОЛИЧЕСТВУ ЦИФР.**

ОТВЕТ



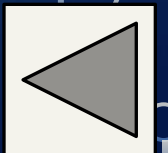
# 1 команда

$$5?4?3?2?1 = 3$$



# 2 команда

$$5?4?3?2?1 = 5$$



# Конкурс капитанов

НАЧЕРТИ ПО-РАЗНОМУ ПРЯМОУГОЛЬНИКИ  
ПЛОЩАДЬЮ  $4 \text{ см}^2$ .

ОТВЕТ



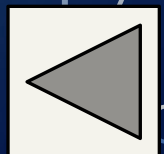
1 см

4 см



2 см

2 см



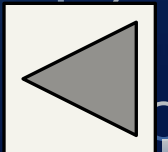


**МЯЧИ СЛОЖИЛИ ПИРАМИДОЙ.  
СКОЛЬКО ЗДЕСЬ МЯЧЕЙ?**



**ОТВЕТ**

**30**



# 1 команда

**ЧТОБ ПОДДЕРЖИВАТЬ СКВОРЕЧНЮ  
ИЛЬ АНТЕННУ, Я ГОЖУСЬ.  
С МЯГКИМ ЗНАКОМ Я, КОНЕЧНО,  
СРАЗУ ЦИФРОЙ ОКАЖУСЬ.**

ОТВЕТ



## 2 команда

МЕНЯ ПОД РЕЛЬСЫ И ПОД ГУСЕНИЦЫ  
КЛАЛИ, КОГДА ФАШИСТСКИЕ И ПОЕЗДА,  
И ТАНКИ ПОДРЫВАЛИ.

ДВЕ БУКВЫ ЛИШЬ В МЕНЯ ПОДСТАВИТ  
УЧЕНИК ЛЮБОГО КЛАССА,  
И МЕРОЙ ВРЕМЕНИ Я СТАНУ –  
ДОЛЕЙ ЧАСА.

ОТВЕТ



**1 команда**

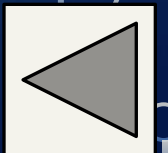
... В ПОЛЕ НЕ ВОИН

ОДИН В  Е ВОИН

**2 команда**

... ОДНОГО НЕ ЖДУТ

СЕМЕРО  НЕ ЖДУТ



# 1 команда

ДВЕНАДЦАТЬ БРАТЬЕВ  
ДРУГ ЗА ДРУГОМ ХОДЯТ,  
ДРУГ ДРУГА НЕ ОБХОДЯТ

ОТВЕТ






**Отгадайте-ка, ребятки,  
Что за цифра-акробатка?  
Если на голову встанет  
Ровно на три больше станет.**

**ОТВЕТ**

# 2 команда


НА ЛЕСЕНКЕ- СТРЕМЯНКЕ  
РАЗВЕШАНЫ БАРАНКИ.  
ЩЕЛК ДА ЩЕЛК – ПЯТЬ ДА ПЯТЬ –  
ТАК МЫ УЧИМСЯ СЧИТАТЬ.

ОТВЕТ



Проживают в трудной книжке  
Хитроумные братишки.  
Десять их, но братья эти  
Сосчитают все на свете.

ОТВЕТ



# Молодцы!

