
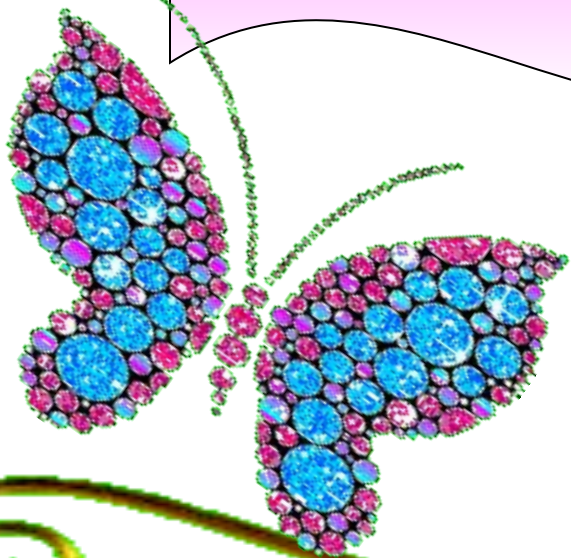


“Эрудит”

Эрудит

зияткерлік

сайысы






6



5






Сайыс барысы:

1. Таныстыру
2. "Білім" сайысы
3. Мақал-сөз мәйегі
4. "Кім қырағы?"
5. Математикалық жұмбақтар
6. "Қас-қағым сәт"
7. "Қорытынды"



БІЛІМ САИЫСЫ

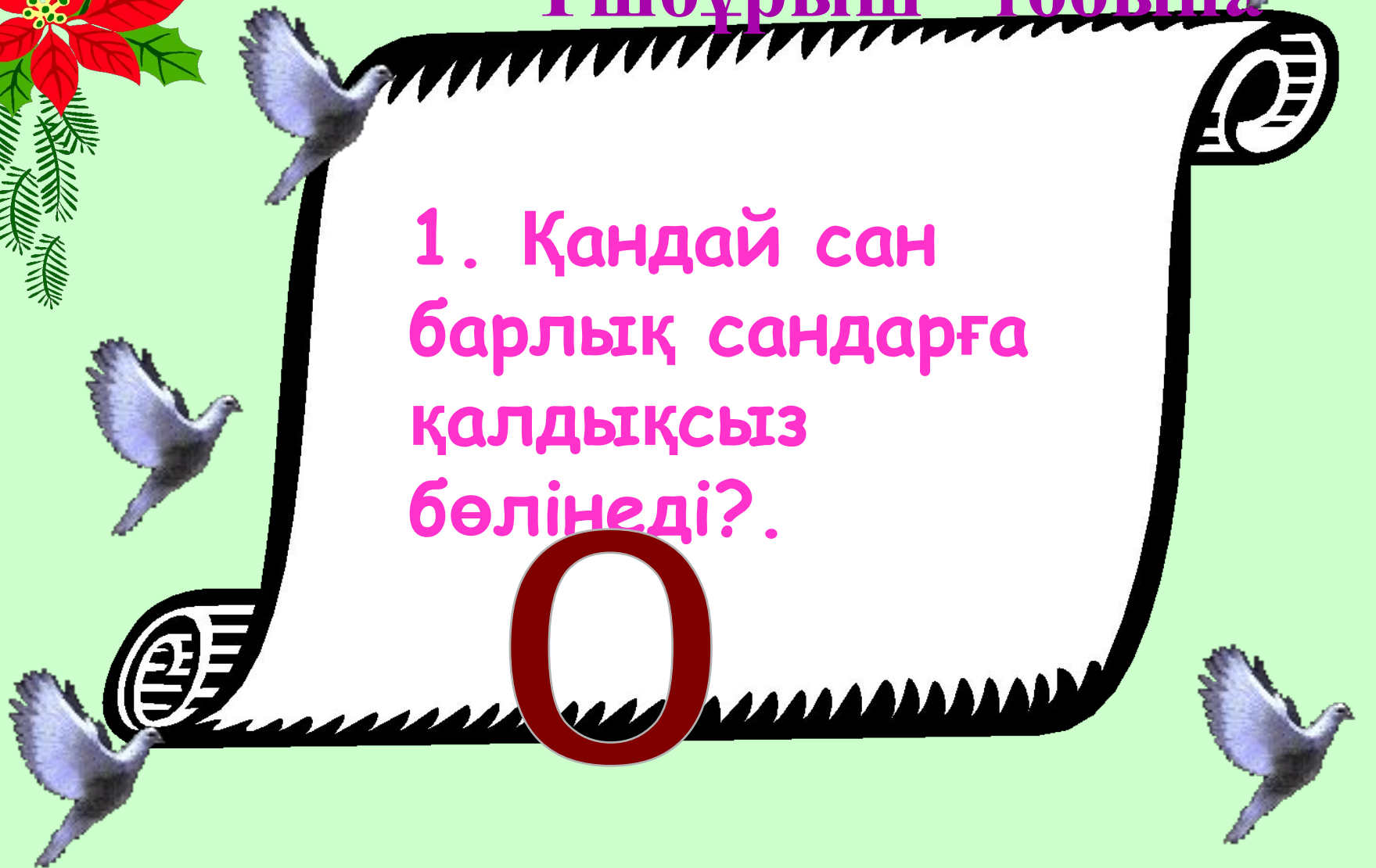




“Үшбұрыш” тобына

1. Қандай сан
барлық сандарға
қалдықсыз
бөлінеді?.

0





“Дөңгелек” тобына

2. Әкемнің 7 ұлы бар,
оның әрбір ұлының
қарындасы бар. Сонда
әкемнің неше баласы
бар?

8





“Үшбұрыш” тобына

3. Қандай санның
атының
жазылуында қанша
әріп болса,
соншалық цифр
бар?.

100





“Дөңгелек” тобына

1. Егер тырна бір аяғымен тұрса 3 кг болады, ал екі аяғымен тұрса оның салмағы қанша?

бірдей





“Үшбұрыш” тобына

2. Үстел беті
төртбұрышты. Оның
бір бұрышын арамен
кесті алсақ, неше
бұрыш қалады?

5 БҰРЫШ





“Дөңгелек” тобына



3. Төрт қойдың неше аяғы бар?

16



“Үшбұрыш” тобына

*Қандай сандар
нөлден үлкен?*

оң сандар



“Дөңгелек” тобына

2,5 таяқтың неше ұшы
бар?



6





“Үшбұрыш” тобына

5. 1 жұмыртқа 3
минутта піссе, 4
жұмыртқа неше
минутта піседі?

3 минутта





“Дөңгелек” тобына

4. Ағаш үстінде 100
торғай отырады.
Аңшы оның 10
торғайын атып
алды. Торғайдың
қаншасы қалды?





“Дөңгелек” тобына

1. Бөлменің 4
бұрышында бір- бір
мысықтан отыр. Әр
мысықтың алдында
үш мысықтан отыр.
Барлығы бөлмеде
неше мысық бар?





“Дөңгелек” тобына



2. Ұшақ А қаласынан
В қаласына 1 сағ 20
мин ұшады да,
қайтарда 80 минут
ұшады. Себебін
түсіндір?






Демалгыс сәтi



“КІМ ҚЫРАҒЫ?”





Ширек

Математика

шеңбер

Компьютер

түзу

сынақ

парта

радиус

периметр

теңдеу


бөлшек

кітап

қалам

дәптер

Математикалық жұмыстар





1. Бес ін, бес іннің ауызы
бір ін.

Қолғап





5. Шекер жейтін аққұтан
Бір қазыққа байланды.
Аузына тістеп шекерін
Ол қазықты айналды.

Циркул




1-ден 10-ға дейін сан

6. Атадан 10 боламыз,
Бір- бір жастан арамыз.
Қосылып кейде басымыз,
Азайып кейде қаламыз.
Бөлініп кейде арамыз,
Көбейіп те аламыз.





**7. Айқасқан екі таяқ,
тұрады жоқты сұрап.**





9. Нәрселерді санағанда
Керек ол бізге ауадай
Айтыңдаршы бұл қандай сан
Жан- жағыңа қарамай.

Натурал сан





. Наурыз тойы кезі. Ат жарыс өтуде. Үш пар ат 60 км шауып өтсе, әр ат неше км-ден шабады? (

60 км



“Қас-қағым сәт”





1. Құмырысқа құдыққа түсіп кетті. Құдықтың биіктігі 10 м. Ол күніне 3 м жоғары шығады да, шаршап 2 м төмен түседі. Ол неше күнде сыртқа шығады?

10 КҮН







2. Бір топ үйрек ұшып келеді.

Біреуі алдында, екеуі
соңында; біреуі соңында екеуі
алдында; біреуі екеуінің
ортасында; үшеуі бір-бірінің
соңында. Үйректер нешеу?



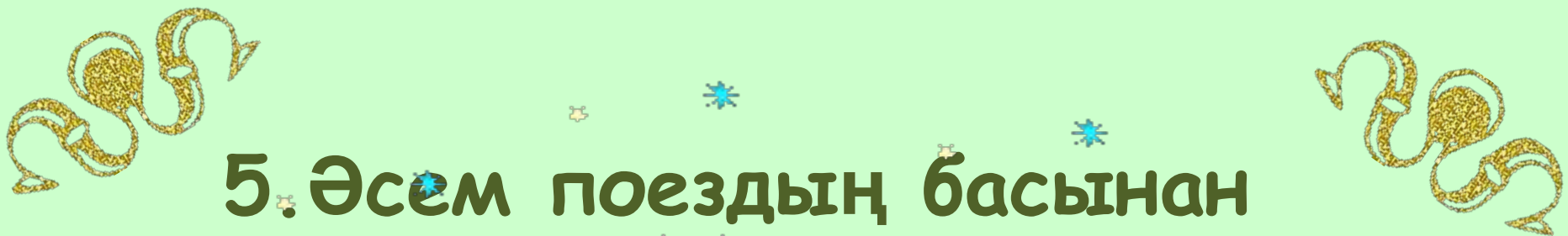


4. Сәуледе бір бүтін, екі жарты, 4 ширек алма болды. Барлығы неше алма?




3 алма

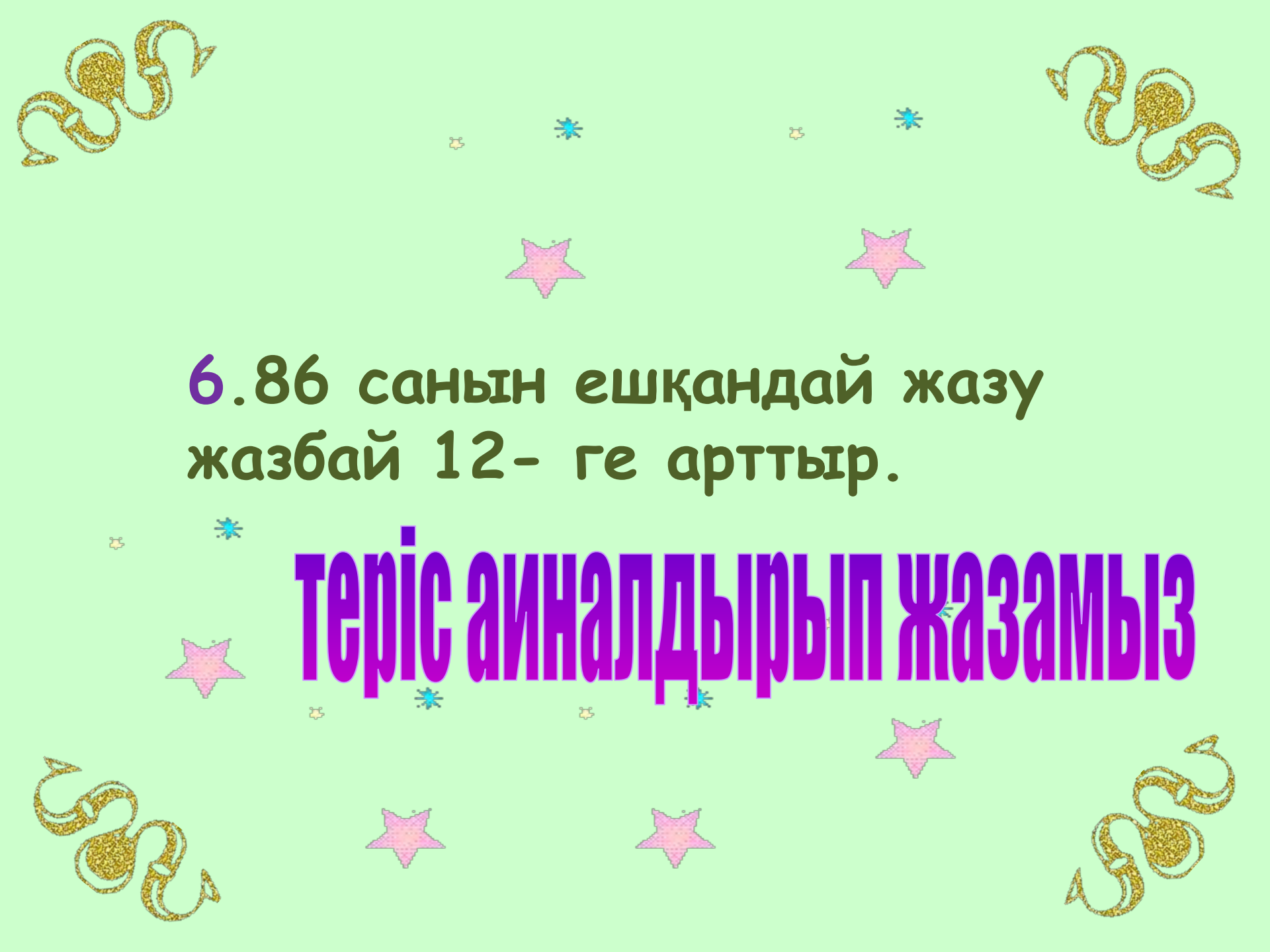




5. Әсем поездың басынан есептегенде 7- вагонда отырды. Марина поездың соңынан есептегенде 7- вагонға отырды. Сонда қыздар бір вагонда болды. Поезда неше вагон бар?



14 вагон




6.86 санын ешқандай жазу
жазбай 12- ге арттыр.

теріс айналдырып жазамыз

7. 1 т мақта ауырма, 10ц
темір ауырма?

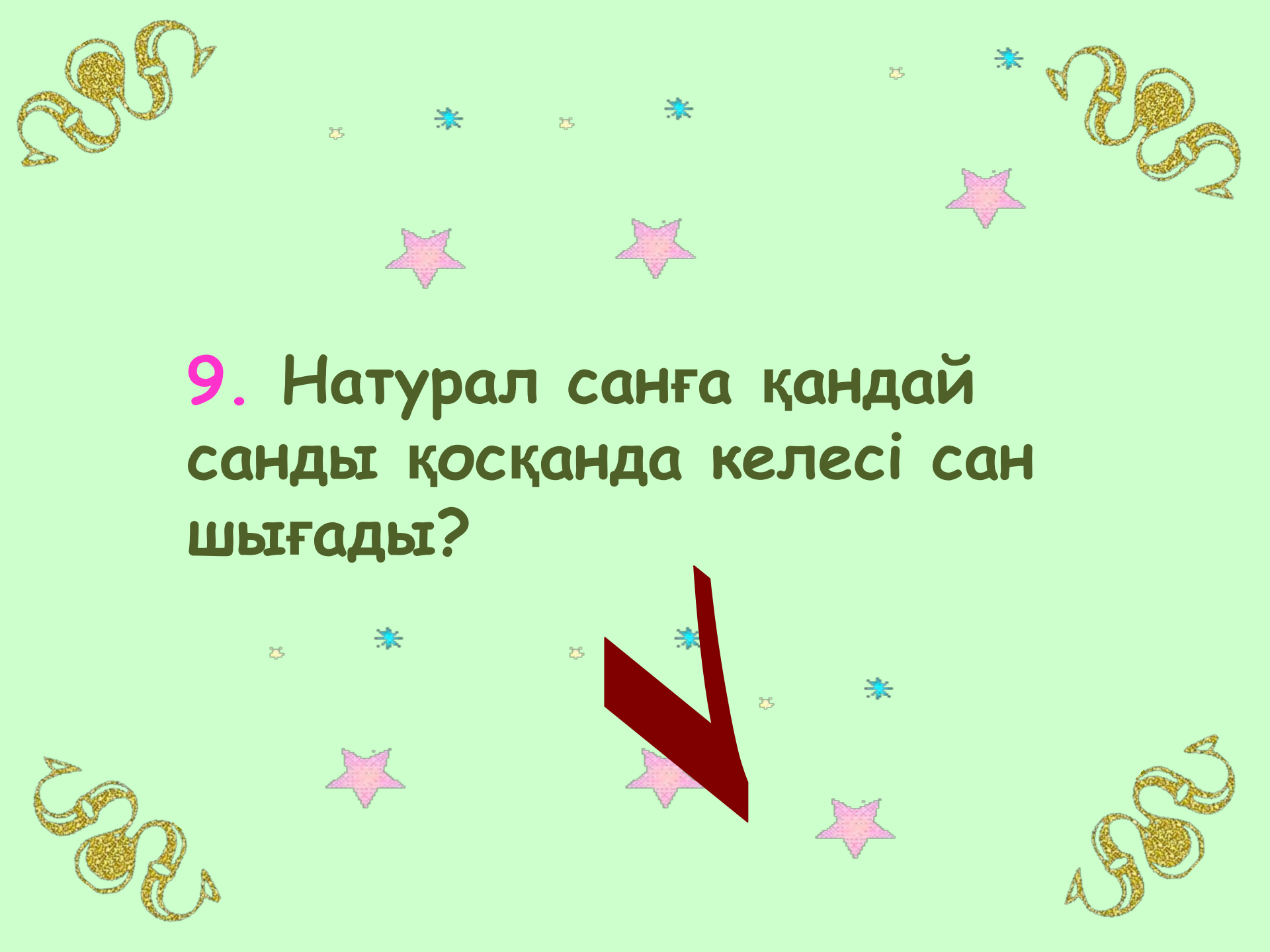
ТЕН




8. Сағаттың $\frac{1}{4}$ бөлігінде неше минут бар?

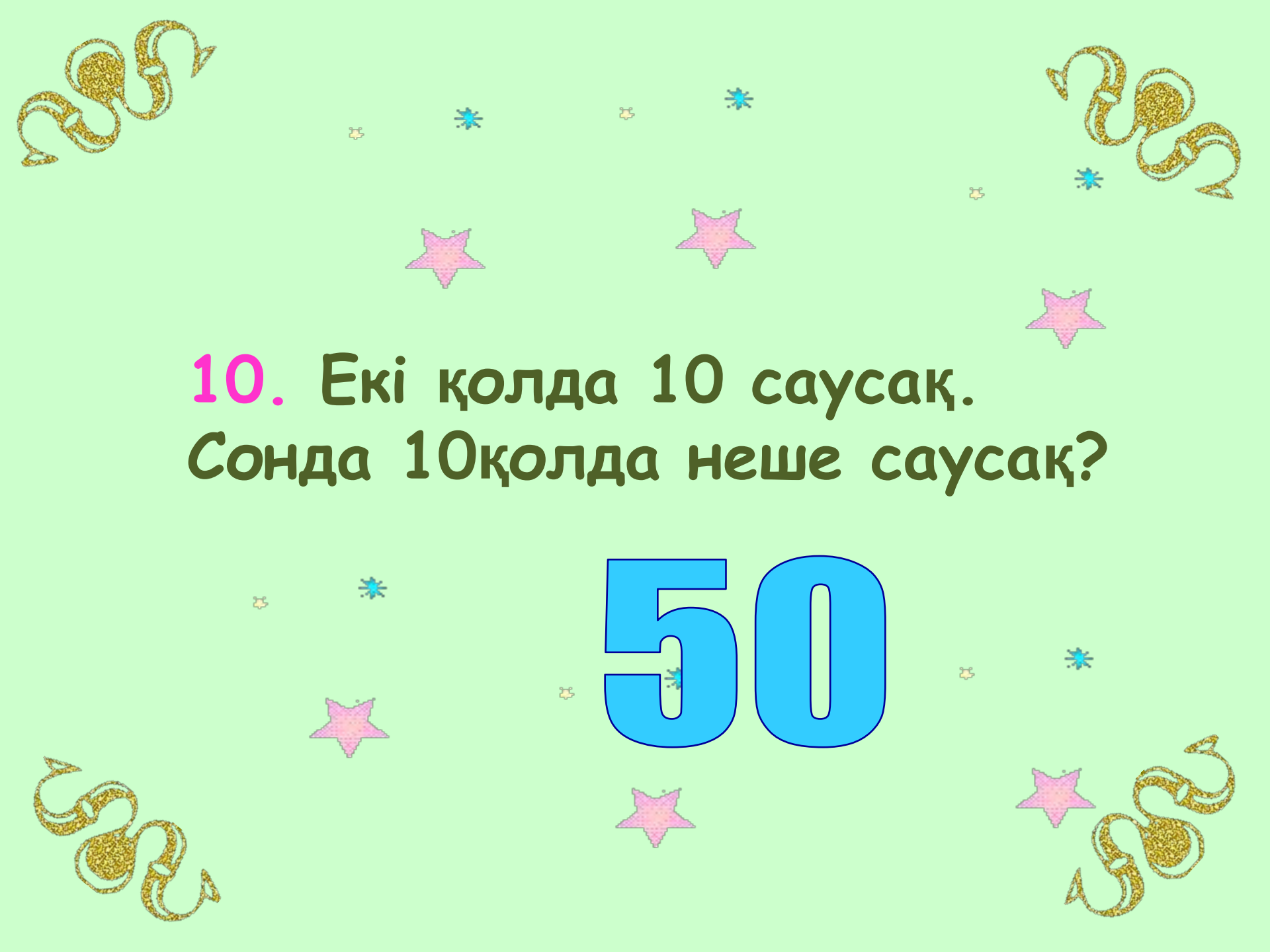


15



9. Натурал санға қандай
санды қосқанда келесі сан
шығады?





10. Екі қолда 10 саусақ.
Сонда 10қолда неше саусақ?

50

Жарамсындар!
Жарамсындар!



Назарланызга рахмет!!!

