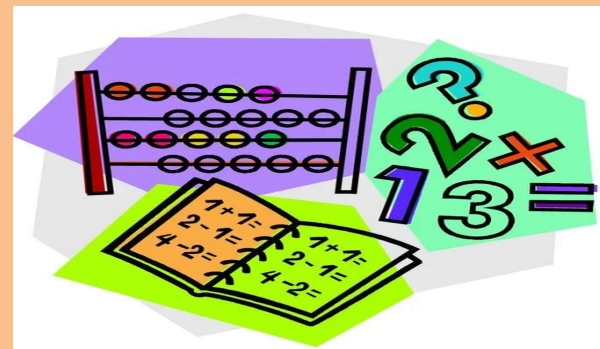
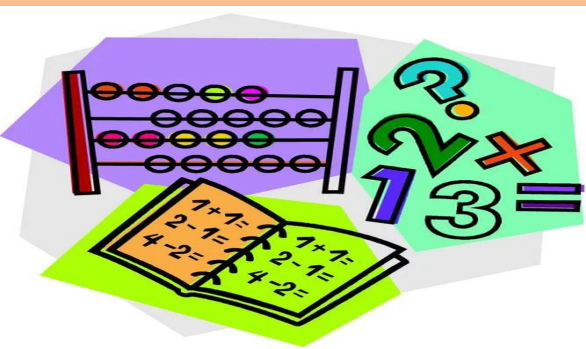
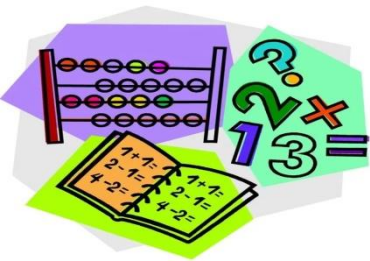


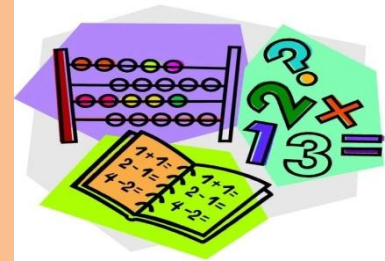
# *Сабақтың тақырыбы:*

## *7.7 Ондық бөлшектерді көбейту*

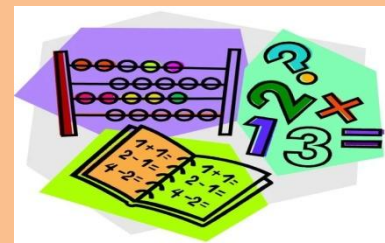
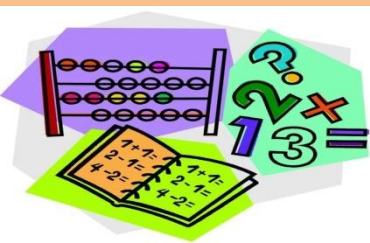


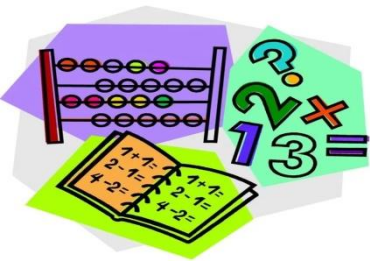


## *Сабақтың мақсаты:*

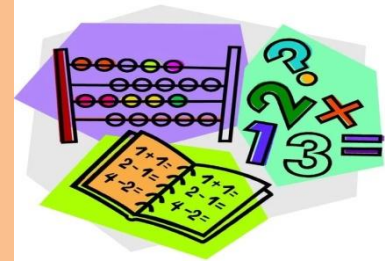


- **Білімділік:** ондық бөлшекті ондық бөлшекке көбейту жөніндегі білімдерін тиянақтау, бекіту;
- **Дамытушылық:** ондық бөлшектерді 0,1; 0,01; 0,001, т.с.с.разрядтық үлестер бірліктеріне көбейту білімдерін дамыту;
- **Тәрбиелік:** оқушыларды ұйымшылдыққа, сыйластыққа тәрбиелеу.

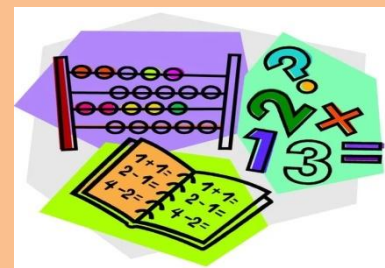
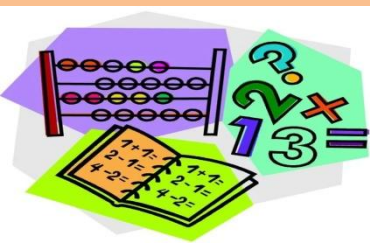




# Сабақтың барысы:



- I. Ұйымдастыру кезеңі
- II. Үй тапсырмасын тексеру
- III.Топтарға бөлу
- IV.Оқулықпен жұмыс
- V. Шапшаңдық сайысы
- VI. Сергіту сәті
- VII. “Лото” ойыны
- VIII.Топ басшылар сайысы
- IX.Қорытынды
- X.Үйге тапсырма
- XI.Бағалау



# *Үй тапсырмасын тексеру*

**№1373,  
№1377,  
№1384(1,2)**



# ТОПТАРҒА БӨЛУ



I топ. Ондық  
бөлшек

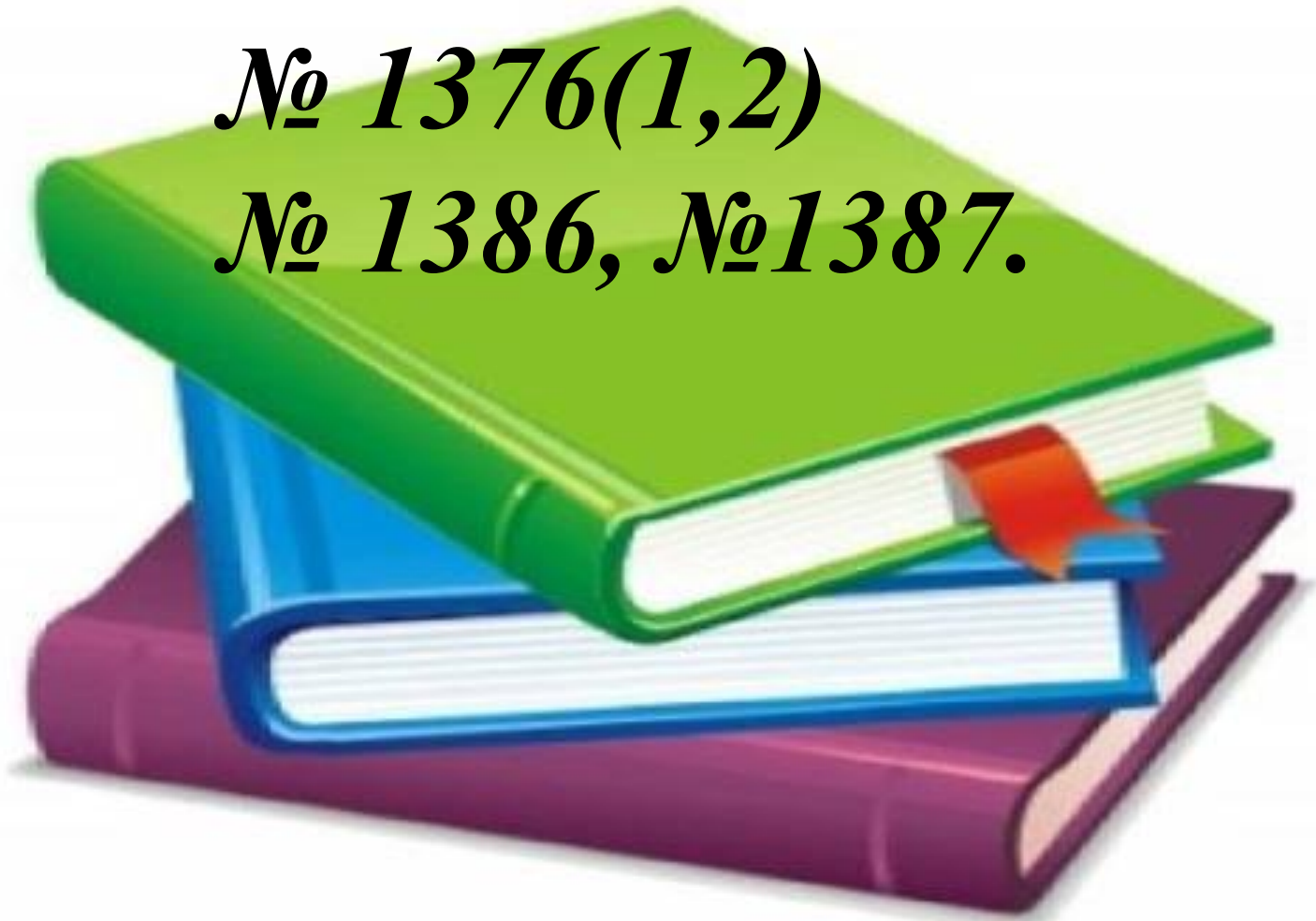
II топ. Жай  
бөлшек

III топ. Дұрыс  
бөлшек



# *Оқулықпен жұмыс*

*№ 1376(1,2)*


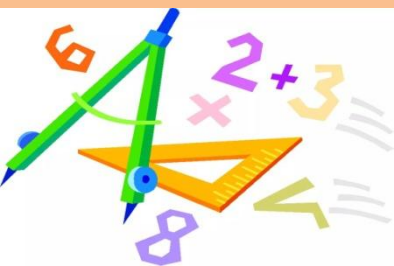
*№ 1386, №1387.*







# Шапшандық сайысы

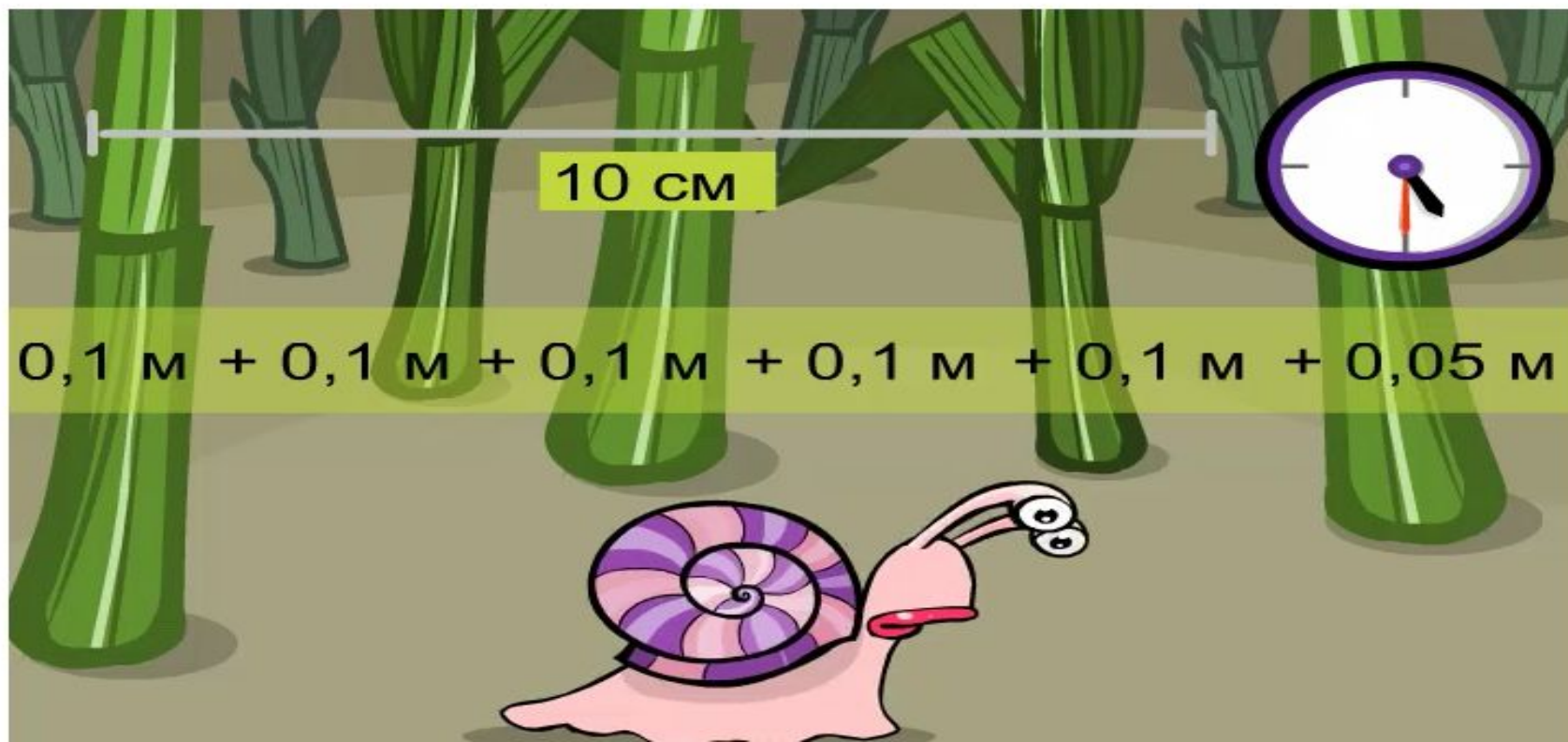


1 сағ = 0,1 м

5,5 сағ - ?

I ТОП

Ұлу қандай арақашықты жүріп өтті?





1 кекс = 0,055 кг

96 кекс - ? кг

II ТОП

Себеттегі кекс



# III топ

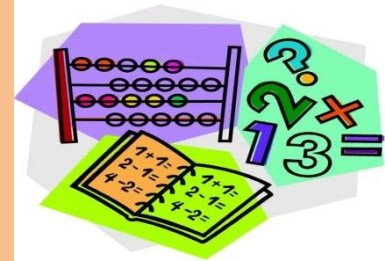
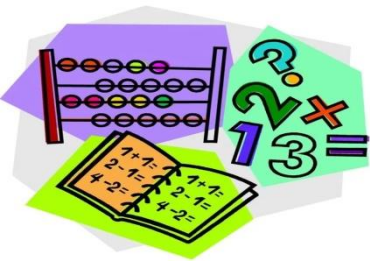
## 10-жаттығу

Түйеқұс бір сағат ішінде 3597,6 метр жүреді. Ол әпкесімен 0,1 сағатта кездеседі. Әпкесі екеуінің арқашықтығы қандай?

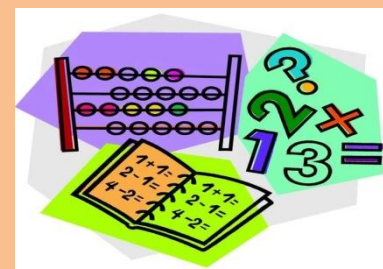
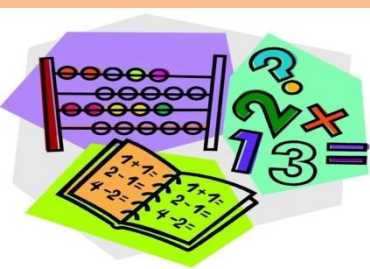




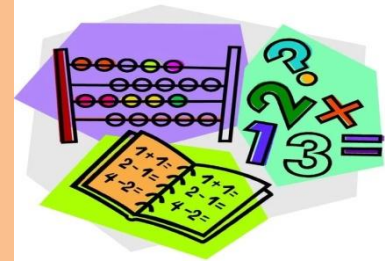
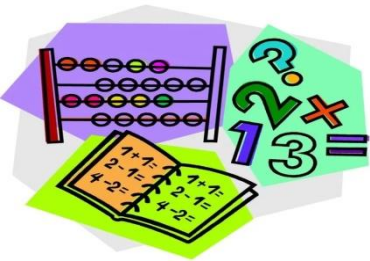
# Сергіу сәті



# «Математикалық ЛОТО» ойыны







# ТОП БАСШЫЛАР САЙЫСЫ



# Қорытынды





# **Тест жұмысы**

**1.В**

**2.В**

**3.С**

**4.А**

**5.А**

**6.А**



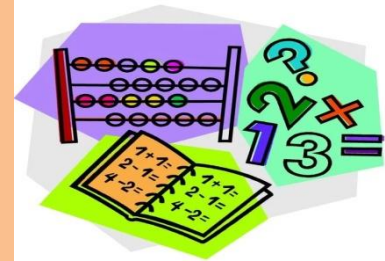
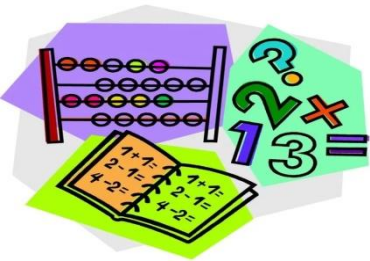
## Үйге тапсырма

№1376 (3,4),

№1384(3,4),

№1388(1,2)





# Оқушыларды бағалау

