


Тема урока:


Единицы времени




Нил



Сириус



Юлий Цезарь



Сколько составляют:

$1/2$ часа? минут

$1/3$ года? мес.

$1/4$ суток? часов

$1/6$ часа? минут

Сколько суток пройдёт?

- От 12 ч дня понедельника до 13 ч дня среды?
- От 9 ч воскресенья до 9 ч утра следующего воскресения?
- От 10 ч утра вторника до 10 ч утра четверга следующей недели?

- **Кедровая шишка с семенами созревает 27 месяцев. Сколько это лет и месяцев?**

- **Серёжа ежемесячно
исписывает 2 карандаша
и 3 ручки. Подсчитай,
сколько карандашей и
ручек испишет Серёжа за
учебный год?**

Сравни:

- 1 век $<$ 360 лет
- 1 год $>$ 360 сут.
- 1 мес. 7 сут. $>$ 27 сут.
- 1 сут. 20 ч $<$ 120 ч
- 4 мин 2 с $>$ 42 с
- 3 ч 5 мин $>$ 35 мин

**Для чего человеку нужно
знать время?**

8, 3, 24.

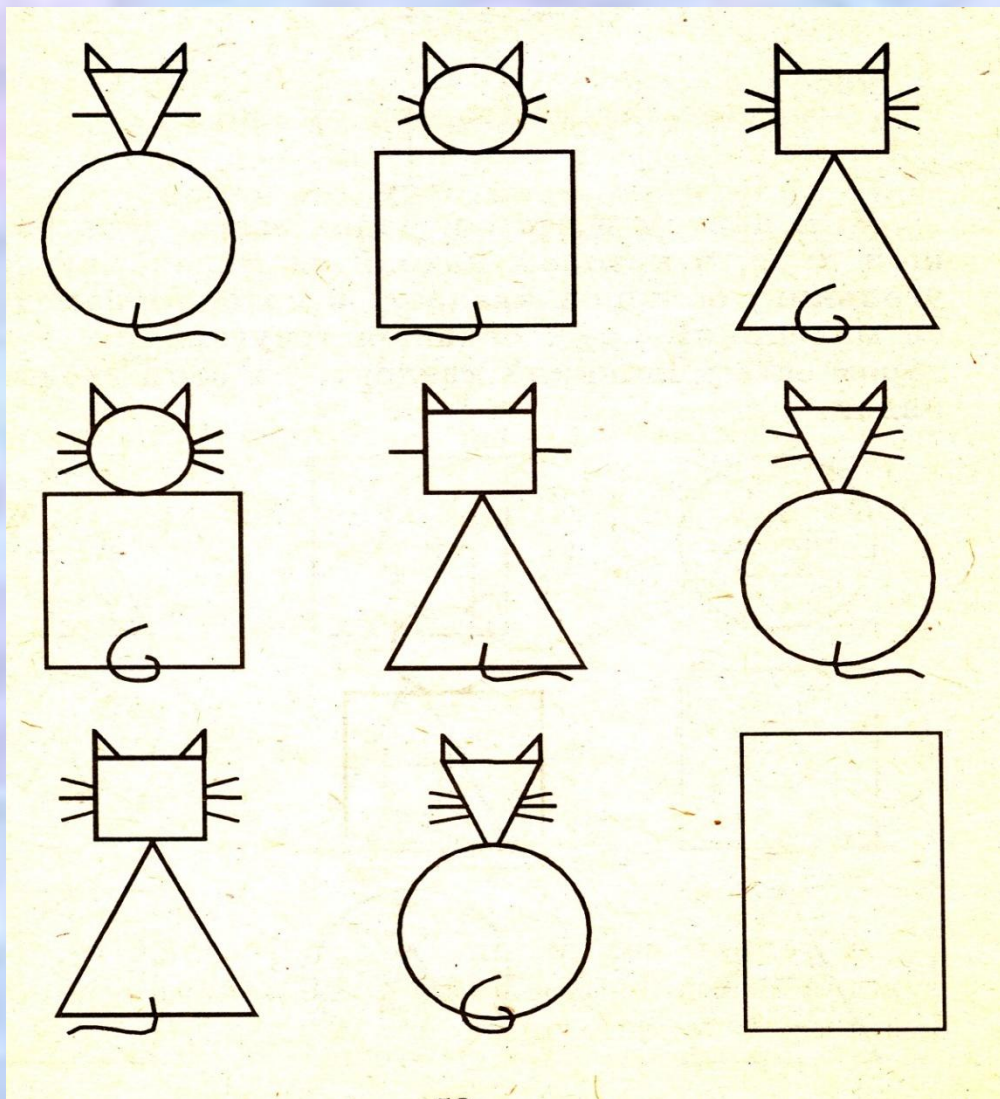
Расставьте 8 стульев в прямоугольной комнате так, чтобы у каждой стенки стояло по 3 стула.

Саша, Коля и Дима собирают марки. У одного из них 3 марки, у другого-24. У третьего-8. У кого сколько марок, если известно, что у Коли не 3 марки, у Саши не 24, а у Димы не 8 марок, а меньше.

Найди «лишний» ряд. Чем он отличается от других?

- **1,2,4,8,6**
- **2,6,18,54,162**
- **5,10,20,40,80**
- **7,14,28,56,112**

Какой рисунок следующий?



Допиши ответ:

- Часть-целое, слагаемое - _____
- 8-натуральное число, $\frac{1}{2}$ - _____
- Дерево- рубят, число- _____
- Стол-ножка, произведение- _____
- Магазин-секция, число- _____
- Детектив-следствие, задача- _____
- Слово-предложение, высказывание- _____