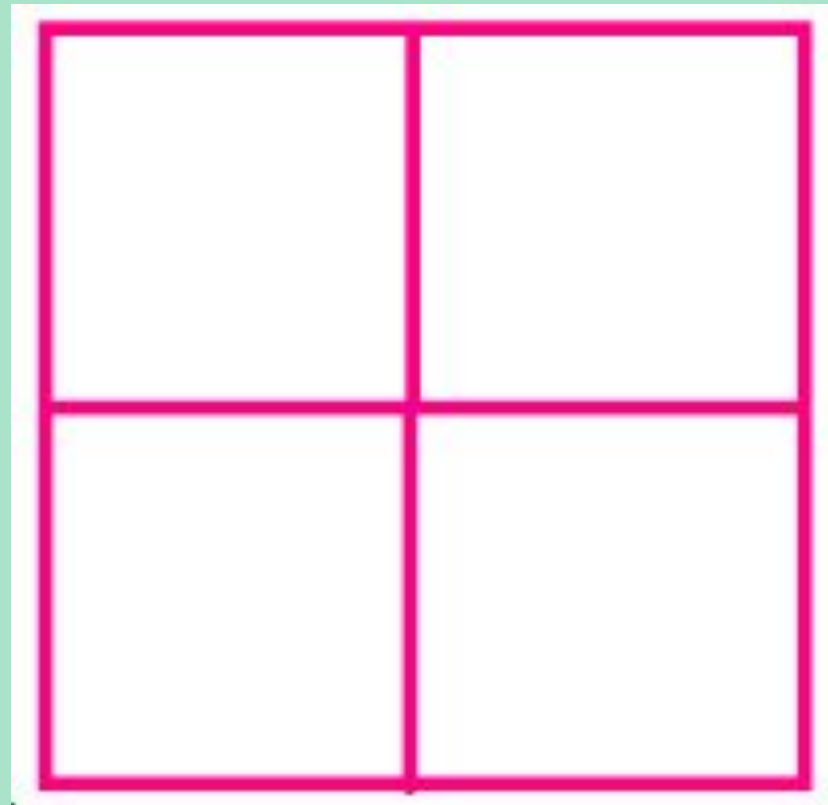
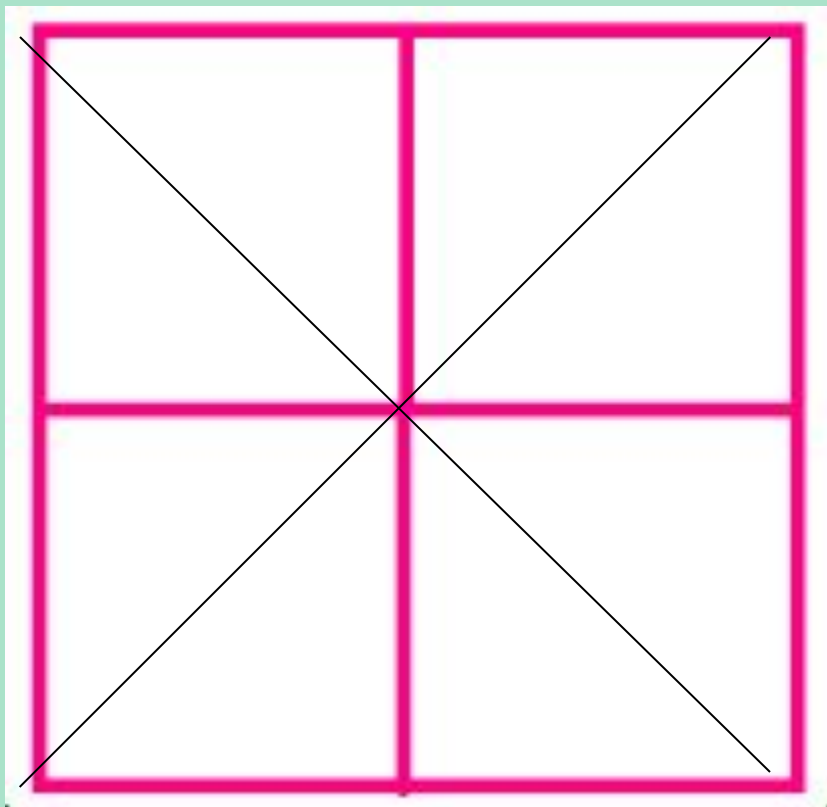


Логические задачи





Проведите два отрезка так,
чтобы получилось восемь
одинаковых
треугольников





Проведите одну линию
так, чтобы получилось
девять треугольников.





В чашку, стакан и пиалу налили чай, кофе, молоко. В пиале - не кофе, в стакане - не кофе и не молоко. Какой напиток налит в чашку, пиалу, стакан?



?



Не кофе
не молоко




Не кофе





	Чашка	Стакан	Пиала
КОФЕ	+	-	-
ЧАЙ		+	
МОЛОКО		-	+



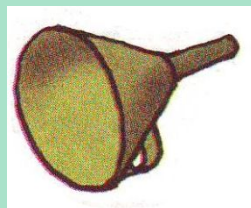
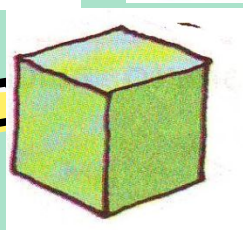



ЗАДАЧА № 9 (стр. 73).

Помоги ребятам! Какие из предметов на рисунке можно разместить в таблицу ?



		?
		?



Найди закономерность и продолжи ряд



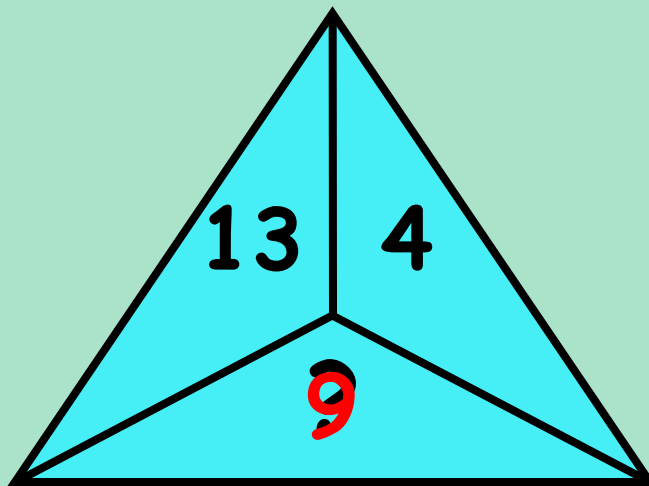
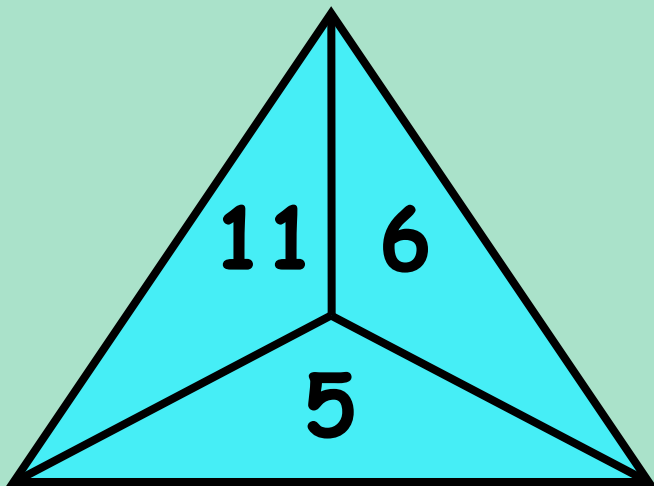
• 2, А, 4, Б, 6, В, 8, Г, 10, Д .

• 15, 8, 13, 6, 11, 4, 9, 2, 7 .

-7 $+5$ -7 $+5$



Какое число должно
стоять вместо «?»



Найди неизвестное число

~~селёдка~~

~~солистка~~

~~72 350~~

лёд

лист

3



Свечи.



В комнате горело 50 свечей, 20 из них задули. Сколько останется?



Ответ: останется 20 свечей, остальные сгорят, а задутые свечи не сгорят полностью.

Сидят три барана, против
каждого барана - два барана,
много ль всех?



Ответ: 3 барана.

