



Математический конкурс

3-4 класс



ГЕНИАЛЬНЫЙ РУССКИЙ УЧЕНЫЙ СВЕТИЛА МИРОВОЙ НАУКИ

Михайло Васильевич Ломоносов

*Математику уж
затем учить
надо,
что она ум в
порядок
приводит*



(1711-1765гг.)

Задание 1: Расставь знаки действий

$$2222 = 8$$

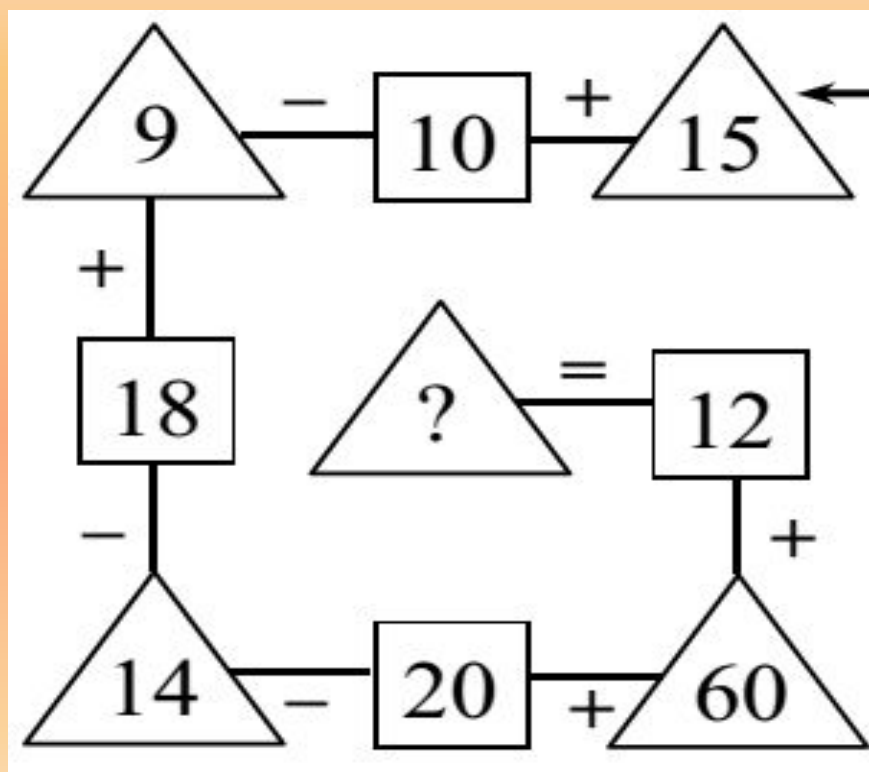
$$2222 = 44$$

$$2222 = 111$$

$$2222 = 0$$

Задание 2.

Какое число надо записать в треугольнике вместо знака вопроса?



Задание 3.

Соедините примеры с ответами
линиями

$90 : 30$

$600 : 20$

$12 \cdot 6$

$210 : 7$

$180 \cdot 4$

$120 : 4$

$72 \cdot 10$

72

3

720

30

$720 : 10$


$90 \cdot 8$

$24 \cdot 3$

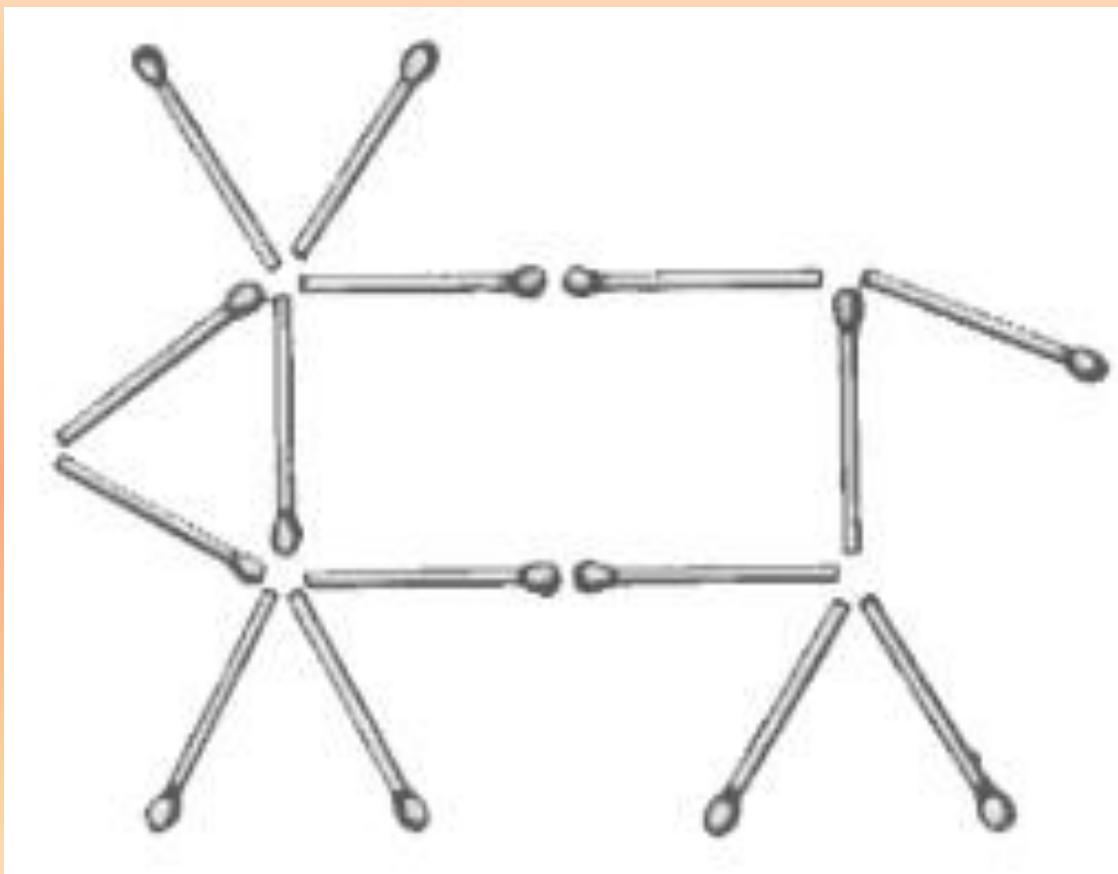
$270 : 90$

Задание 4:

отдели территорию каждому поросёнку
тремя прямыми



Задание 5: Корова на лугу



Задание 6:
Разгадай ребус 1



Разгадай ребус 2



**Спасибо
за игру!**

Использованы ресурсы:

<https://www.google.ru/search?q=Математика+картинки&newwindow>

<http://nazva.net/rubric/10/>

http://potehechas.ru/golovolomki/golovolomki_5.shtm

<http://nsportal.ru/nachalnaya-shkola>