


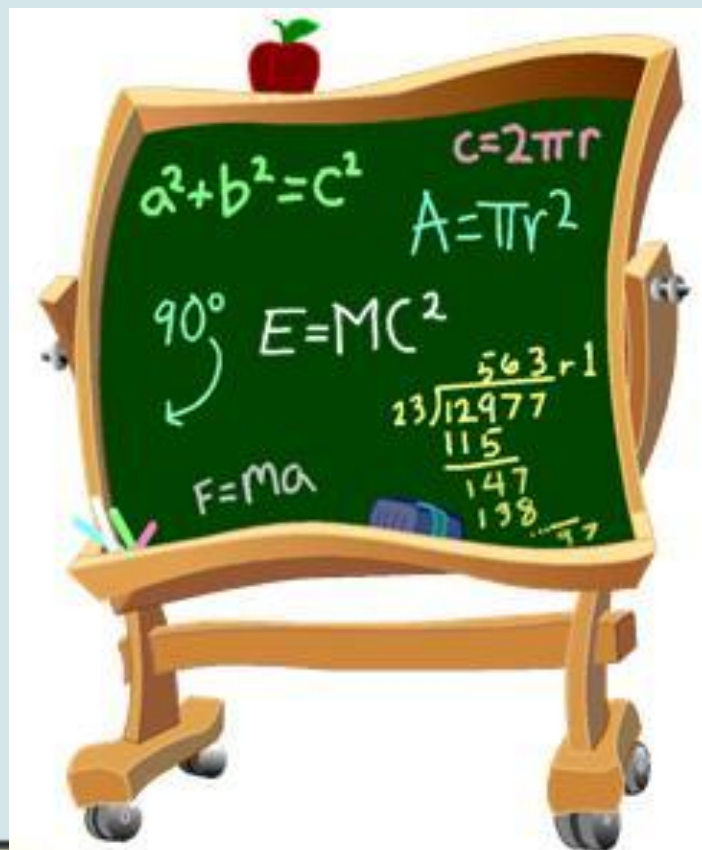



УСТНЫЙ СЧЁТ





Сосчитай

от 358 до 362

от 711 до 705

Назови последующее числа


579

580

699

700





Назови предыдущее числа

420 419

900 899






Прочитай числа:

237 750 906



Сколько сотен, десятков, единиц?






Назови число, в котором

4 сотни, 5 единиц **405**

7 сотен, 6 десятков **760**

3 сотни, 4 десятка, 2 единицы


342






Сравни числа:

36




201

111




9

430



408

216



629





Запиши цифрами числа:



двести девяносто четыре 294



четыреста двадцать три 423

пятьсот шестьдесят 560

триста восемь 308

сто семьдесят девять 179



Самостоятельная работа

Сотни	Десятки	Единицы	Число
3	0	7	
4	6	9	
5	2	0	
9	0	9	

ПРОВЕРЬ СЕБЯ

Сотни	Десятки	Единицы	Число
3	0	7	307
4	6	9	469
5	2	0	520
9	0	9	909




Подчеркните и назовите равенство, в котором
трехзначное число представлено в виде суммы
разрядных слагаемых



$$469 = 400 + 60 + 9$$

$$469 = 400 + 69$$

$$469 = 460 + 9$$








Тема урока:




Представление

**трехзначных чисел в виде
суммы разрядных слагаемых**







Цель урока:





-
-
-



Научиться представлять
трехзначные числа в
виде суммы разрядных
слагаемых







Составь трехзначные числа,
используя цифры
3, 0, 7.





307 703 730 370

Придумайте задания



Проверь себя

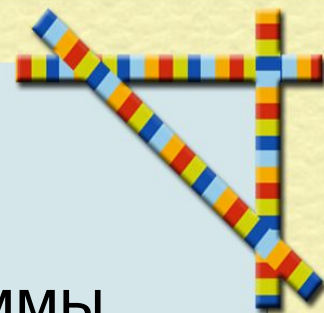


Представить трехзначные числа в виде суммы разрядных слагаемых



$$307 = 300 + 7$$

$$703 = 700 + 3$$

$$730 = 700 + 30$$



$$370 = 300 + 70$$





$$307 = 300 + 0 + 7$$

$$730 = 700 + 30 + 0$$







Составь задачу

?



23

36







Проверь себя

Задача

$$23 + 36 = 59 \text{ (к.)}$$

Ответ: 59 книг всего на двух полках.




Составь задачу

56

ВЗЯЛИ

29

?







Проверь себя

Задача

$$56 - 29 = 27 \text{ (к.)}$$

• Ответ: 27 карандашей
осталось.





Итог урока


Я знаю

Я умею





Домашнее задание



п . т. стр. 7 № 1- 3

