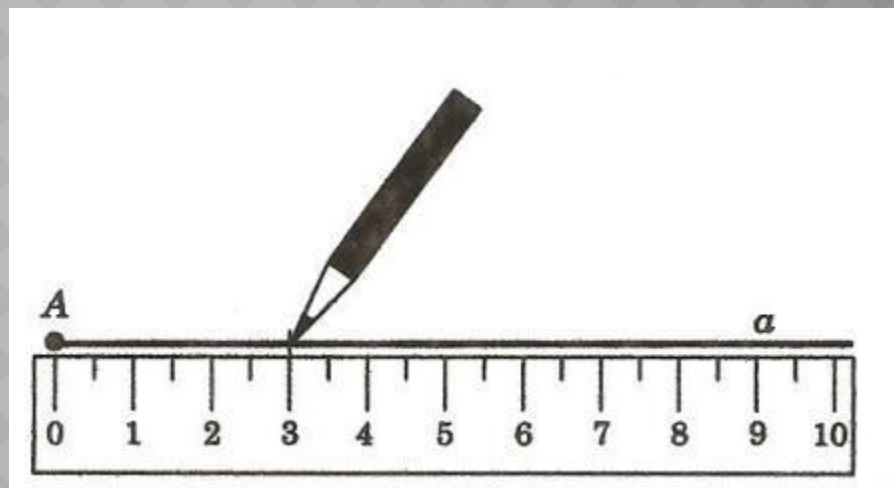


ОТРЕЗОК. ДЛИНА ОТРЕЗКА.

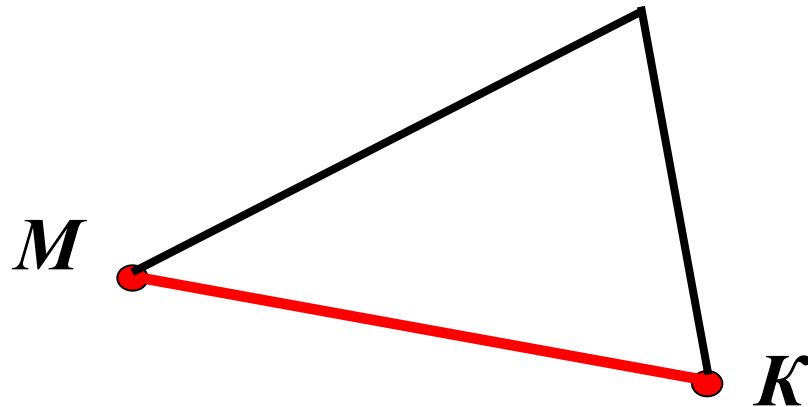


*Подготовила:
Гурова А.В.*

ПОВТОРЕНИЕ.

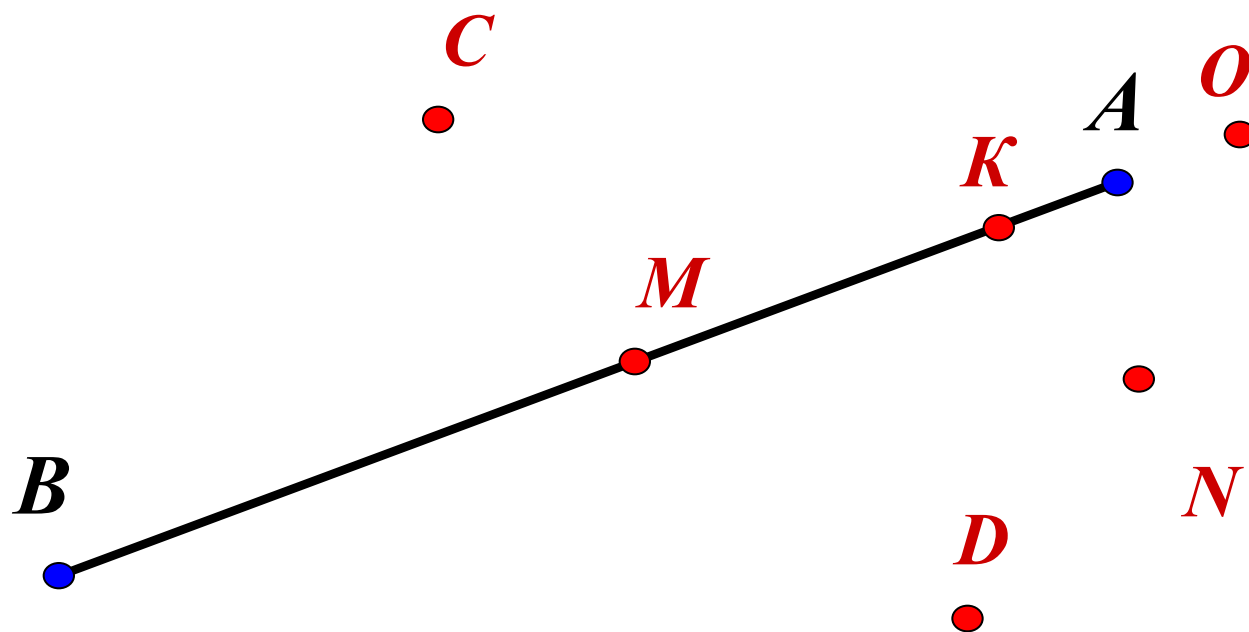
1. Нарисуйте в тетради две точки.
2. Обозначьте их буквами M и K .
3. Соедините точки M и K разными способами.

- Часть прямой, ограниченная двумя точками.
- Точки M и K - концы отрезка.
- Запись MK или KM .




MK - отрезок

ОПРЕДЕЛИТЕ, КАКИЕ ИЗ ТОЧЕК ЛЕЖАТ
НА ОТРЕЗКЕ АВ, А КАКИЕ НЕ ЛЕЖАТ.



ИНСТРУМЕНТЫ, НЕОБХОДИМЫЕ НА УРОКЕ.



Единицы измерения длины.



- **1** м
- **1** см
- **1** мм
- **1** км
- **1** дм



$$1 \text{ км} = 1000 \text{ м}$$

$$1 \text{ м} = 10 \text{ дм} = 100 \text{ см}$$

$$1 \text{ дм} = 10 \text{ см}$$

$$1 \text{ см} = 10 \text{ мм}$$

*Начертите отрезок $CD = 6 \text{ см } 8 \text{ мм}$.
Отметьте на нем точку A так, чтобы
 $AC = 4 \text{ см } 3 \text{ мм}$. Чему равна длина отрезка AD ?*

ВЫРАЗИ ДЛИНЫ ОТРЕЗКОВ

в метрах.

в сантиметрах.

I вариант.

II вариант

5 км =

5 м 3 см =

3500 см =

3010 м =

2 км 250 м =

4 км 100 м =

18920 дм =

17 дм 5 см =

27 км 5 м =

9 м 8 дм =

19 км 600 см =

7 км 7 см =

Найдите правильные ответы:



1. 496 CM

2. 744 CM

3. 487 CM

4. 675 CM

5. 644 CM