

**Муниципальное бюджетное  
общеобразовательное учреждение г. Апатиты  
«Средняя общеобразовательная школа № 7»**

**Урок математики в 5 Г классе**

**Выполнила:  
Учитель математики  
Пигунова И.С.**

г. Апатиты 2019г.



# *Цель урока:*

**Закрепление знаний устных и письменных приёмов сложения и вычитания в пределах 1000.**

A light blue textured background with scattered white cherry blossoms and a white ribbon. The text is centered in a bold red font.

**282, 82, 828, 228, 882, 822, 288**

Продолжи ряды чисел:

45, 50, 55.....75

590, 600, 610.....640



- Гусь весит 16 кг

Утка весит 10 кг



- ?

Тетерев -

# Поставъте знаки

$363 < 636$

$450 < 480$

$670 = 670$

$820 > 802$

$941 > 491$

$1000 > 999$



# Реши примеры:

- $345 + 7 = 352$

- $471 + 19 = 490$

- $345 + 225 = 570$

- 

$$344 - 5 = 339$$

- 

$$756 - 26 = 730$$

- 

$$273 - 154 = 119$$



# Физминутка

Под весенние напевы

Повернёмся вправо, влево.

Руки вверх, руки вниз!

Вправо, влево головою!

Руки вверх! Перед собою!


Топни правою ногой!

Вправо шаг. На месте стой!

Топни левою ногой!

Повернись направо (лево) к другу.

Правую дай руку другу.



1 день – 390 т рыбы  
2 день - ?, на 60 т больше

?



фото: Марк Тимофеев

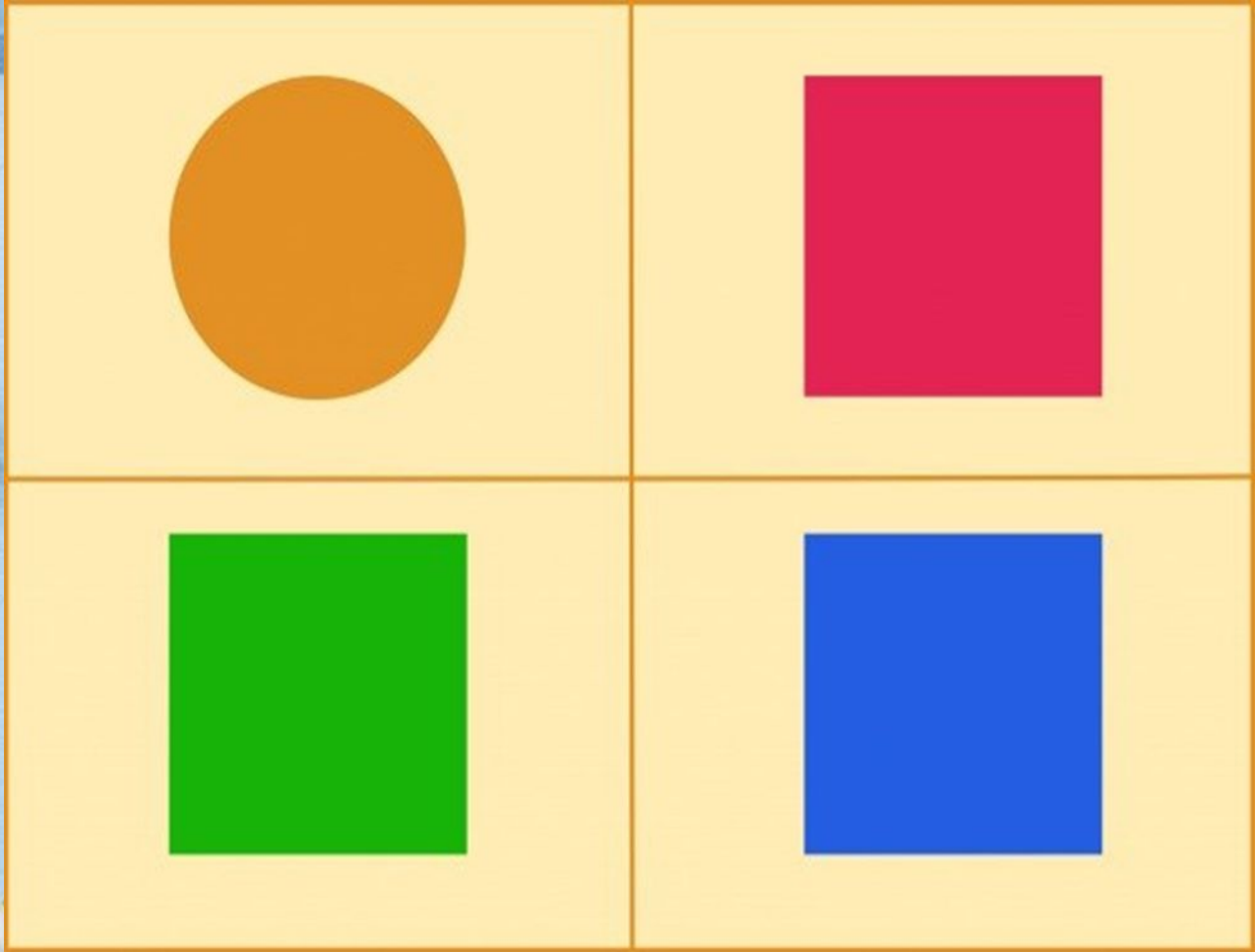
## *Решение:*



- $390 + 60 = 450$  (т) во 2 день
- $390 + 450 = 840$  (т) за 2 дня

*Ответ:* За 2 дня поймали 840 т  
рыбы.


Найди лишнюю фигуру



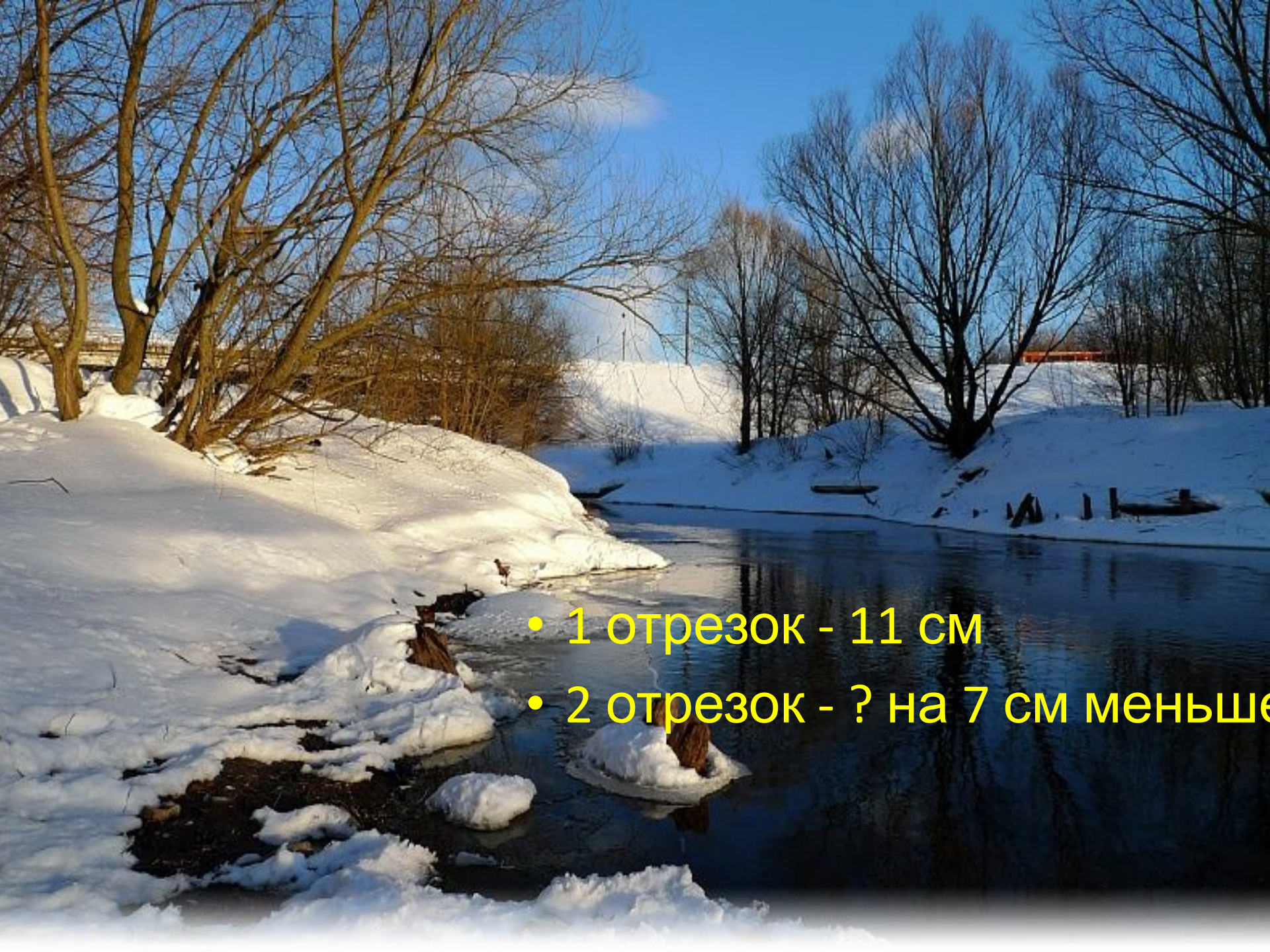












- 1 отрезок - 11 см
- 2 отрезок - ? на 7 см меньше

Спасибо за работу на  
уроке!

