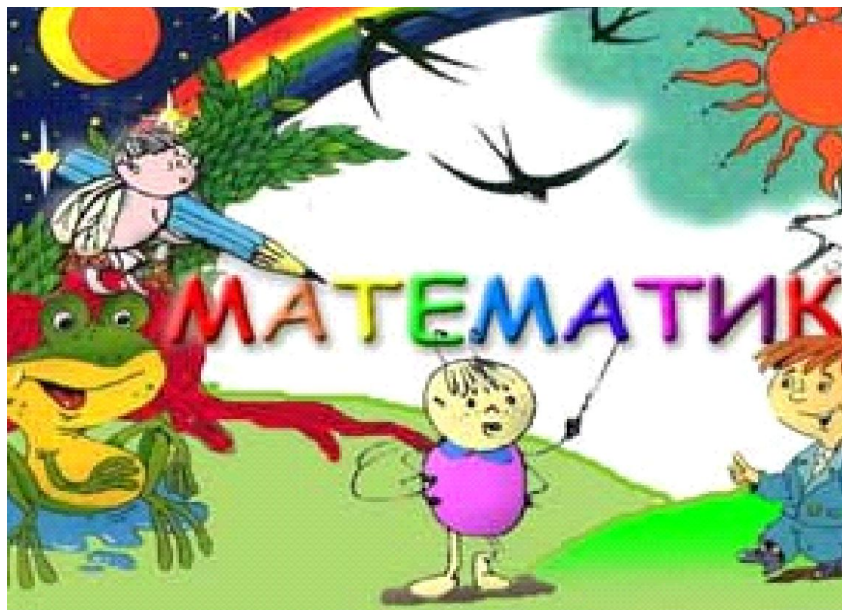


Подготовительная
группа. МАДОУ 1
«Благодатный» г.Ростов-
на-Дону.



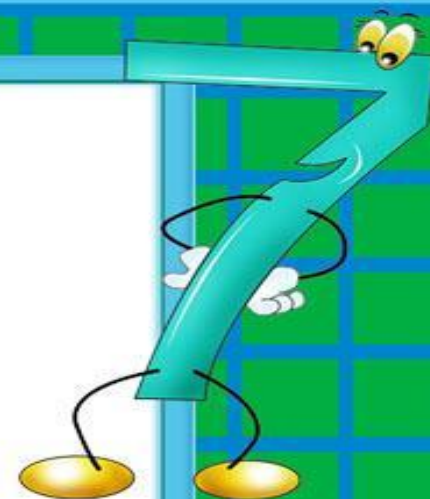

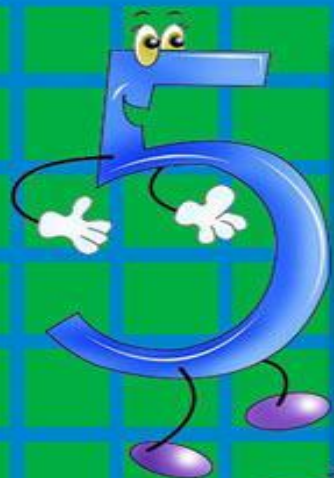
Воспитатель высшей
категории Кротова Г.С

В гости к королеве Математики

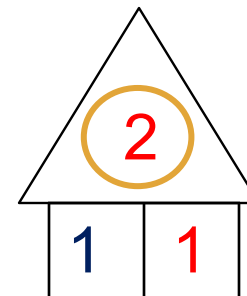
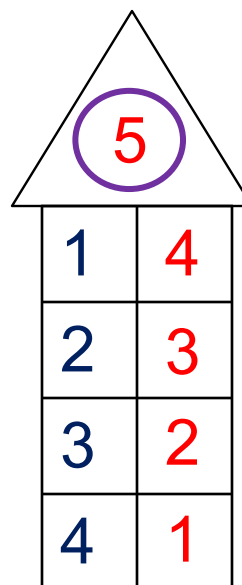
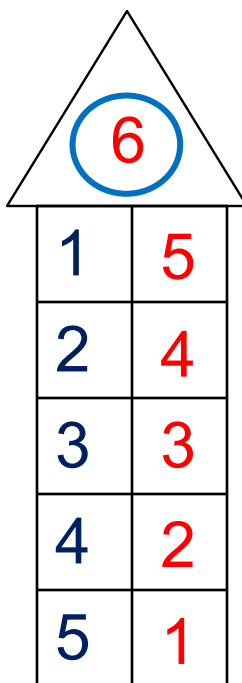
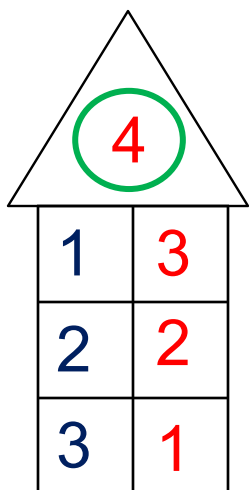
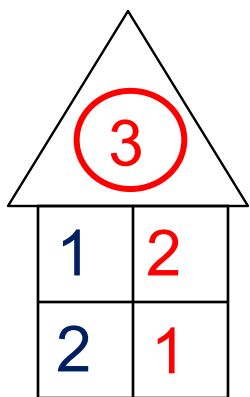




Станция «Разминка»

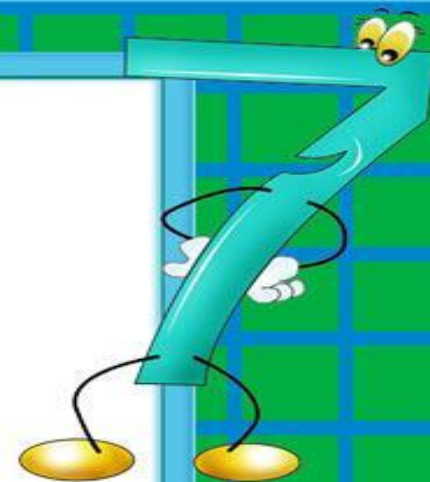

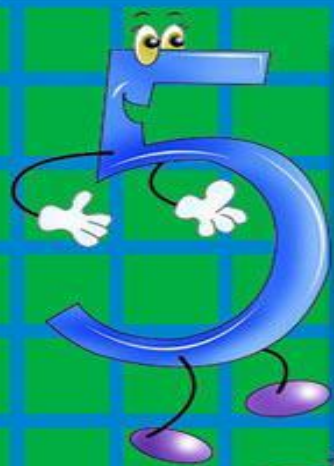


1. Рассмотрите рисунок. Какие числа забыли записать в «окошках».

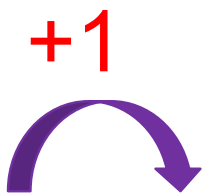


ПРОВЕРЬ!

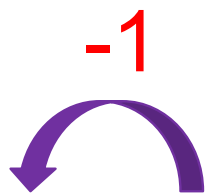
Станция «Быстрого счета»




2. Постарайся вычислить быстро:




1	
2	
3	
4	
5	



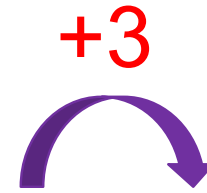
-	6
	5
	4
	3
	2



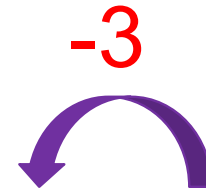
1	
2	
3	
4	



-	6
	5
	4
	3




1	
2	
3	

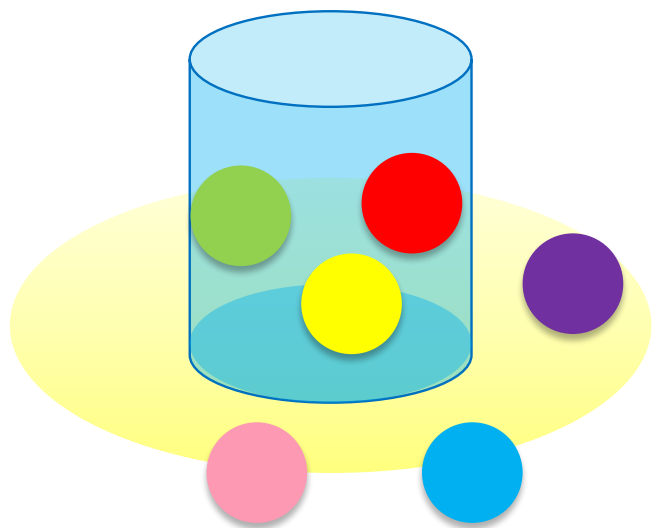


	6
	5
	4

Станция «Веселые задачки»



4. Какие равенства можно записать к каждому рисунку?



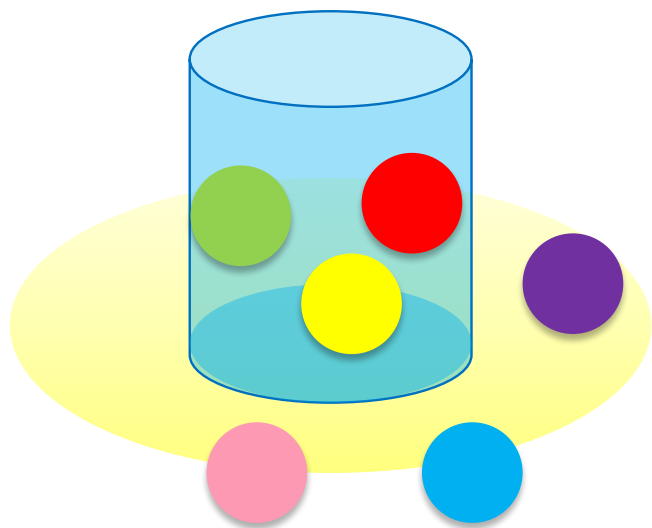
$$3 + 3 = 6$$

$$6 - 3 = 3$$

$$6 - 2 - 1 = 3$$

$$2 + 1 + 3 = 6$$

4. Какие равенства можно записать к каждому рисунку?



$$3 + 3 = 6$$


$$3 + 3 = 6$$

$$6 - 3 = 3$$

$$6 - 2 - 1 = 3$$

$$2 + 1 + 3 = 6$$

4. Какие равенства можно записать к каждому рисунку?




$$4 + 2 = 6$$

$$6 - 4 = 2$$

$$6 - 2 = 4$$

$$2 + 4 = 6$$

4. Какие равенства можно записать к каждому рисунку?



$$4 + 2 = 6$$


$$4 + 2 = 6$$

$$6 - 4 = 2$$

$$6 - 2 = 4$$

$$2 + 4 = 6$$

4. Какие равенства можно записать к каждому рисунку?



$$4 + 2 = 6$$

$$2 + 4 = 6$$


$$4 + 2 = 6$$

$$6 - 4 = 2$$

$$6 - 2 = 4$$

$$2 + 4 = 6$$

4. Какие равенства можно записать к каждому рисунку?



$$4 + 2 = 6$$

$$2 + 4 = 6$$

$$6 - 4 = 2$$


$$4 + 2 = 6$$

$$6 - 2 = 4$$

$$2 + 4 = 6$$

$$6 - 4 = 2$$

Станция «Дворец для цифр»



5. Какие геометрические фигуры есть на рисунке ?

• Какие числа спрятались в «окошках»?

$1 + 1$
 $1 + 2$
 $6 - 5$
 $2 + 1 + 1$
 $1 + 1 + 1$
 $3 + 3$
 $2 + 1$
 1
 $4 - 2 - 1$
 $6 - 3 - 2$
 $4 - 1$
 $6 - 3$
 $2 + 1 + 2 + 1$
 $3 + 1 + 2$
 $5 + 1$
 $5 - 2 - 1 - 1$
 $4 - 1 - 1$
 $5 - 2 - 2$
 $6 - 1 - 2 - 1$
 $1 + 1 + 2 + 1$

5. Какие геометрические фигуры есть на рисунке ?

• Какие числа спрятались в «окошках»?



1

2

3

4

5

6

ПРОВЕРЬ!





Спасибо!