

Математик

5 класс

Выполнила: Майорова Г.Н.


МБОУ «СОШ № 4»

На смекалку	Математически е фигури	инструменти	Единици измерения
<u>10</u>	<u>10</u>	<u>10</u>	<u>10</u>
<u>20</u>	<u>20</u>	<u>20</u>	<u>20</u>
<u>30</u>	<u>30</u>	<u>30</u>	<u>30</u>
<u>40</u>	<u>40</u>	<u>40</u>	<u>40</u>
<u>50</u>	<u>50</u>	<u>50</u>	<u>50</u>

Вопрос

- За книгу заплатили 60 руб. и ещё $\frac{1}{3}$ стоимости книги. Сколько стоит книга ?

90



Вопрос



- Доску длиной 3 м распилили на 3 части по 1 м. Чтобы отпилить 1 м доски, нужно пять минут. За сколько времени можно распилить всю доску ?

10 минут



Вопрос



У Пети в куртке 3 кармана.
Сколькоими способами он может
положить в эти карманы 2 монеты ?

6



Вопрос

- Сколько времени, если оставшаяся часть суток в два раза больше прошедшей ?

8 часов



Вопрос

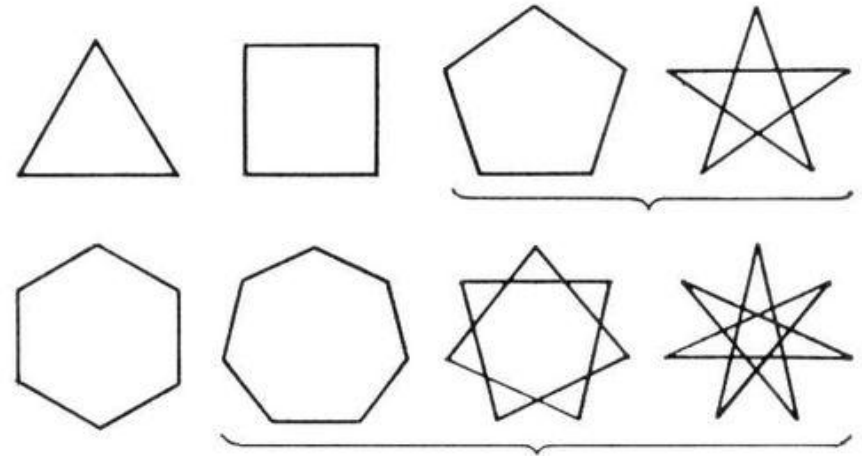


Масса кирпича 1 кг и ещё пол
кирпича. Сколько весит весь
кирпич ?

2 кг



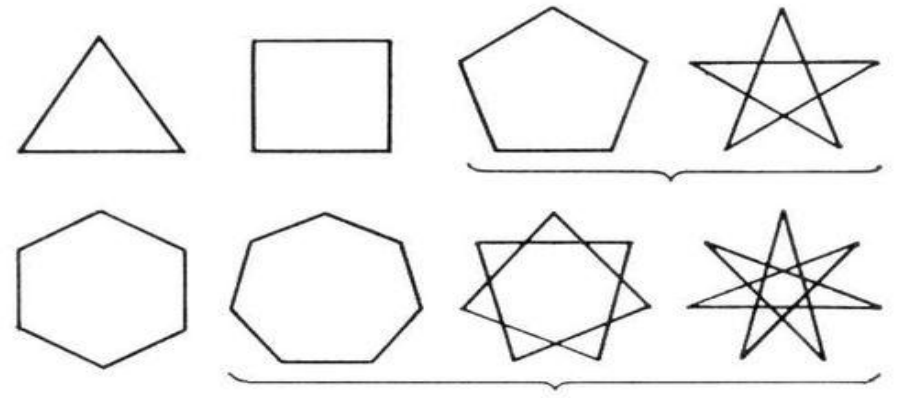
Вопрос



- Фигура, состоящая из трёх звеньев замкнутой ломаной.

треугольник






● Фигура, не имеющая углов.

окружность



Вопрос

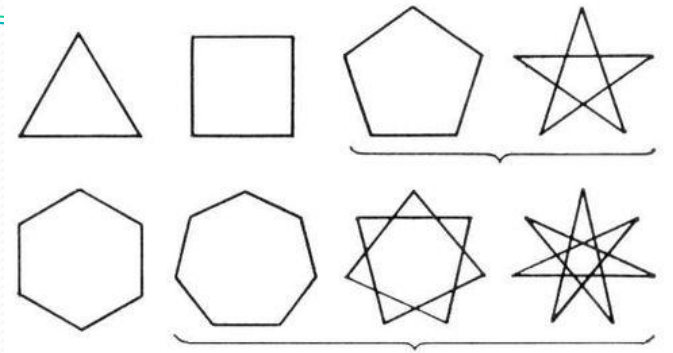
- Расстояние от центра до точки на окружности.



радиус



Вопрос



● Линия, соединяющая две точки.

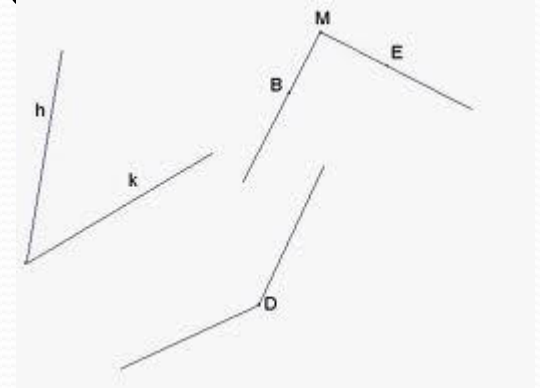
отрезок



Вопрос

- Луч , выходящий из вершины угла и делящий его пополам ?

биссектриса



Вопрос

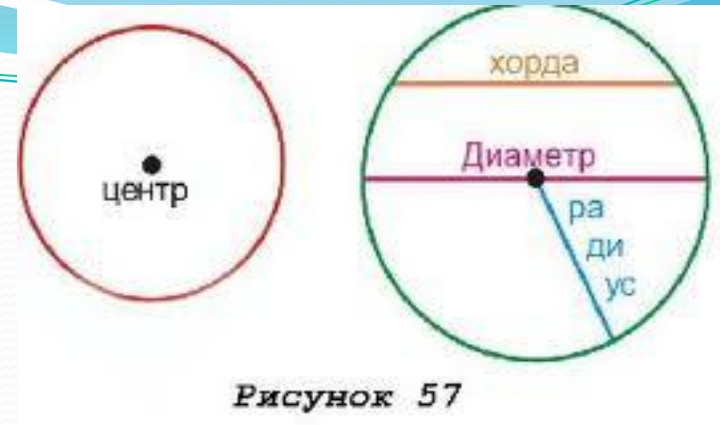



Рисунок 57

- Инструмент для построения окружности ?

циркуль



Вопрос

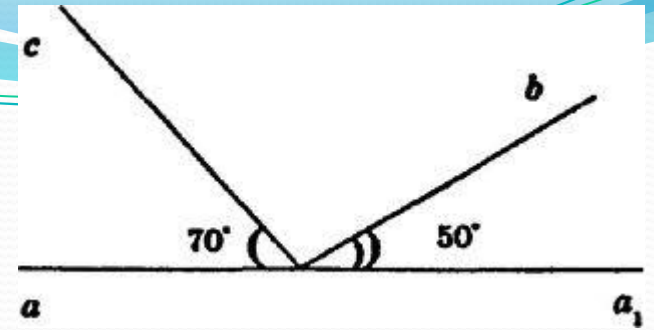


- Прибор для вычислений.

калькулятор



Вопрос



● Каким инструментом
пользуются для измерения
углов ?

транспортиром



Вопрос


Что такое АБАК ?

счётная доска



Вопрос

- Шаблон для чертежа.



лекало



Вопрос

● Два землекопа
выкапывают 2 м канавы
за 2 ч. Сколько
землекопов за 5 ч
выкопают 5 м канавы?
2 землекопа.



Вопрос


- Единица площади, равная 10000 кв.м .

гектар



Вопрос

● Дюжина



12



Вопрос

- Мера веса равна 16 кг

пуд



Вопрос



- Русская мера длины ,
соответствующая
современным 54 см

ЛОКОТЬ

