

Математик

а

Задания для устного счёта на  
уроках математики  
в 4 классе.

(УМК «Школа России»)

Учитель начальных классов Лужской школы-интерната

Титова Ж.А.

# Расположи числа в порядке возрастания

222

63251

4363

552672

67823000

604

1678

32

# Круговые примеры

$$\begin{array}{r} 350 \times \\ 2 \end{array}$$

$$700 : 100$$

$$280 - 190$$

$$80 + 270$$

$$90 \times$$

3

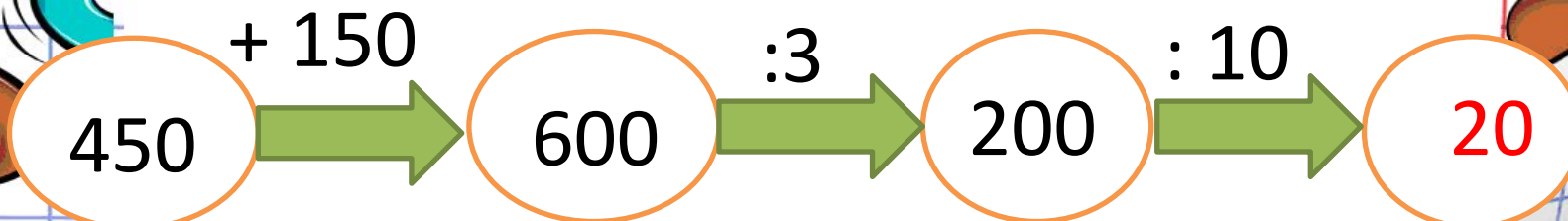
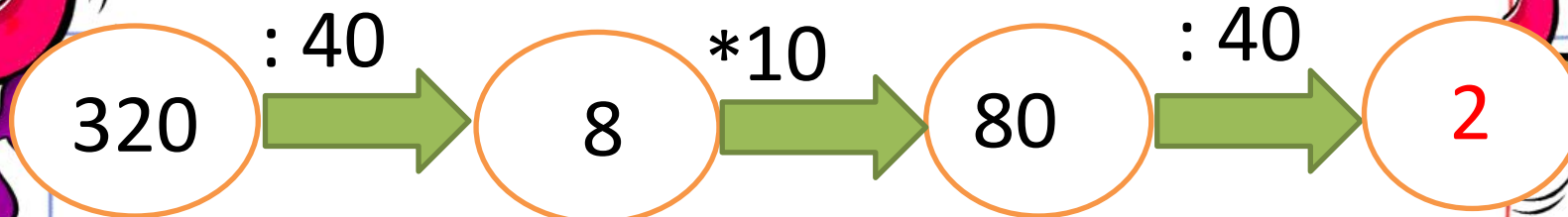
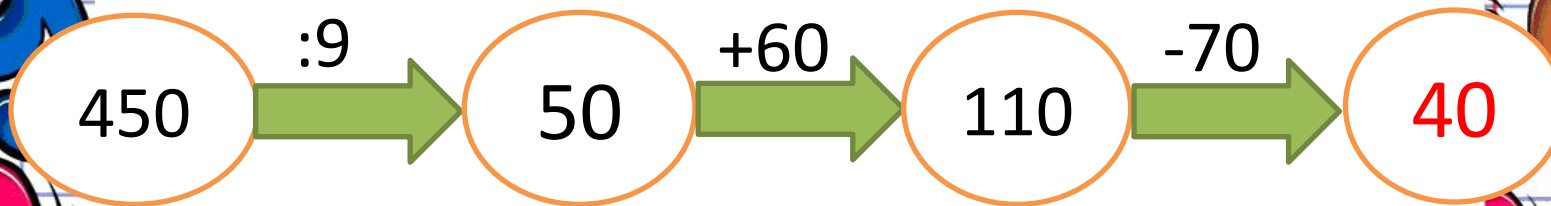
$$400 : 5$$

$$270 + 130$$

$$7 \times$$

40

# «Цепочки примеров»



# Исправь ошибки

1650 см = 16м650см

4 ч 15 мин = 455 мин



7 дм 5 см = 75 см

3 т = 3000кг

• Сколько лет было двадцатилетнему человеку четыре года назад?



# Заполни пропуски.

<b>1 множитель</b>	<b>4</b>	<b>6</b>	<b>3</b>	<b>18</b>	<b>20</b>
<b>2 множитель</b>	<b>14</b>	<b>15</b>	<b>17</b>	<b>4</b>	<b>5</b>
<b>Произведение</b>	<b>56</b>	<b>90</b>	<b>51</b>	<b>72</b>	<b>100</b>

Вставьте пропущенные числа так, чтобы равенства были верными.

$$78 \text{ см} = \square \text{ дм } \square \text{ см}$$

$$805 \text{ см} = \square \text{ м } \square \text{ дм } \square \text{ см}$$

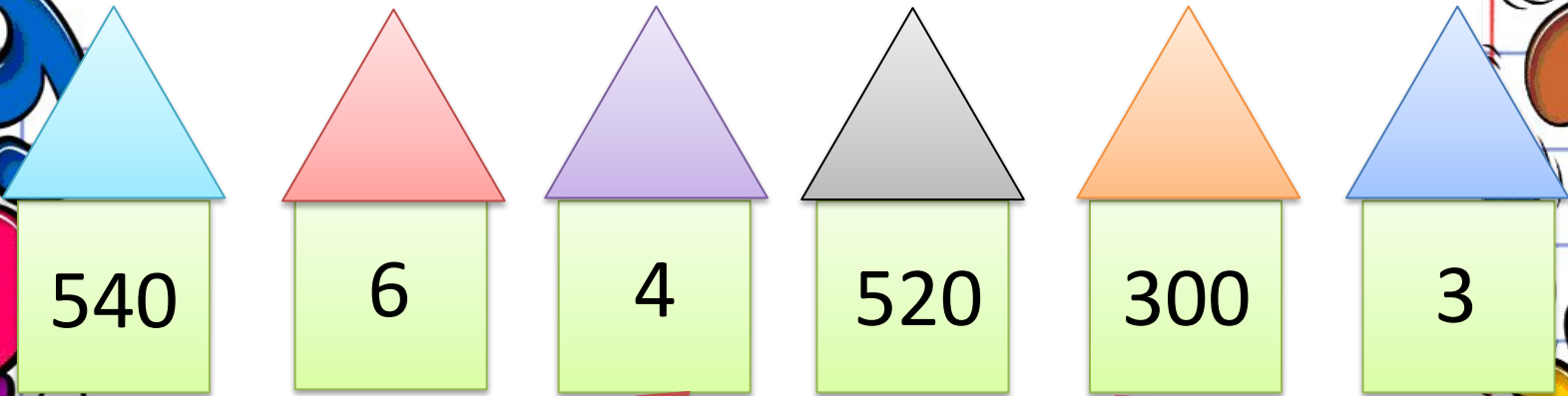
$$65 \text{ дм} = \square \text{ м } \square \text{ дм } \square \text{ см}$$

$$4 \text{ м } \square \text{ дм } 3 \text{ см} = \square 6 \square \text{ см}$$





# Игра «Почтальоны»



$$400 - 200 : 2$$

$$48 : (8 \times 2)$$

$$600 - 400 : 5$$

$$84 : (7 \times 2)$$

$$84 : (7 \times 3)$$

$$560 - 160 : 8$$

Выбери только те уравнения, которые решаются делением.

$$x : 9 = 9000$$

→  $x * 5 = 4500$

→  $100 * y = 6800$

→  $7000 : a = 100$

→  $101 : x = 1$

$$x : 1 = 999$$

# Заполните пропуски.

$$9\text{ц } 67\text{ кг} = 967\text{ кг}$$

$$5\text{м } 5\text{ см} = 505\text{ см}$$

$$2\text{ч } 17\text{ мин} = 137\text{ мин}$$

## Сравните.

$$7\text{ч} < 700\text{ мин}$$

$$8\text{м}7\text{дм} = 87\text{дм}$$

$$1948\text{кг} < 2\text{т}$$

$$90\text{мм} < 9\text{дм}$$

У Маши было **120** рублей. Она истратила  $\frac{3}{4}$  этих денег на покупку фломастеров. Сколько денег истратила Маша?



Выберите верные записи.

Составьте из соответствующих  
СЛОГОВ СЛОВО.

$1\text{ м} = 100\text{ см}$  **З**

$9 : 9 = 1$  **Д**

$0 : 1 = 1$  **П Р А**

$0 : 10 = 10$  **А Р**

$4\text{ м}^2 > 400\text{ см}^2$  **И Ч**

$P = a * b$  **Д Р**

$1\text{ ч} = 100\text{ мин}$  **А М**

**О**

**Е**

# Круговые примеры

$$\begin{array}{r} 350 \times \\ 2 \end{array}$$

$$700 : 100$$

$$280 - 190$$

$$80 + 270$$

$$90 \times$$

3

$$400 : 5$$

$$270 + 130$$

$$7 \times$$

40

# Заполни пропуски.

<b>1 множитель</b>	<b>4</b>	<b>6</b>	<b>3</b>	<b>18</b>	<b>20</b>
<b>2 множитель</b>	<b>14</b>	<b>15</b>	<b>17</b>	<b>4</b>	<b>5</b>
<b>Произведение</b>	<b>56</b>	<b>90</b>	<b>51</b>	<b>72</b>	<b>100</b>

# Заполните пропуски.

$$9\text{ц } 67\text{ кг} = 967\text{ кг}$$

$$5\text{м } 5\text{ см} = 505\text{ см}$$

$$2\text{ч } 17\text{ мин} = 137\text{ мин}$$

$$153\text{ ц} = 15\text{ т } 3\text{ ц}$$

$$58\text{дм } 73\text{мм} = 5\text{ м } 8\text{ дм } 7\text{ см } 3\text{ мм}$$

## Сравните.

$$7\text{ч} < 700\text{ мин}$$

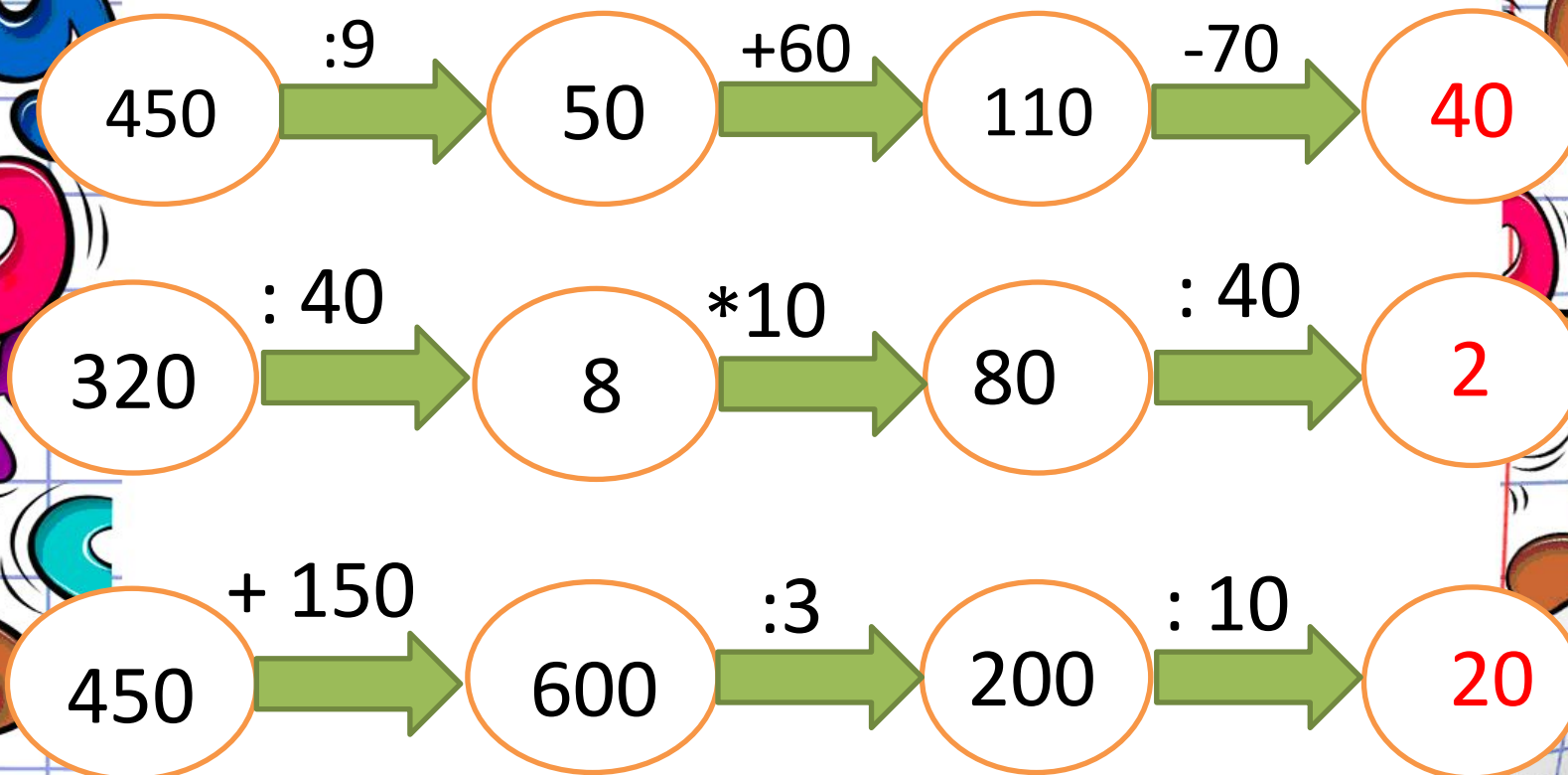
$$8\text{м}7\text{дм} = 87\text{дм}$$

$$19\text{ц}48\text{кг} < 2\text{т}$$

$$90\text{мм} < 9\text{дм}$$



# «Цепочки примеров»



# СПАСИБО ЗА РАБОТУ!

- 1.
- 2.
- 3.
- 4.
- 5.

<http://gorod.tomsk.ru/uploads/4171/1250012060/vesi.jpg>

<http://img-fotki.yandex.ru>

[http://www.rspb.org.uk/images/cache/jackdaw\\_300\\_tcm9-139958\\_v2.jpg](http://www.rspb.org.uk/images/cache/jackdaw_300_tcm9-139958_v2.jpg)

<http://s40.radikal.ru/i090/1106/83/8801bfd3065b.jpg>

<http://www.state.nj.us/dep/parksandforests/calendar/images/train.jpg>