


СМЕШАРИКИ







Вспомни правило



Найди соседей числа

5

8

9



Прочти выражения

$$6 + 2 = 8$$

$$10 - 8 = 2$$



Продолжи ряд

1, 3, 5, ...

2, 4, 6, ...

0, 5, ...



Назови линии





Реши уравнения

$$3 + X = 8$$

$$X + 7 = 10$$






Вставь


пропущенное число

ПРОПИСЬ стр. 50 №4










Решить задачу

Стр. 163 №3





ФИЗМИНИУТКА





Найди разность числа

Стр. 164 №4





Посчитай



Три ромашки-
желтоглазки,
Два весёлых василька
Подарили маме дети.
Сколько же цветов в
букете?



Кто там в роще
«тук-тук-тук»?

Это дятел поднял стук.

И ещё двух слышу я.

Сколько дятлов здесь

друзья?



Картошки много
накопали,
Здесь 3 мешка,
там целых 5.

Так сколько же мешков
собрали?

Кто мне поможет
сосчитать?

8



Постирала мама с дочкой
Десять носовых
платочков.

Четыре подсохло -
гладить их.

Сколько штук ещё стирать?



На тарелочке семь слив,
Вид их очень уж красив.
Съел четыре сливы Павел.
Сколько мальчик слив
оставил?



В шкафу на полочке 6
книг.


Я прочитала две из них.

А сколько книг ещё читать?


Вы это можете сказать?



Пять синиц на ветку
сели,
К ним две галки
прилетели.
Сосчитайте быстро,
детки,
Сколько птиц сидит
на ветке?



Вот девять маленьких
ребят,
Они на двух скамьях сидят.
Семь ребятишек на одной,
А сколько деток на другой?





Купила школа для детей
Три белых, шесть цветных мячей.
Так сколько же всего мячей
Купила школа для детей?



Дом. задание

Стр. 169 №3

Желаем
успехов!

