

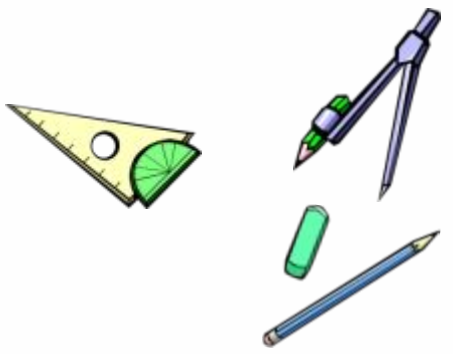


**3 сыйныфта
математика дәресе
Тема: «9 санын тапкырлау.
9 га бүлү».**





Башланып китте дәрес,
Без матур утырабыз.
“4”ле, “5”ле билгеләрен
Без көн дә арттырабыз.





Белемнәрне бәяләү карточкасы

1	2	3	4	Нәтижә





*31 гыйнвар.
Класс эше.*





Уен «Ышанам- ышанмыйм».



Яшел – «эйе»

Кызыл – «юк»

Леопард



7 не ничэгэ тапкырласаң 21 була?

$$7 * \square = 21$$

- Тапкырлау компонентларын атагыз.
- Тапкырлау һәм бүлү бер-берсе белән ничек бәйләнгән?



Уен «Эндәшмә»

Алгоритм буенча эшләгез

1. Аңлатманы игътибар белән карагыз.
2. Гамәл тәртибен искә төшерегез.
3. Җавапны дәфтәрегезгә язып куегыз.

$$6*2+2*7$$
$$18:2-12:6$$
$$9*8=81:9$$



Ак аю



Тема: «9 санын тапкырлау. 9 га бүлү».

***Максат: 9 га тапкырлау һәм бүлү
таблицасын төзү һәм иштә калдыру.***







$$9 \cdot 9 = 81$$

I ысул: $72 + 9 = 81$

II ысул: $9 + 9 + 9 + 9 + 9 + 9 + 9 + 9 + 9 = 81$



III ысул: Кулларыгызны рәсемдә күрсәтелгәнчә куегыз.



9*3 тапкырлау өчен, сулдан өченче бармакны бөгәбез.
Сулда ике бармак – дистәләр, уңда жиде бармак – берәмлекләр (27) килеп чыга.



Куян



Ял вакыты



Кар бөртеге һәм кояш нуры



Исәплә, жавапларын гына
өтер аша яз.

$$\begin{array}{ccc} 9*6 & 9*7 & 9*8 \\ 9*3 & 9*5 & 9*4 \end{array}$$





Тикшерү.

54, 27, 63, 45, 72, 36.



Мөстәкыйль эш.

$$(36-27)*9$$

$$(45+36):9$$

$$100-9*9$$

$$5*(27:3)$$





Тикшерү.

$$(36-27)*9=81$$

$$(45+36):9=9$$

$$100-9*9=19$$

$$5*(27:3)=45$$



Мәсьәләләр чишү

№6, 23 нче бит.



Кыскача язылыш.

2г. – 40л.

5г. - ?





Чишү:

$$40:2*5=100$$

Жавап: 100 лампочка.



Тестның жаваплары

1 - а

2 - в

3 - б

4 - б

5 - а



Рефлексия

- Мин өйрәндәм...
- Миңа кызыклы булды...
- Миңа авыр булды...





Өй эше:

1. Таблицаны ятлау.
2. I группа - № 7
II группа - №8
III группа - 9*, 23 нче бит.
(1 сен сайлап алырга).



Дәрес тәмам