


Школа России


4 класс



Устный счёт к уроку № 4

Алгоритм письменного вычитания чисел

Устный счёт



Запишите ответы в тетрадь.

1. Найдите сумму чисел **360** и **400**.
2. Разность чисел **460** и **370**.
3. На сколько **370** меньше чем **900** ?
4. Во сколько раз **440** больше, чем **220** ?
5. Вычитаемое **100**, разность **460**. Найдите уменьшаемое.
6. Второе слагаемое **370**. Сумма равна **800**. Найдите первое слагаемое.
7. На сколько нужно увеличить **400**, чтобы получить **580** ?
8. Во сколько раз увеличили **120** и получили **360** ?
9. Делитель **3**. Частное **300**. Найдите делимое.
10. Произведение чисел **220** и **2** уменьшить на **400**.
11. Число **389** уменьшить на **8** десятков.
12. Сколько нужно прибавить дм к **45 дм**, чтобы получить **6 м**.
13. Найдите $\frac{1}{4}$ от числа **200**.

Проверьте ответы:

**760, 90, 530, 2, 560, 430,
180, 3, 900, 40, 309,
15, 50**

Вставьте пропущенные числа.

$$\underline{\quad} \text{ м } 23 \text{ см} = 523 \text{ см}$$

$$\underline{\quad} \text{ м } 15 \text{ см} = 815 \text{ см}$$

$$5 \text{ м } 8 \text{ см} = \underline{\quad} \text{ см}$$

$$6 \text{ м } 45 \text{ см} = \underline{\quad} \text{ см}$$

$$500 \text{ см} = \underline{\quad} \text{ дм}$$

$$600 \text{ см} = \underline{\quad} \text{ дм}$$

Решите задачи.


Магазин продал **600** тетрадей в клетку, в линейку в **2** раза меньше. Сколько всего тетрадей продал магазин?



900

тетрадей

На трёх полках **120** книг. На первой **35** книг, на второй в **2** раза больше, чем на первой. Сколько книг на третьей полке?



15 КНИГ

Пасечник выкачал из ульев **174 кг** мёда.
Из **6** ульев он выкачал по **20 кг**, а из
остальных по **18 кг**. Сколько ульев у
пасечника?



9