

2 класс

Арифметические действия над числами.

Аксёнова Е. А. МОУ ПСОШ №1

Что нужно сделать, чтобы выступить на Олимпийских играх по футболу?

- Собрать команду из лучших спортсменов.

- Выпустить рекламки для болельщиков.

- Достойно выступить на Олимпийских играх.

- Узнать, что такое Олимпийские игры.


- Узнать, когда проводятся Олимпийские игры?

- Начать тренировку.

Олимпийские игры.



храм Геры в Олимпии



Стадион.

II
V
Пять переплетенных колец на олимпийском флаге означают пять континентов.




Олимпийский огонь зажжен.

Олимпийские игры открыты.

Огонь будет гореть до последнего дня соревнований.



MOSCOW 1980




Черноморское побережье Кавказа. Сочи - место Олимпийских игр в 2014 г.



Имена прославленных футболистов.





Александр Кержаков - капитан сборной России

Александр Кержаков - капитан сборной России

Сергей Савиников встал "Локомотива"



Девятикратный чемпион России по футболу - московский "Спартак".

Соберём звёздную команду.

Перегрёбное

$$60 - 45 =$$

Андра

$$15 : 5 =$$

Сорум

$$3 \cdot 8 =$$

Бобровка

$$24 + 4 =$$

Ямбург

$$28 : 4 =$$



Соберём спортсменов по городам ХМАО

● $28 : 4$ Когалым

Сургут

● $30 : 5$

Мегион

● $2 \cdot 9$

Нижневартовск

● $7 + 23$ Покачи

● $15 : 5$ Югорск

● $6 + 54$ Нефтеюганск

● $24 + 4$ Нягань

● $60 - 45$ Ханты - Мансийск

● $3 \cdot 8$





Физкультминутка





Вотень оцнзкоблх мрчн сторт 32 рубл. Кробко мрчн мрчн кнпчх нз 24 рубл?



Цена	Количество	Стоимость
? р	8 м.	32 р
Одинаковая	? м.	24 р

1) $32 : 8 = 4$ (р) стоит 1 мяч

2) $24 : 4 = 6$ (м) можно купить

Ответ: 6 мячей можно купить на 24 рубля.

Физкультминутка



Математический футбол

27



$$81:(14-5) \cdot 3$$



$$5+5 \cdot 6-15$$

20

0



4

7

$$0 \cdot (6 \cdot 6)+4:4$$



1



$$(15:3)-49:(7 \cdot 7)$$



$$54-54:6-45$$

21

$$(7+7 \cdot 5):6$$

Молодцы!



Домашнее задание

С. 60 № 2, 4 б)

