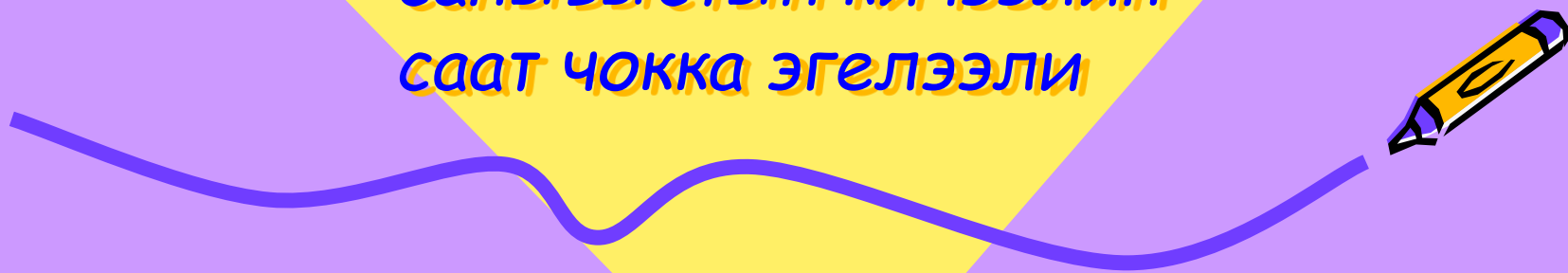



Конгавыс-даа эде каапты
кончуг дурген дорт тураал
чедип келген аалчыларга
чедиишкинни кузевишаан,
санывыстын кичээлин
саат чокка эгелээли





Болуктей кылыр ажыл

- Математиктиг пирамида



Коргузуглерни бодааш ,чурттун ,аян-чорукчунун адын тып

$40 : 8 = 5$

А

$24 : 3 = 8$

И

$72 : 8 = 9$

Ф

$12 : 4 = 3$

Н

$6 \times 7 = 42$

Я



$360 : 60 = 6$

С

$28 : 4 = 7$

К

$8 \times 8 = 64$

Й

$70 : 7 = 10$

Т



$450 : 9 = 50$

Д

8	3	50	8	42

5	9	5	3	5	6	8	64

3	8	7	8	10	8	3





$40 : 8 = 5$

$24 : 3 = 8$

$72 : 8 = 9$

$12 : 4 = 3$

$6 \times 7 = 42$

А

И

Ф

Н

Я



$360 : 60 = 6$

$28 : 4 = 7$

$8 \times 8 = 64$

$70 : 7 = 10$

$450 : 9 = 50$


С

К


Й

Т

Д



8	3	50	8	42
И	Н	Д	И	Я



5	9	5	3	5	6	8	64
А	Ф	А	Н	А	С	И	Й

3	8	7	8	10	8	3
Н	И	К	И	Т	И	Н



Индия - тывызыксыг чараш оран



Афанасий Никитин

(? – 1474/75)

А. Никитин – орус аян-чорукчу, садыгжы, чогаалчы. Ол Индияга Россиядан бир-ле дугаар барып четкеш, делегейге алдаржыткан




Столбиктой бижээш
бодаар.

• $424:2=$

• $246:3=$


• $342:2=$

• $15:6=$



Кичээлдин темазы

- Артыышкынныг
улелге



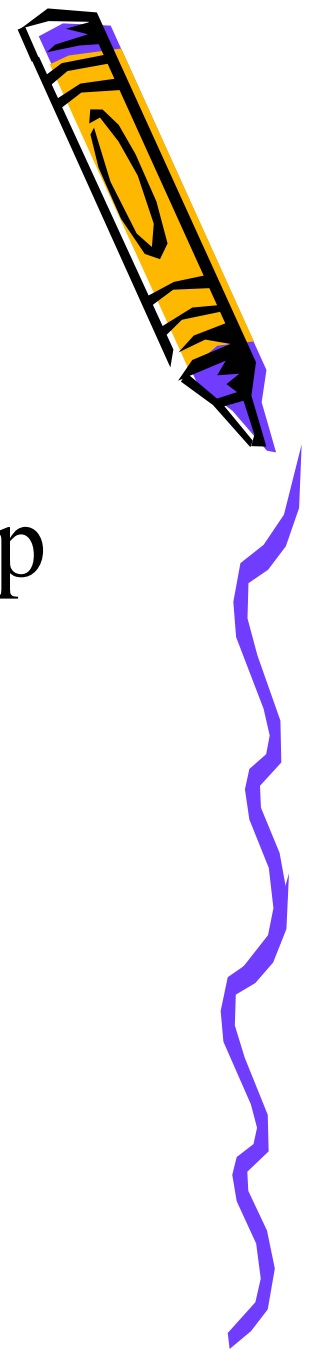
Дурум №1



- Артыышкынныг улелгени кууседип тура, унуп келген харыыны ийи сан-биле бижиир.
- Бирги санны-онаашкын
- Ийиги санны-артыышкын
- Улеттинниг : улеччи = онаашкын (артыышкын)



Дурум №2




- Улеп турувуста, артыышкын кезээде улeкчиден бичии болур

- $15:6=2(\text{арт } 3)$

- $3 < 6$



Чижектерни тайылбырлап тургаш, иелээ бодаар



• $49:8=$

$59:8=$

• $38:5=$

$45 :7=$

$64:9=$

$43:6=$



Болуктей кылыр ажыл.




- 3 уруг 7 конфетаны улешкен.1 уругда каш конфета барыл?
- 3 одуругга 25 оореникчини олурткан.
- 1 одуругда каш оореникчи барыл?
- 4 хааржакчыгашка 10 чуурганы суккан.1 хааржакчыгашта каш чуурга барыл?



Сула шимчээшкин


- Океаннын чалгыглары
- Оожум бисти чайгап туру
- Ол,бо талазынче
- Бурунгаар,аткаар
- Ору,куду.
- Олуттарывыска
- Оожум олураалы




Индий чаан



Африкан
чаан





Айтырыгларга харыыла


- Индий чааннын дензизи
 $5\text{т}500\text{кг}=\dots\text{кг}$
- Африка чаанынын дензизи
- $7\text{т} 350\text{кг}=\dots\text{кг}$
- Чааннын дургени $30\text{км}/\text{ш}$. 2ш
эрткенде ол кайы-хире ыракты
эрттерил?



№7 (ар.95).

Бот ажыл.

- 1 вар-баштайгы 4 чижек
- 2 вар-соолгу 4 чижек.




Частырыгыны тып

- $27:3=7$ (арт 4)

- $58:9=7$ (арт 5)

- $45:7=6$ (арт 3)




Ребустарны тып

• ? : 9 = 7 (арт 4)

• ? : 5 = 8 (арт 3)

• ? : 7 = 5 (арт 2)

• ? : 5 = 9 (арт 1)



Артышышкынныг улелгенин хыналдазы

- 1. Онаашкынга улелкчини ковудедиштер.
- 2. Унуп келген санга артышышкынны кадыштар.
- $13:4=3(\text{арт}1)$
- $3 \times 4 + 1 = 13$



Туннелден ундур

- Мен бо кичээлде... билип алдым.
- ...кылып шыдаан мен.
- Менээ... солун болду.

Онаалга
Ар.95 №6

