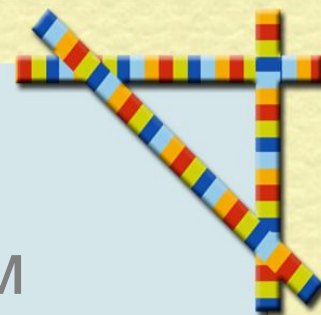




456

116



Мы рады видеть Вас на открытом уроке математики во 2 «А» классе.

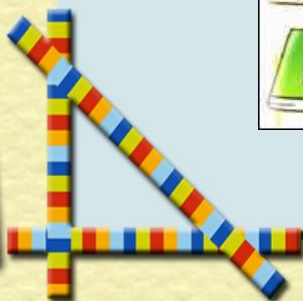

908



400



777



# Астрид Линдгрен

«Малыш и Карлсон, который живёт на крыше»








**Фрекен Бок не отпускает  
Малыша играть.**







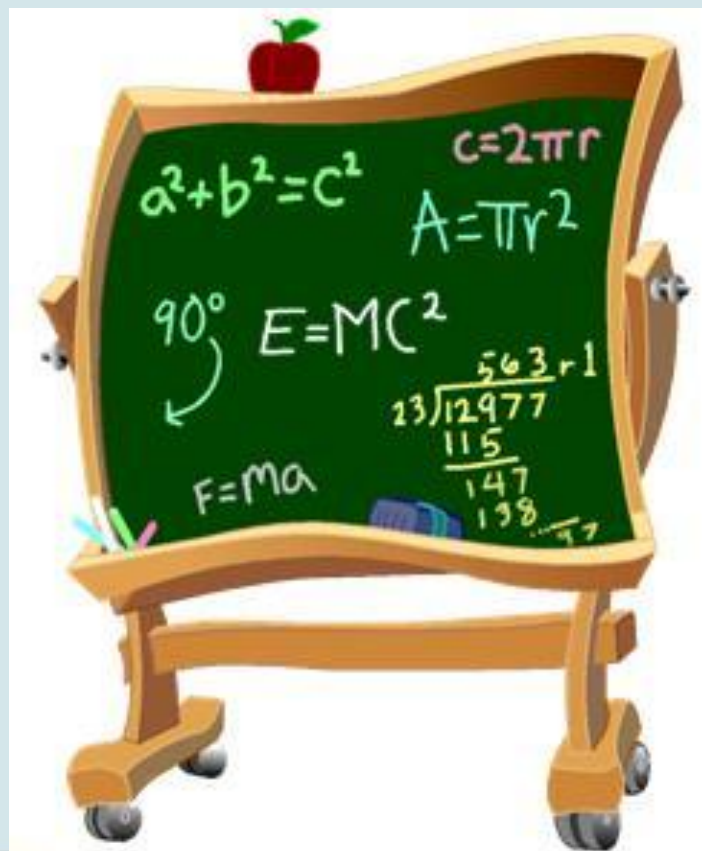
**Малыш должен выполнить задания.  
Помогите ему!**




# Сложение и вычитание трехзначных чисел



# УСТНЫЙ СЧЁТ





Посчитайте

от 358 до 362

от 711 до 705



Назовите последующее число

579

580

699

700







Назовите предыдущее число



420

419

900

899



Прочитайте числа:

237

750

906



Сколько сотен, десятков, единиц Вырази числа в единицах длины







Назовите и запишите число, в котором

3 сотни 4 десятка 2 единицы      342



7 сотен 6 десятков      760

4 сотни 5 единиц      405





Запишите цифрами числа:

двести тридцать четыре      234



четыреста пятьдесят шесть      456



пятьсот шестьдесят семь      567



триста сорок пять      345



сто двадцать три      123





Запишите эти числа в  
порядке возрастания

123 234 345 456 567

Найдите закономерность и  
продолжите ряд еще на 2 числа

678 789





Сравните числа:

36

201

111

9

430

408

216

629




Сравните меры длины:



4 м 5 см  285 см

72 дм 8 см  8 м 27 см

5 м 84 см  584 см


81 дм 6 см  9 м 9 см







Какой подарок получит Малыш  
на день рождения?



$$200 + 400$$

$$521 + 246$$

$$500 + 300$$

$$678 - 325$$



$$600 \quad 800$$



$$767 \quad 353$$






# Физкультминутка математическая







# ПРАВИЛА СПОДАЩИМ И ВЛИУИТЪЩИМ ТРАНСЦИДУЦИЈУ ЧИСЕЛ



↓

	с	д	е
+			
-			





# Самостоятельная работа



**1 в.**

$$857 - 530$$

$$416 + 102$$


**2 в.**

$$530 + 327$$

$$518 - 416$$

**1. Вычислите, записывая примеры  
в столбик.**

**2. Объясни своё решение соседу по парте.**







# Проверяем

$$\begin{array}{r} 530 \\ + 327 \\ \hline 857 \end{array}$$

$$\begin{array}{r} 857 \\ - 530 \\ \hline 327 \end{array}$$

$$\begin{array}{r} 416 \\ + 102 \\ \hline 518 \end{array}$$

$$\begin{array}{r} 518 \\ - 416 \\ \hline 102 \end{array}$$








## Задача



Фрекен Бок для дня рождения  
Малыша испекла 248 булочек,  
а плюшек 179


Придумай вопрос и реши задачу





# Итог урока

- 
- 
- Как же складывают и вычитают трёхзначные числа?
  - Какие же цели вы сегодня ставили?
  - Достигли вы этих целей? Докажите.
  - У кого остались затруднения по новой теме?



Мы продолжим работу на следующих уроках.

У вас все получится!!!





Какой шарик ты подаришь

Малышу на день рождения?

